








	問題1(距離計測)	問題2(クイズ)	問題3(X問題)
ドライブクラス	無し	必須解答 誤答減点1点	選択解答 ※下記参照
エンジョイクラス	100m単位 (0.1kmの誤差で減点1点)	必須解答 誤答減点1点	選択解答 ※下記参照
ダンガンクラス	10m単位 (0.01kmの誤差で減点1点)	必須解答 誤答減点1点	必須解答 誤答1点

※ドライブクラスとエンジョイクラスの問題3(X問題)の採点は、全問正解ならボーナス点2点。1問でも誤答がある場合は減点2点です。解かなかった場合は、ボーナス、減点とも無しです。解く場合は、全てに解答して下さい。無回答がある場合は、誤答と判断します。

問題1(距離計測)スタートからゴールまでの各CP間の距離を計測して下さい。

問題2 ※今回も減点は1点です。

問題A=全コース	減点=1点	問題B=全コース	減点=1点		
スタートからゴールの間にトンネルはいくつくるか？ 隧道だけで、高速道路の高架下などは含まない。		次の外灯が出てくる順番を答えよ			
		(A) 	(B) 	(C) 	
		(D) 	(E) 	(F) 	
問題C=8CP	減点=1点	問題D=9CP	減点=1点		
ニャロメがいるのは、何工房か？		9CPの標高は、スタートより何m高いか？低い？ ネットで出てくる標高はバラバラです。現地で確認できる標高で答えよ。			
		※スタート地点の標高は、駐車場から道路に出る際、左右確認すると判ります。			

問題3 X問題

※問題X-1~X-8は、あるキーワードの順番にコース上のどこかに出てきます。

問題X-1	減点=1点	問題X-2	減点=1点	問題X-3	減点=1点
この太陽光発電パネルは、元々何 だったところに設置されているか？		この石碑は、何箇の近くにある か？		このポストは、何CPにあるか？	
この蔵飾りは、何CPから見える か？		このおむすび(?)2つは、何箇内 にあるか？		この木像は、何処にいるか？	
この動物注意標識は、何箇先にあ るか？		この祠は、何CPの側にあるか？			