

	問題1(距離計測)	問題2(クイズ)	問題3(X問題)
ドライブクラス	無し	必須解答 誤答減点1点	選択解答 ※下記参照
エンジョイクラス	100m単位 (0.1kmの誤差で減点1点)	必須解答 誤答減点1点	選択解答 ※下記参照
ダンガンクラス	10m単位 (0.01kmの誤差で減点1点)	必須解答 誤答減点1点	必須解答 誤答1点

※ドライブクラスとエンジョイクラスの問題3(X問題)の採点は、全問正解ならボーナス点2点。1問でも誤答がある場合は減点2点です。解かなかった場合は、ボーナス、減点とも無しです。解く場合は、全てに解答して下さい。無回答がある場合は、誤答と判断します。

問題1(距離計測)スタートからゴールまでの各CP間の距離を計測して下さい。

※今回、試走車の違いで試走Aと試走Bがあります。どちらの試走の距離を解答するか解答用紙に記入してください。記載なき場合は、試走Aで採点します。

問題2 ※今回も減点は1点です。

問題A	減点=1点	問題B=スタート	減点=1点	問題C=3CP	減点=1点
(スタートからゴール) トンネルはいくつぐるか？ 鉄道や道路の高架下やスノーシェッドなどは含まない。		「安中市へようこそ」の案内看板には動植物の絵が描かれているが、動物は何が描かれているか？		トイレ横のこの部分は、周りのブロックと色が違うが、何を表わしているか？	
					
問題D=3CP	減点=1点	問題E=4CP	減点=1点	問題F=5CP	減点=1点
「道の駅 雷電くるみの里」説明板によると、道の駅の施設などは、長野県と東御市が整備、管理しているが、面積ではどちらの方が広いか？		菅平口のバス停には、2路線のバスが停まるが、「真田線」のバスは、平日、上下合わせて何本あるか？		「信州菅平高原」案内板には、5CP周辺にバス停が記載されているが、5CPのバス停(菅平高原ダボス)の前後のバス停の名称は？ 4CPのバス停の路線図を覚えておいた方がいいかも。	
					











第10回 Okiraku Quiz Rally『グンマー帝国国境までドライブ』

問題-2

問題G=19図先	減点=1点	問題H=20図	減点=1点	問題I=24図先	減点=1点
<p>19図先にあるこの橋は、X問題の橋の何年前に竣工したか？ (写真は、反対向きに撮っています)</p>	<p>20図にある「塩野町」の石碑の上 面には、世界の各都市までの距 離が書かれているが、一番遠い のはどこ？</p>	<p>「遭難注意！！」の物騒な看板が 多数出てくるが、「遭難」の原因は 何か？ 答えが判るまで信じて進 んでください。</p>			
					

問題3 X問題

※問題X-2～X-5は、コース上のどこかに出てきます。

<p>問題X-1</p>	<p>減点=1点</p>				
<p>次のものは何CP(スタート、OD、ゴールも含む)の近くにあるか？</p>					
<p>(A)</p> 	<p>(B)</p> 	<p>(C)</p> 			
<p>(D)</p>  <p>CPから 右手前方 に見えます</p>	<p>(E)</p> 	<p>(F)</p> 	<p>(G)</p> 		
<p>問題X-2</p>	<p>減点=1点</p>	<p>問題X-3</p>	<p>減点=1点</p>	<p>問題X-4</p>	<p>減点=1点</p>
<p>この鳥居の近くにある橋の竣工年月は？</p>		<p>この庚申塔は何図先にあるか？</p>		<p>この防除用水を無断使用した場合の罰金は？</p>	
					
<p>問題X-5</p>	<p>減点=1点</p>				
<p>この鉄塔(見張り台?)は何図先にあるか？</p>					
