

| | 問題1(距離計測) | 問題2(クイズ) | 問題3(X問題) |
|----------|---------------------------|----------------|---------------|
| ドライブクラス | 無し | 必須解答 誤答減点1点 | 選択解答 ※下記参照 |
| エンジョイクラス | 100m単位 (0.1kmの誤差で減点1点) | 必須解答 誤答減点1点 | 選択解答 ※下記参照 |
| ダンガンクラス | 10m単位 (0.01kmの誤差で減点1点) | 必須解答 誤答減点1点 | 必須解答 誤答1点 |

※ドライブクラスとエンジョイクラスの問題3(X問題)の採点は、全問正解ならボーナス点2点。1問でも誤答がある場合は減点2点です。解けなかった場合は、ボーナス、減点とも無しです。解く場合は、全てに解答して下さい。無回答がある場合は、誤答と判断します。

問題1(距離計測)スタートからゴールまでの各CP間の距離を計測して下さい。

※今回、試走車の速いで試走Aと試走Bがあります。どちらの試走の距離を解答するか解答用紙に記入してください。記載なき場合は、試走Aで採点します。

問題2 ※今回も減点は1点です。

| 問題A | 減点=1点 | 問題B=スタート | 減点=1点 | 問題C=スタート | 減点=1点 |
|--|-------|--|---|--|---|
| (スタートからゴール)コース沿いにあるポストの数は、次の区間のどちらが多いか？コンビニ店舗前にある道路から離れたポストは除く。 ①:スタート~3CP ②:3CP~FCP | | 万座・鹿沢口駅前から出ているバスの行先はいくつあるか？ |  | 駅待合室にある「万座鹿沢口バス発車時刻表」にある3枚の写真に写っている人の内、女性と思われる人は何人か？ |  |
| 「笹平地区 急傾斜地崩壊対策事業概要」の説明板に出てくる年号で、新しいものは最も古いものから何年後か？ 月は無視し次の年を1年後と考えてください。 | | 「ホテル保護区では次のことを守ること。」の看板にあるひらがなで二番目に多いのは？「っ」のように小さい文字も同様に数え、濁音、半濁音は、例えば「ご」も「こ」と数えること。 |  | この石の名前の由来は？ |  |

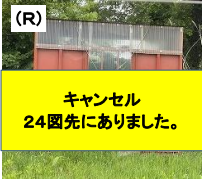





第79回 D-Wind Rally 『勝手にキャベツラリー2023』

問題-2

| 問題G=2CP | 減点=1点 | 問題H=2CP | 減点=1点 | 問題I=3CP | 減点=1点 |
|---|--|--|---|---|---|
| <p>壺恋郷土資料館の令和5年度企画展に展示されているスコップの説明には、何という言葉を知っていると発掘調査に関わったことがある関係者かもしれないと書かれているか？</p> |  | <p>壺恋郷土資料館の2階にある『消えた硫黄鉱山』の展示によると、「毛無隧道」が貫通したのはいつか？</p> |  | <p>熊野神社の拝殿までの階段は、道路面から鳥居がある場所まで(①)、鳥居から社務所がある場所まで(②)、社務所から石灯籠がある場所まで(③)、石灯籠から拝殿がある場所まで(④)の4つに分かれているが、同じ段数なのは、何番と何番か？ 小さな段差の階段も含めて教えてください。</p> |  |
| <p>問題J=3CP</p> <p>減点=1点</p> <p>熊野神社の拝殿にある『熊野神社鳥居建立寄付者芳名』にある苗字で一番多い苗字は？ 濁と沢は区別せずと同じ苗字として教えてください。</p> |  | <p>問題K=5CP</p> <p>減点=1点</p> <p>5CPの目標物のポールが寄贈されたのは、4CPの「大前橋」が竣工した何か月後か？ 日は無視し次の月を1か月後と教えてください。</p> |  | <p>問題L=5CP</p> <p>減点=1点</p> <p>5CPの側にある細原天満宮がこの地に遷されてから、今年で何年目か？ 次の年を2年目と考えてください。</p> |  |
| <p>問題M=8CP</p> <p>減点=1点</p> <p>愛妻の丘の「叫び台」の手すりなどに使われている丸太と踏み板に使われている板とでは、どちらが多いか？</p> |  | <p>問題N=FCP</p> <p>減点=1点</p> <p>壺恋村運動公園にある「せいしゅんはし」の欄干には、丸い穴がいくつ開いているか？ 橋の先は中学校なので、橋の先には立ち入らない様に。</p> |  | | |

問題3 X問題

※問題X-1～X-6は、あるキーワードの順番にコース上のどこかに出できます。

| 問題X-1 | 減点=1点 | 問題X-2 | 減点=1点 | 問題X-3 | 減点=1点 |
|-----------------------|---|---|---|--|---|
| この小屋は、何CPから何CPの間にあるか？ |  | この石碑で竣工を記念されている工事は、いつの何による被害をきっかけに施工されたものか？ |  | この事業説明板は、何CPの近くにあるか？ スタート、ゴール、OD、CP再スタートも含む。 |  |
| この古びた標識は、何図にあるか？ |  | この小さな祠は何CPにあるか？ スタート、ゴール、OD、CP再スタートも含む。 |  | このバスは、現役のところ何という会社で働いていたか？ |  |