

	問題1(距離計測)	問題2(クイズ)	問題3(X問題)
ドライブクラス	無し	必須解答 誤答減点1点	選択解答 ※下記参照
エンジョイクラス	100m単位 (0.1kmの誤差で減点1点)	必須解答 誤答減点1点	選択解答 ※下記参照
ダンガンクラス	10m単位 (0.01kmの誤差で減点1点)	必須解答 誤答減点1点	必須解答 誤答1点




※ドライブクラスとエンジョイクラスの問題3(X問題)の採点は、全問正解ならボーナス点2点。1問でも誤答がある場合は減点2点です。解かなかった場合は、ボーナス、減点とも無しです。解く場合は、全てに解答して下さい。無回答がある場合は、誤答と判断します。

問題1(距離計測)スタートからゴールまでの各CP間の距離を計測して下さい。

問題2 ※今回も減点は1点です。一部ボーナスクイズがあります。






問題A=スタート	減点=1点	問題B=5図先	減点=1点	問題C=1CP	減点=1点
大前駅ホームにあるこの道祖神の向かって右側には何と書かれているか？		この神社が、鎌原神社になったのは、いつか？		孺恋村農産物等直売所『あさまのいぶき』の前にあるこの説明坂では、キャベツの出荷量が地球1周になると説明されているが、キャベツの大きさを何cmとして計算しているか？	
「浅間山別当 延命寺跡」説明坂によると、この案内板がある場所に一番近い場所にあった建物は何か？		天明3年の浅間山大噴火で、鎌原村では165頭の馬が埋没したが、ODの常林寺の石柱手前にある説明坂によると、常林寺があった小宿村で埋没した馬の何倍か？四捨五入して小数点以下1桁まで答えよ。		孺恋高校スケートリンクの時計は、何年度の卒業生が寄贈したものか？	

<p><b>問題G=3CP 減点=1点</b> 3CP地点は、何処から11kmか？</p> 	<p><b>問題H=3CP 減点=1点</b> (3CP再スタート)「大笹宿について」の説明板によると、鎌原村などが埋没した浅間山の天明の大噴火で、大笹村はある恩恵を受けている。それは何か？</p> 	<p><b>問題I=5CP 減点=1点</b> 『鳥居峠』の案内板などを設置するために国有林を借り受けているが、その内容が書かれた看板に誤字と思われる文字がある。何か？</p> 
<p><b>問題J=6CP 減点=1点</b> (6CP再スタート)『たまだれの滝』の入口にある「鹿沢温泉」の案内板の地図にあるこの黒い線は、何を表わしていると考えられるか？</p>  	<p><b>問題K=6CP 減点=1点</b> (6CP再スタート)『たまだれの滝』へ行く橋の踏み板の枚数は？</p> 	<p><b>問題L=7CP</b> <b>ボーナスクイズ</b> 《コンコン平までの行程の約1/2》湯の丸高原のコンコン平へ行く途中(リフト降り口近く)にあるこの案内板に書かれている距離をすべて足すといくつになるか？</p> <p>正解の場合:ボーナス点1点 未回答の場合:減点なし 不正解の場合:減点1点</p> 
<p><b>問題M=7~8CP 減点=1点</b> 7CP~8CP間の距離の内、ダート区間の距離の比率は何割か？四捨五入して整数で答えよ。</p> 	<p><b>問題N=8~9CP 減点=1点</b> 8CP~9CP間の距離の内、ダート区間の距離の比率は何割か？四捨五入して整数で答えよ。</p> 	<p><b>問題O=9CP 減点=1点</b> (9CP再スタート)『溶岩樹型』の孺恋かるたの看板は、何番の溶岩樹型の側に立っているか？</p> 

<p>問題P=45問 減点=1点</p>	<p>問題Q=45問 <b>ボーナスクイズ</b></p>	<p>問題R=45問 <b>ボーナスクイズ</b></p>
<p>鬼押し出し園の入園券売り場手前にある「鬼押し出し園遊歩マップ」によると、モデルコース3コースの内、歩行の平均速度が一番早いのは？</p>	<p>鬼押し出し園内の売店の近くのここにあるのは何か？ ※入園料が必要(650円)</p>	<p>鬼押し出し園内にある「蜀山人の碑」の横にあるこの説明板にある天明泥流絵図は、どの付近を描いた絵か？</p>
	<p>正解の場合:ボーナス点1点 未回答の場合:減点なし 不正解の場合:減点1点</p> 	<p>正解の場合:ボーナス点1点 未回答の場合:減点なし 不正解の場合:減点1点</p> 

問題3 X問題

※問題X-1~X-6は、あるキーワードの順番にコース上のどこかに出てきます。

<p>問題X-1 減点=1点</p>	<p>問題X-2 減点=1点</p>	<p>問題X-3 減点=1点</p>
<p>この鹿の像がある施設名は？ 少し道から奥まっています。</p>	<p>この句碑は何CPにあるか？ スタート、ゴール、OD、CP再スタートも含む。</p>	<p>この碑は、何を達成した先人たちの偉業の記念碑か？</p>
<p>(A)</p> 	<p>(A)</p> 	<p>(O)</p> 
<p>問題X-4 減点=1点</p>	<p>問題X-5 減点=1点</p>	<p>問題X-6 減点=1点</p>
<p>この看板がある施設は、何の駅と名乗っているか？</p>	<p>この模様は、何CPから見えるか？</p>	<p>「浅間山噴火対策の第一次交通規制地点」が、コース上にあるが、何CPの近くにあるか？ (写真はありません)</p>
<p>(O)</p> 	<p>(S)</p> 	<p>(Z)</p>