

問題1 (距離計測) スタートからゴールまでの各CP間の距離を計測して下さい。

- ◇エンジョイクラス: 10mの位は四捨五入して、100m単位で答えて下さい。
(0. 1kmの誤差で減点1点)
- ◇ダンガンクラス : 1mの位は四捨五入して、10m単位で答えて下さい。
(0. 01kmの誤差で減点1)

問題2 ※今回も減点は1点です。

問題A=スタート	減点=1点	問題B=スタート	減点=1点	問題C=スタート	減点=1点
龍神宮への階段は何段あるか？ コンクリートの階段部分の段数を数えてください。		龍神宮之碑建立寄進芳名者には、 寿司屋は何軒あるか？		「龍宮の傳説口口相承龍宮本記」の 石碑が建立されたのは、龍宮本記が 記された時から何年後か？次の年を 1年後として考えてください。	
					
問題D=スタート	減点=1点	問題E=1CP	減点=1点	問題F=1CP	減点=1点
「広瀬川サイクリングロード案内図」 には、いくつ橋があるか？		この案内板の右横にあるのは、何を 楽しむ人に対する注意書きか？		さちの池にある鶴の噴水を寄贈した 人は、いつどこからどこに向かっ たか？	
					
問題G=1CP	減点=1点	問題H=1CP	減点=1点	問題I=3CP 減点=1点	
この像の製作者は？		-2012土木学会選奨土木遺産- 「前橋地先の利根川の護岸と水制 工」で紹介されている遺産で、完 成年度が一番新しいものは、何を 再利用して施工されているか？		敷島駅から電車に乗るにはどうす ればいいのか？	
					

<p>問題J=3CP 減点=1点</p>	<p>問題K=4CP 減点=1点</p>	<p>問題L=5CP 減点=1点</p>
<p>敷島駅前にある荒井商店内のここに掛かっているのは何？ ※お店の人には了解を得ていますが、質問などしないでください。</p>	<p>不動明王の由来を記した石板裏面にある関係者の氏名で、間違っているとされる漢字を正してください。</p>	<p>長井坂城は沼田街道にあったが、どこどこの宿場町の間にあったか？ 現地で見られる情報で教えてください。</p>
		

<p>問題M=6CP 減点=1点</p>	<p>問題N=6CP 減点=1点</p>	<p>問題O=7CP 減点=1点</p>
<p>昭和村案内板に記された標高で、一番高い標高と一番低い標高の差は何mか？</p>	<p>この説明板によると、展望デッキからは「日本の百名山」の何%を望むことができるか？ 四捨五入して整数で答えよ。</p>	<p>赤城林間学園のバス停によると、赤谷・桜循環線のすべてのバス停にバスが通るのは、1年の内何日間か？</p>
		

<p>問題P=8CP 減点=1点</p>	<p>問題Q=8CP 減点=1点</p>	<p>問題R=FCP 減点=1点</p>
<p>8CP地点の真上を関越道が通っているが、元々は何が通る計画のルートだったか？ ゴールの沼田市歴史資料館で答えを探してください。</p>	<p>コマ図22図出口地点から8CP地点までのコースの距離は、関越道の同区間の距離より何km長いのか？ 四捨五入して小数点以下一桁まで答えよ。</p>	<p>沼田市歴史資料館の「近現代の沼田」の展示パネルには同じ場所の写真が2枚あるが、それはどこか？ ※クイズを置くことは了承を得ていますが、館員の方に質問などしないでください。</p>
		

ポスタークイズ 加点=1点

21年11月現在、その何故か。正解不正

キャンセルとします(2022. 05. 10 公式通知-4)

第75回 D-Wind Rally 『ぐんま「みず」ものがたり』

問題-3






問題3 X問題

コース上のどこかに出てきます。

◇エンジョイクラスは、問題X-1～X-6は、解答不要です。

◇ダンガンクラスは、全て解答して下さい。

※問題X-1～X-6は、あるキーワードの順番に出てきます。

問題X-1	減点=1点	問題X-2	減点=1点	問題X-3	減点=1点
この石像は、何図先、または何図にあるか？	<p>(A)</p> 	今回のコースで唯一走る林道は、何図先にあるか？	<p>(A)</p> 	これは誰？	<p>(M)</p> 
「ぐんま名所百選」の第何位か？	<p>(N)</p> 	この石碑を寄付したのは誰？	<p>(T)</p> 	この地蔵は何図先、または何図にあるか？	<p>(U)</p> 