

問題1(距離計測) スタートからゴールまでの各CP間の距離を計測して下さい。

- ◇エンジョイクラス: 10mの位は四捨五入して、100m単位で答えて下さい。
(0. 1kmの誤差で減点1点)
- ◇ダンガンクラス : 1mの位は四捨五入して、10m単位で答えて下さい。
(0. 01kmの誤差で減点1)

◇ドライブクラス:







各CP間の距離が、下記のどの範囲に入るかを答えてください。
~7km~10km~13km~16km~

解答用紙の記入欄に下記の番号(①、②...)を記入してください。

- ①Start~1CP
- ②1CP~2CP
- ③2CP~3CP
- ④3CP~4CP
- ⑤4CP~5CP
- ⑥5CP~6CP
- ⑦6CP~7CP
- ⑧7CP~8CP
- ⑨8CP~FCP



問題2 ※今回も減点は1点です。

<p>問題A=スタート 減点=1点</p> <p>塩原太助記念公園にある宝物庫の向かって左にある「塩原翁建碑寄付者」で、ここから一番遠方の都道府県の人はどこか?</p> 	<p>問題B=OD 減点=1点</p> <p>「竣工記念碑」によるとこの事業の事業費はいくらか?</p> 	<p>問題C=2CP 減点=1点</p> <p>「宗本寺本堂の欄間」の説明板によると、欄間の完成までに何年かかったか?</p> 
<p>問題D=3CP 減点=1点</p> <p>駐車場にある「牧水コース散策案内」の地図で、隠されているこの部分の文字は? 信じて先に進みましょう。</p> 	<p>問題E=7図先 減点=1点</p> <p>(7図先)「世立八滝」の説明板によると、現在位置から一番近い滝は何という滝で、現在位置からの距離は何mか? 滝の名前はひらがなで「〇〇〇の滝」の様に答えてください。</p> 	<p>問題F=4CP 減点=1点</p> <p>駐車場にあるこの牧水の歌にある旧国名をひらがなで答えよ。</p> 

<p>問題G=5CP</p>	<p>減点=1点</p>	<p>問題H=7CP</p>	<p>減点=1点</p>	<p>問題I=7CP先</p>	<p>減点=1点</p>
<p>チャツボミゴケ公園にある注意看板です。何mか？</p>		<p>7CP地点の標高は、暮坂峠より何m高いか？ 暮坂峠の標柱に書かれた標高で答えること。</p>		<p>日本国道最高地点の碑を建てたのは誰か？</p>	
					
<p>問題J=19図先</p>	<p>減点=1点</p>	<p>問題K=FCP</p>	<p>減点=1点</p>	<p>問題L=FCP</p>	<p>減点=1点</p>
<p>この石碑の建立のために、何平方メートルの国有林を借りているか？ ※カーブにあるので、安全な場所に停めて確認してください。ゴール後の帰り道の方が停めやすいかもしれません。</p>		<p>ゴールの目標物の小さな案内板を設置したのは誰か？</p>		<p>ゴール地点は群馬・長野県境で、「群馬県」の県境標識はあるが、「長野県」の標識はない。何故か？</p>	
					






問題3 X問題

コース上のどこかに出てきます。

◇ドライブクラス、エンジョイクラスは、問題X-1～X-8は、解答不要です。

◇ダンガンクラスは、全て解答して下さい。

※問題X-2～X-8は、CP(スタート、OD、ゴールを含む)または、クイズの近くにあります、あるキーワードの順番に出てきます。

問題X-1	減点=1点	問題X-2	減点=1点	問題X-3	減点=1点
この注意標識は、何図先にあるか？		これは何を表示するものか？ 画像は一部加工してあります		これは誰？	
この壁画の左横にあるのは、何を描いた壁画か？		この電波塔は、何CP(スタート、OD、ゴールを含む)または、どのクイズの近くにあるか？		これは誰？	
この太陽熱温水器は、何CP(スタート、OD、ゴールを含む)または、どのクイズの近くにあるか？		この石碑は、何CP(スタート、OD、ゴールを含む)または、どのクイズの近くにあるか？	