

問題1(距離計測) スタートからゴールまでの各CP間の距離を計測して下さい。

- ◇エンジョイクラス: 10mの位は四捨五入して、100m単位で答えて下さい。
(0. 1kmの誤差で減点1点)
- ◇ダンガンクラス : 1mの位は四捨五入して、10m単位で答えて下さい。
(0. 01kmの誤差で減点1)

◇ドライブクラス:
各CP間の距離が、下記のどの範囲に入るかを答えてください。
0km~4km~6km~8km~10km~

解答用紙の記入欄に下記の番号(①、②・・・)を記入してください。

- ①Start~1CP ②1CP~2CP ③2CP~3CP ④3CP~4CP
- ⑤4CP~5CP ⑥5CP~6CP ⑦6CP~7CP ⑧7CP~8CP
- ⑨8CP~FCP






車載デジタルトリップで計測される方は、次の様に計測してみてください。
デジタルトリップの100m単位より少し詳細に計測できます。

車載デジタルトリップのAトリップ、Bトリップの両方を使用し、スタート地点でAトリップを「0」にリセット。50m先でBトリップを「0」にリセットする。あるチェックポイントで、
Aトリップが4. 5 km、Bトリップが4. 4 km の場合は、4. 50 km
Aトリップが4. 5 km、Bトリップも4. 5 km の場合は、4.55 km となります。

チェックポイント(スタート、OD含む)からの約50m地点の目標物も、チェックポイントの資料に記載していますので、活用してください。
但し、ピッタリ50mでない箇所もありますので、歩測などで補正してください。
また、ODは歩測してなるべく細かい距離まで求めてください。
※少し大股で歩くと、1歩が身長 $\frac{1}{2}$ cmになりますが、スタートで実際歩いてみて、50mが何歩か確認してみてください。

問題2 ※今回も減点は1点です。

問題A=スタート	減点=1点	問題B=スタート	減点=1点	問題C=5図先	減点=1点
観光案内所内に展示されている草軽便鉄道(草軽電鉄)の「デキ12形」の模型が積んでいる木箱の荷物は、どこに納める荷物か? 木箱に書かれたまま答えよ。		観光案内所2階に展示されてる『浅間山北麓ジオパークプロジェクト ジオサイト一覧』の中で、「C-2」で示されているのはどこか?		『浅間高原観光ガイド』で、現在地から直線距離で一番近く、現在も営業していると思われる施設の名称は? (止まれのある十字路の先です)	

<p>問題D=3CP 減点=1点</p> <p>愛妻の丘の展望デッキの手すり部分(床板から上の部分)に丸太(丸いままの木材)は何本使われているか？</p> 	<p>問題E=3CP 減点=1点</p> <p>『愛妻の丘』の説明板の3つ目の●の説明文にあるカタカナを漢字に直してください。</p> 	<p>問題F=4CP 減点=1点</p> <p>「嬌恋銘水株式会社」で、今年嬌恋村が販売を始めた『妻との渴きを潤す水』を生産しているが、そのラベルにある嬌恋村の名所の内、今回チェックポイントが置かれた場所はどこ？ 『妻との渴きを潤す水』は、観光案内所で80円で販売されています。</p> 
<p>問題G=5CP 減点=1点</p> <p>『干俣川 緑の砂防ゾーン』説明板の平面図によると、現在地に一番近い木の種類は？</p> 	<p>問題H=22図先 減点=1点</p> <p>『熊野神社奥の院と梵字岩』の説明板には、「奥の院は越後まで続く」と言い伝えられる」と書かれているが、「何をどうしたら、越後の国でどうなった」からこのように言い伝えられているのでしょうか？ 拝殿にある説明板の内容で教えてください。</p> 	<p>問題I=22図先 減点=1点</p> <p>熊野神社拝殿にあるこの灯籠を贈ったのは誰か？</p> 
<p>問題J=6CP 減点=1点</p> <p>万座川橋の欄干に鮎は、いくつあるか？ 欄干の内外を別の鮎と数えず、内外で1匹の鮎と考えてください。</p> 	<p>問題K=7CP 減点=1点</p> <p>『瀬戸の滝』の説明板にあるこれはは何？</p> 	<p>問題L=8CP 減点=1点</p> <p>8CPの標高は、愛妻の丘の標高より何m低い？</p> 

<p>問題M=8CP</p>	<p>減点=1点</p>	<p>問題N=FCP</p>	<p>減点=1点</p>		
<p>販売所で売っていると思われる孺恋村産の野菜は？ 写真の様な標柱に書かれた野菜名で教えてください。</p>		<p>孺恋プリンスホテルのレストランの外にある芝生(玄関手前 横側にある遊歩道入り口の所)は、夕暮れからは立ち入りが禁止されているが、何故か？ ※実際に立ち入らないでください。</p>			
					


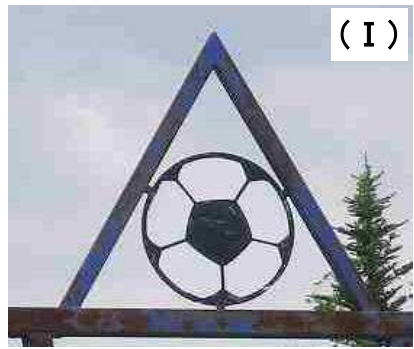

問題3 X問題

コース上のどこかに出てきます。

◇ドライブクラス ◇エンジョイクラスは、問題X-1~X-5は、解答不要です。

◇ダンガンクラスは、全て解答して下さい。

※問題X-1~X-5は、あるキーワードの順番に出てきます。

<p>問題X-1</p>	<p>減点=1点</p>	<p>問題X-2</p>	<p>減点=1点</p>	<p>問題X-3</p>	<p>減点=1点</p>
<p>どこまで何kmか？</p>		<p>このマークがあるのは、何という施設か？</p>		<p>このキャラクターの名前は？</p>	
					
<p>問題X-4</p>	<p>減点=1点</p>	<p>問題X-5</p>	<p>減点=1点</p>		
<p>これは、何の記念に奉納されたものか？</p>		<p>何が自然の防犯カメラか？</p>			
