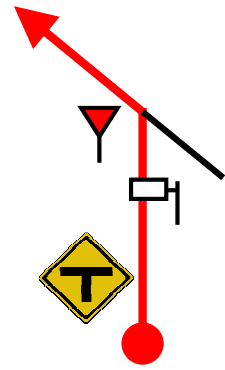


47

43

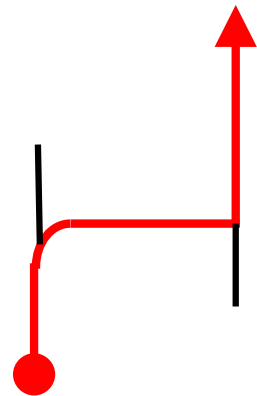
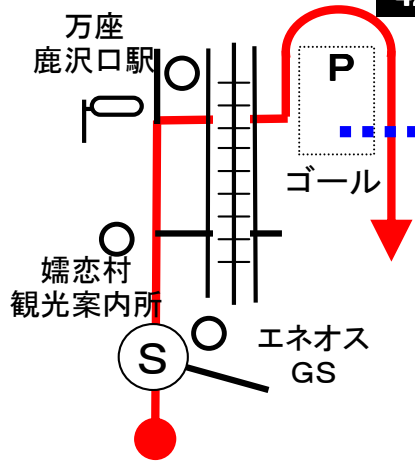
39



46

42

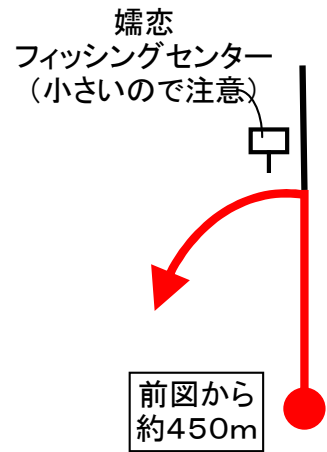
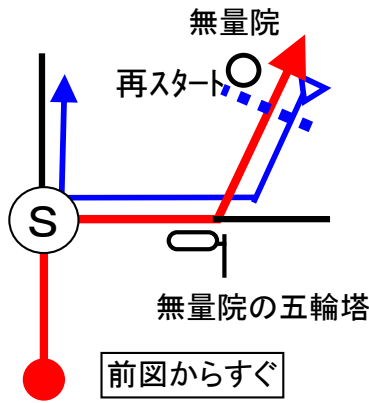
38



45

41

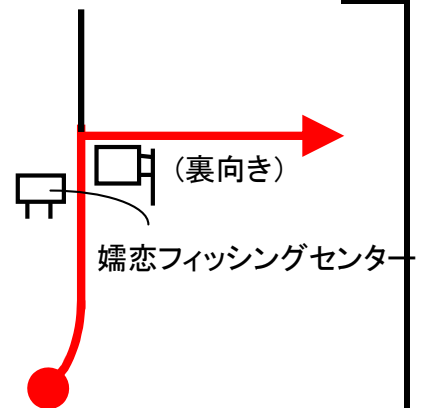
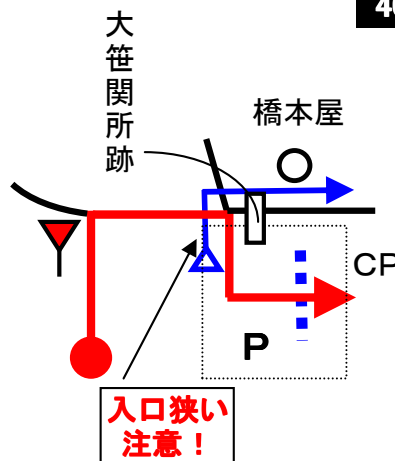
37



44

40

36




Start



1図『JR・万座鹿沢口駅』駐車場  
左手の「笹平地区 急傾斜地崩壊対策 事業概要」の説明板の一番前の脚

速やかにスタートのこと

OD



4図『西吾妻福祉病院』左手のポール(一番手前)

ここまで、10.357km

再スタートは、駐車場出口の停止線

1CP



7図『長野原諏訪神社』駐車場入口 左手の「無断駐車禁止」看板

※再スタートは、Uターンして同じ場所から。

2CP



11図先『狩宿関所跡』石碑前 右手の裏向き標識

正面に小学校と石碑が見えます。カーブの手前なので、速やかにカーブの先に移動してください。

3CP



12図先『常林寺』左手路側帯にある電柱

コース上から正面に常林寺墓地が見えます。

4CP



15図『嬭恋村郷土資料館』駐車場 左手の「観音堂」看板

再スタートは、駐車場出口停止線

5CP



17図『鎌原城址』駐車場入口 左手の駐車場看板

※再スタートは、Uターンして同じ場所から

6CP



25図先『しゃくなげ園』入口 左手の「しゃくなげ園」看板

7CP



26図先 ダートから舗装になってすぐ 右手の裏向き標識

8CP



29図 『鹿沢温泉 紅葉館』前  
右手の電柱  
電柱の横にバス停あり。

速やかに右手の駐車スペース  
に移動してください。

※再スタートは、駐車場出口  
バス停横

9CP



31図先 『愛妻の丘』  
左手の看板

速やかに右手の駐車スペース  
に移動してください。

10CP



40図 『大笹関所跡』  
左手の標柱

再スタートは、41図の『無量  
院』。

10CP再スタート



41図 『無量院』  
左手の石灯籠

FCP



42図 『JR・万座鹿沢口駅』  
駐車場  
左手の「笹平地区 急傾斜地崩  
壊対策 事業概要」の説明板の  
一番前の脚

お疲れ様でした!

問題1 (距離言スタートからゴールまでの各CP間の距離を計測して下さい。)

- ◇エンジョイクラス: 10mの位は四捨五入して、100m単位で答えて下さい。  
(0. 1kmの誤差で減点1点)
- ◇ダンガンクラス : 1mの位は四捨五入して、10m単位で答えて下さい。  
(0. 01kmの誤差で減点1)

問題2 ※今回も減点は1点です。

<p>問題A=スタート 減点=1点</p> <p>壁画「嬉恋の高原風景」には、動物がいくつ描かれているか?</p> 	<p>問題B=OD 減点=1点</p> <p>羽根尾城跡の説明板の横にある石柱が立てられたのは、羽根尾城跡が長野原町指定文化財に指定されてから何か月後か? 日には無視し、次の月を1か月後と数えてください。</p> 	<p>問題C=1CP 減点=1点</p> <p>諏訪神社の玉垣の記念石柱には、寄付をした方の名前が書かれているが、長野原町以外の人は何人いるか?</p> 
<p>問題D=1CP 減点=1点</p> <p>諏訪神社の奥の鳥居(石製)を寄贈したのは横浜市の人だが、何故横浜の人が寄贈したのか?</p> 	<p>問題E=2CP 減点=1点</p> <p>『狩宿関所跡の碑』の石碑は、何の事業として史跡顕揚を企て、立てられたか?</p> 	<p>問題F=2CP 減点=1点</p> <p>近くにある『旧狩宿本陣』の石柱によると、本陣が創建されたのは、狩宿関所が置かれた何年前か後か? 年だけで考えてください。</p> 
<p>問題G=5CP 減点=1点</p> <p>鎌原城址もODの羽根尾城跡も当時の建造物は全く残っていないが、その代わり両方とも同じ物が立っている。それは何か? 説明看板、石柱は除く。</p> 	<p>問題H=25図 減点=1点</p> <p>25図から走る「林道群馬坂西線」の延長は、25図出口から走る「林道群馬坂線」の延長の何%か? 四捨五入して整数で教えてください。</p> 	<p>問題I=6CP 減点=1点</p> <p>『しゃくなげ園内マップ』にある鳥の名前を全て答えよ。</p> 

<b>問題J=8CP</b>	<b>減点=1点</b>	<b>問題K=9CP</b>	<b>減点=1点</b>	<b>問題L=9CP</b>	<b>減点=1点</b>
----------------	--------------	----------------	--------------	----------------	--------------

駐車場にあるバス停には時刻表がないが、ここを訪れた観光客は不満を持たないと思われる。何故か？



『浅間・白根・志賀さわやか街道』の地図によると、次のルートを通った場合の距離は何kmか？

軽井沢駅⇒鬼押ハイウエー⇒万座ハイウエー⇒山ノ内町・道の駅⇒草津温泉⇒メロディーポイント⇒R146号⇒軽井沢駅



愛妻の丘にあるこのオブジェには向かい合って足形が2つあるが、私はアブノーマルな状況を想像してしまった。それは何故か？ 作成者と同じ答えを正解とする。



**問題M=10CP** **減点=1点**

大笹関所と2CPの狩宿関所とでは、公関(幕府が認めた公の関所)となった年は、どちらが早いのか？



**問題N=10CP** **減点=1点**

無量院の「三原三十四番観音札所」説明にある御詠歌の文字の内、母音はいくつあるか？ 漢字もひらがなにしてください。



**問題O=FCP** **減点=1点**

(ゴール)『花の村つまごい 周辺ガイドマップ』には、今回のコースでチェックポイント(スタート、OD、ゴールを含む)が置かれた場所は何か所あるか？ 観音堂は除く










問題3 X問題

コース上のどこかに出てきます。

◇エンジョイクラスは、問題X-1~X-5は、解答不要です。

◇ダンガンクラスは、全て解答して下さい。

※問題X-1~X-5は、あるキーワードの順番に出てきます。

問題X-1	減点=1点	問題X-2	減点=1点	問題X-3	減点=1点
このチョットやばい看板はどこにあるか? (N)		この警戒標識は、本来この交差点のどの位置にどの様にあるべきか? (A)		コース上(クイズポイント含む)に、前長野原町長の厚意で整備された芝地があるが、どこにあるか? (M)	
問題X-4	減点=1点			問題X-5	減点=1点
この『東京オリンピック開催決定』は、どこに書かれているか? (A)				コース上に、外壁に鳥の絵が描かれた給水塔がいくつかあるが、鳥の絵は全部でいくつ描かれているか? シルエットの様な絵も1つと数えてください。 (Z)	
ボーナスクイズ	ボーナス点1点				
<p>A男とB子及び、C輔は、高校の同級生。2016年4月16日(土)に、卒業後10年を記念して草津温泉に出かける事にした。それぞれから、他の人への連絡内容は、以下の通り。</p> <p>(A男)僕は、軽井沢駅前にある取引先に書類を届けなきゃいけないので、東京から北陸新幹線でいきます。</p> <p>(B子)私は、群馬県高崎市に住んでいるので、JR吾妻線で万座鹿沢口駅まで行き、バスで草津温泉に向かいます。</p> <p>(C輔)俺は仕事の関係で先に行っているから、草津温泉バスターミナルで2人が来るのを待っているよ。</p> <p>しかし、当日、草津温泉バスターミナルには、A男しかバスから降りて来なかった。</p> <p>(C輔)あれ? B子は?</p> <p>(A男)万座鹿沢口でバスを乗り換えたのだが、B子は来なかったんだ。バスの運転手さんに聞いたら、長野草津口駅からは草津温泉行きのバスがたくさん出ているらしいので、もしかしてそっちからバスに乗ったのかも? と思って一人で来た。B子は来っていないのか?</p> <p>(C輔)ああ。来っていない。じゃ、長野原草津口駅からの次のバスで来るかもしれないから、しばらく待つか。</p> <p>(A男)そうだな...</p> <p>だが、B子は、乗る筈だった万座鹿沢口駅行き電車のトイレで他殺体で見つかった。</p> <p>解剖の結果、意識が朦朧とする程度の睡眠薬が体内から検出され、絞殺されていた。</p> <p>A男が疑われたが、A男の会社の同僚が途中の本庄早稲田駅まで同行しており、また、バスの運転手も軽井沢駅から乗っていた事を覚えており、A男のアリバイが証明された。</p> <p>しかし、十津川警部と亀さんはA男のアリバイを崩して見せた。</p> <p>さて、A男になったつもりで、その日の行動を乗った電車の種類(あさま601号など)、発着時刻も含めて教えてください。細かな点は気にせず、推理ドラマの演出家になったつもりで考えてください。</p> <p>尚、高崎駅の在来線と新幹線のホーム間は、急いで歩くと2分程度で乗り換えられます。</p> <p>作成者と同じ答えを正解としますが、作成者の想定を上回るアリバイを作られた方も正解とする場合があります。</p>					

# 第65回 D-Wind Rally 『キャベツラリーを3倍楽しもう！』

## 解答用紙（クラス：・ダンガン ・エンジョイ）

チーム名				使用車種		
ドライバー				ナビゲータ		
走行日時	( )	:	~	:	天候	
成績結果 送付先	住所:〒					
	氏名:			TEL : ( )	-	

### 問題1 解答欄（・ダンガンクラス：0.01km単位で記入 ・エンジョイクラス：0.1km単位で記入）

	解 答	減 点		解 答	減 点
スタート～1CP	km		6CP～7CP	km	
1CP～2CP	km		7CP～8CP	km	
2CP～3CP	km		8CP～9CP	km	
3CP～4CP	km		9CP～10CP	km	
4CP～5CP	km		10CP～FCP	km	
5CP～6CP	km		<b>問題1 減点計</b>		

### 問題2 解答欄

	解 答	減 点		解 答	減 点
問題A			問題L		
問題B					
問題C			問題M		
問題D			問題N		
			問題O		
問題E					
問題F			問題X-1		
問題G			問題X-2		
問題I			問題X-3		
			問題X-4		
問題J			問題X-5		
			ボーナス クイズ	別紙に記入してください。	
問題K			<b>問題2 減点計</b>		

### 集計

申込みNo.	解答用紙受付日	問題1減点	問題2減点	減点合計	順位

ボーナスクイズ解答欄