



Start

1図
『道の駅 ららん藤岡』
駐車場出口横
左手の「不法駐車お断り」看板
向かって左側の脚

事前に準備をして、速やかにスタートしてください。



OD

4図
『七奥の門』
左手の電柱
バス停があるので速やかに左手の駐車場に移動の事。

ここまで 6.855 km



1CP

7図
『山上古墳』
左手の「この先、左側に...」の標識

速やかに駐車場に移動の事。
※再スタートは、Uターンして同じ場所から。



2CP

13図先
『観音山古墳』
駐車場前左手の電柱

速やかに右手の駐車場に移動の事。



2CP再スタート


13図先
少し先にある「横断歩道標識」



3CP

20図
『お富士山古墳』
右手の電柱

少し先に鳥居あり
車は、CP手前右手か、少し先に行った神社前の道に停めてください。



4CP

23図
『大室公園』
駐車場入口 左手の木
少し先に駐車場案内標識あり

※再スタートは、Uターンして同じ場所から。



5CP

26図
『山上城址』
駐車場内 グレーチング

※再スタートは、Uターンして同じ場所から。



6CP

28図
『膳城址公園』
駐車場前 右手の外灯

速やかに駐車場に移動の事。

7CP



32図
『女瀨城址』
駐車場前 左手の「横断歩道標識」

速やかに右手の駐車場に移動の事。

8CP



36図
『大胡城址』
駐車場入口 舗装とダートの境

※再スタートは、Uターンして同じ場所から。

9CP



41図
『群馬県埋蔵文化財調査センター』前 左手の電柱

※再スタートは、Uターンして同じ場所から。

10CP



44図
『総社公民館』前
右手の枠(フレーム)

速やかに左手の駐車場に移動の事。
※再スタートは、Uターンして同じ場所から。

FCP



48図
『上毛野はにわの里公園』
駐車場前 左手の電柱

速やかに左手の駐車場に移動の事。

お疲れ様でした！

問題1 (距離計スタートからゴールまでの各CP間の距離を計測して下さい。)

- ◇エンジョイクラス: 10mの位は四捨五入して、100m単位で答えて下さい。
(0. 1kmの誤差で減点1点)
- ◇ダンガンクラス : 1mの位は四捨五入して、10m単位で答えて下さい。
(0. 01kmの誤差で減点1)

問題2 ※今回も減点は1点です。

<p>問題A=スタート 減点=1点</p> <p>観光物産館の入口近くに紹介パネルがある市と藤岡市の両方にあり、姉妹都市になるきっかけになったものは何か？ スタートに答えはありません。</p> 	<p>問題B=OD 減点=1点</p> <p>『七輿の門展示室』(利用は8:00～)にある『藤岡市の文化財案内』によると、問題Aの答えがある場所は何番の場所にあるか？</p> 	<p>問題C=1CP 減点=1点</p> <p>国特別史跡の山上古墳と、他の群馬の古墳との一番の違いは何かは？</p> 
<p>問題D=1CP 減点=1点</p> <p>この石碑にある和歌に詠まれている山はどこか？</p> 	<p>問題E=2CP 減点=1点</p> <p>『観音山古墳をつくる』の説明に出てくる道具は何か？</p> 	<p>問題F=3CP 減点=1点</p> <p>鳥居の社額には何と書かれているか？ 左下の小さな文字(?)は無視してください。</p> 
<p>問題G=3CP 減点=1点</p> <p>お富士山古墳にあった石棺で、それを構成する石の内、一部無くなっている石は何石か？</p> 	<p>問題H=4CP 減点=1点</p> <p>小ニ子古墳の上に『鞆』の埴輪はいくつあるか？</p> 	<p>問題I=5CP 減点=1点</p> <p>山上城跡の三の丸跡の広場には、何の動物の石像があるか？</p> 

第64回 D-Wind Rally 『上州史跡巡り』

問題-2

問題J=26図先 減点=1点

山上多重塔は何を起源とする岩が使われているか？



問題K=7CP 減点=1点

女淵城の本丸・西南虎口と二の丸は何でつながっていたか？



問題L=8CP 減点=1点

大胡城本丸跡にあるこの石碑は、何を記念したものか？ きっかけとなった出来事も含めて答えよ。



問題M=9CP 減点=1点

9CP近くにあるこの石碑がある場所の標高は何mと考えられるか？ 石碑から得られる情報だけで教えてください。



問題N=10CP 減点=1点

宝塔山古墳の石室の内、石棺がある部屋の床面積は何平方メートルか？ 四捨五入して小数点以下1桁まで答えよ。



問題O=FCP 減点=1点

八幡塚古墳の「A区形象埴輪配列区」にある埴輪で、説明がやや不確実なもの(？が付くもの)は何体あるか？



問題P=FCP 減点=1点

八幡塚古墳の外堤には「盾持ち人埴輪」はいくつあるか？






問題3 X問題

コース上のどこかに出てきます。

◇エンジョイクラスは、問題X-1~X-7は、解答不要です。

◇ダンガンクラスは、全て解答して下さい。

※問題X-2~X-7は、あるキーワードの順番に出てきます。

問題X-1	減点=1点	問題X-2	減点=1点	問題X-3	減点=1点
スタートからゴールまでの間で、何回踏切りを渡るか？		この電車は何図で見られるか？		これは何の上にいるか？	
		(A)		(N)	
					
問題X-4	減点=1点	問題X-5	減点=1点	問題X-6	減点=1点
何の駅？		これは何の販売機か？		これは、元々何であったか？	
(H)		(I)		(W)	
					
問題X-7	減点=1点			ボーナスクイズ ボーナス点1点	
これは何古墳の近くにあるか？				<p>問題X-6の物体は、元々どこにあった物と考えられるか？ 都道府県、市町村など場所を教えてください。</p> <p>現地で得られる情報からネット検索などを駆使してください。</p> <p>主催者も目安は付けましたが、絶対間違いないという答えに辿り着いていません。</p> <p>皆さんの答えから特定したいと思いますので、皆さんが調べられた方法なども合わせて教えてください。</p>	
(A)					
					

第64回 D-Wind Rally 『上州史跡巡り』

解答用紙 (クラス：・ダンガン ・エンジョイ)

チーム名				使用車種			
ドライバー				ナビゲータ			
走行日時	()	:	~	:	天候		
成績結果 送付先	住所:〒						
	氏名:				TEL : ()	-	

問題1 解答欄 (・ダンガンクラス：0.01km単位で記入 ・エンジョイクラス：0.1km単位で記入)

	解 答	減 点		解 答	減 点
スタート～1CP	km		6CP～7CP	km	
1CP～2CP	km		7CP～8CP	km	
2CP～3CP	km		8CP～9CP	km	
3CP～4CP	km		9CP～10CP	km	
4CP～5CP	km		10CP～FCP	km	
5CP～6CP	km		問題1 減点計		

問題2 解答欄

	解 答	減 点		解 答	減 点
問題A			問題M		
問題B			問題N		
問題C			問題O		
			問題P		
問題D			問題X-1		
問題E			問題X-2		
問題F			問題X-3		
問題G			問題X-4		
問題H			問題X-5		
問題I			問題X-6		
問題J			問題X-7		
問題K			ボーナス クイズ		
問題L				問題2 減点計	

集計

申込みNo.	解答用紙受付日	問題1減点	問題2減点	減点合計	順位