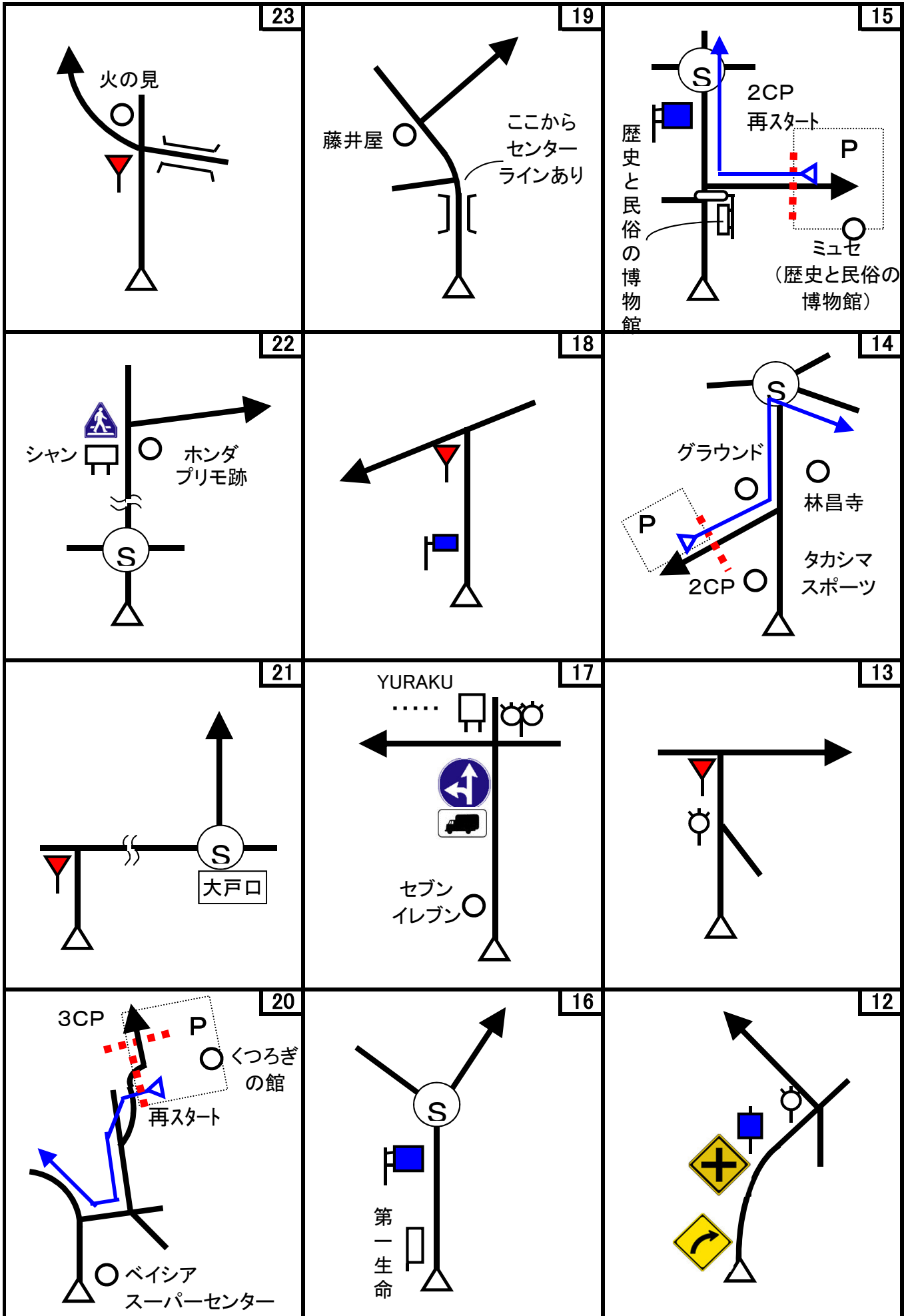
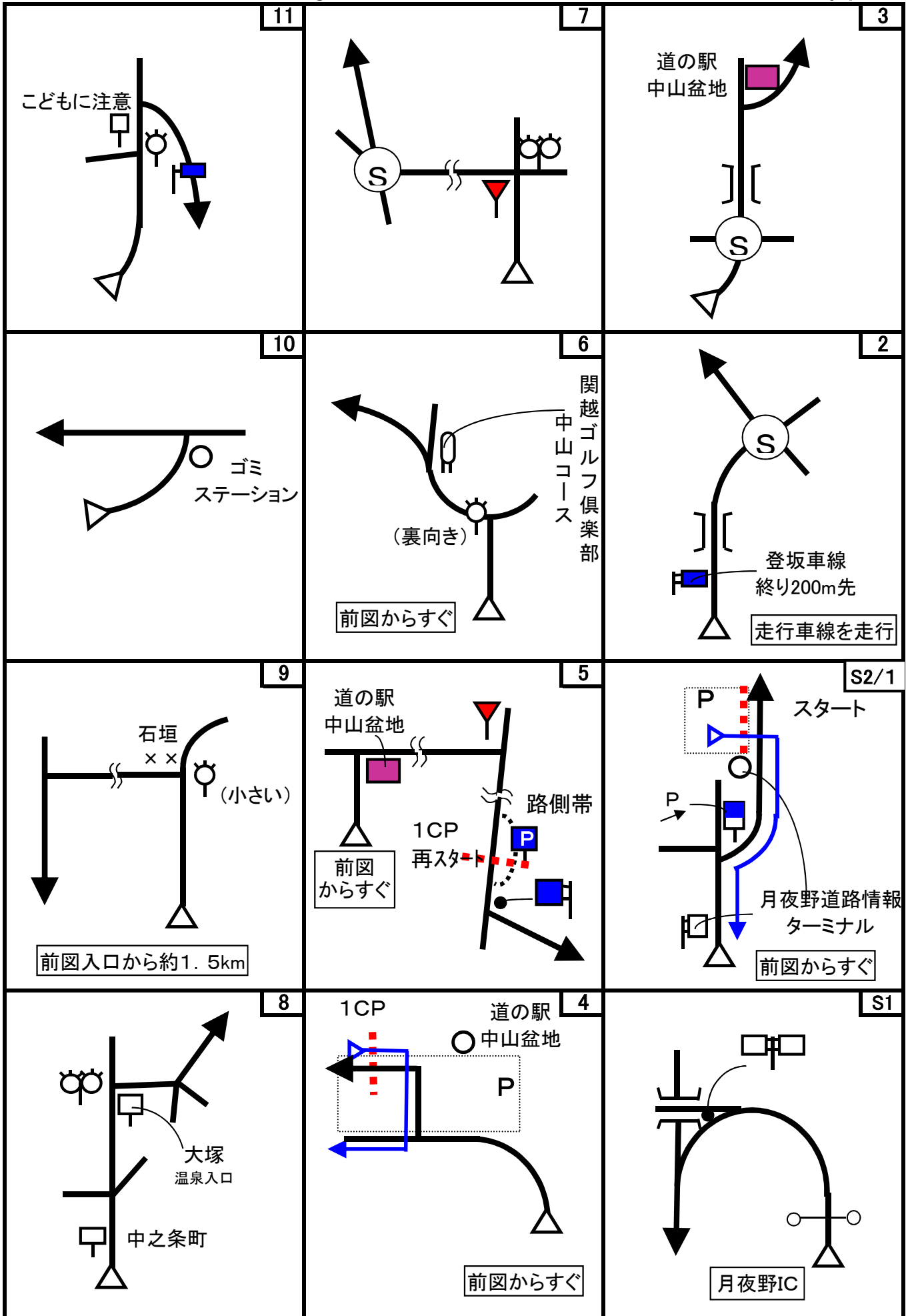


第63回 D-Wind Rally 『上州あがつま・真田家三代の秘宝』 コマ図-2



第63回 D-Wind Rally 『上州あがつま・真田家三代の秘宝』 コマ図-1



Start



1図
『月夜野道路情報ターミナル』
小型駐車場出口
右手の身障者用駐車スペース
にあるポール

OD



2図先
左手の『赤根峠・ポケットパーク』看板
トンネルを抜けたすぐ先です。
クイズを確認する際は、左手の
駐車場に移動の事。
ここまで 7.626 km

1CP



4図
『道の駅・中山盆地』
左手の柱
※再スタートは、5図の「P」標識

2CP



14図
『中之条ツインプラザ』
駐車場入口手前
右手の電話ボックスの中央
※再スタートは、15図『ミュゼ
(歴史と民俗の博物館)』駐車場
出口

3CP



20図
『岩櫃ふれあいの郷(くつろぎの
館)』
駐車場 左手の外灯
※再スタートは、駐車場出口

4CP



24図
『道の駅・あがつま峡』
駐車場入口 右手の外灯
※再スタートは、出口グレーチ
ング

5CP



26図
『長野原諏訪神社』
駐車場入口 左手の「無断駐車禁止」看板

※再スタートは、Uターンして同じ場所から。

6CP



37図
『大笹関所跡』
駐車場 左手の「大笹関所跡」標柱

※再スタートは、出口グレーチング

7CP



40図
『孀恋郷土資料館』
駐車場 右手の石垣の先端

※再スタートは、出口グレーチング

FCP



44図
『天狗山第一駐車場』
駐車場 トイレの先にある左手の外灯

お疲れ様でした！

問題1 (距離言スタートからゴールまでの各CP間の距離を計測して下さい。)


◇エンジョイクラス: 10mの位は四捨五入して、100m単位で答えして下さい。
(0. 1kmの誤差で減点1点)

◇ダンガンクラス : 1mの位は四捨五入して、10m単位で答えして下さい。
(0. 01kmの誤差で減点1)

問題2 今回は、問題はエンジョイクラスもダンガンクラスも共通です。エンジョイクラスも全て解答して下さい。


問題A=全区間 減点=1点/1つ

各宝箱で押すスタンプがどこのスタンプか答えよ。(1ヶ所ピンポケです・・・m(~)m)
町村名で答えてください。



問題B=全区間 減点=1点/1つ

各CP(スタート、OD、ゴール及び、再スタート地点を含む)の周辺にある外灯、スピーカがどこにあるか答えよ。(1ヶ所1つとは限りません)



第63回 D-Wind Rally 『上州あがつま・真田家三代の秘宝』

解答用紙（クラス：・ダンガン ・エンジョイ）

チーム名		使用車種	
ドライバー		ナビゲータ	
走行日時	()	: ~ :	天候
成績結果 送付先	住所:〒		
	氏名:	TEL : ()	-

問題1 解答欄（・ダンガンクラス：0.01km単位で記入 ・エンジョイクラス：0.1km単位で記入）

	解 答	減 点		解 答	減 点
スタート～1CP	km		5CP～6CP	km	
1CP～2CP	km		6CP～7CP	km	
2CP～3CP	km		7CP～FCP	km	
3CP～4CP	km				
4CP～5CP	km		問題1 減点計		

問題2 解答欄

		減 点		解 答	減 点
問題A			問題B		
A			A		
B			B		
C			C		
D			D		
E			E		
F			F		
			G		
			H		
			I		
			J		
			K		
			L		
			問題2 減点計		

集計

申込みNo.	解答用紙受付日	問題1減点	問題2減点	減点合計	順 位