

Start



1図
『藪塚ドライブイン』
看板の周りのフェンスの先端

※予め準備をして、スタート地点に付いたら速やかにスタートの事。

OD



2図先
左手の「ファミリーマート」看板

速やかに再スタートの事
(クイズはありません)

ここまで 8.328 km

1CP



5図先
左手の電柱

左手前に『梅田観光物産店』あり。
速やかに右手の桐生川ダム駐車場に移動の事

2CP



7図
『林道 三境線』起点
左手の朽ちかけた林道標識

3CP



8図
『林道 三境線』終点
一旦停止線

4CP



12図
『丸美屋自販機コーナ』
建物の先端角

速やかに駐車スペースに移動の事

5CP



17図先すぐ
左手の電柱
左手に空き地あり

6CP



17図先
左手の『山火事用心』看板の
「心」

7CP



19図先
左手の電柱

左手前にダートの「高泉林道」
の出口あり

8CP



21図先
『青木大橋』入口

9CP



22図先
左手の『赤城西麓用水は地域農業を支えています』看板

速やかに左手前の空き地に移
動の事

10CP



23図先
一旦停止線

11CP



28図先
左手の「クリーニング屋」手前角

FCP



34図
『田吾作』看板横

お疲れ様でした！

問題1 (距離計スタートからゴールまでの各CP間の距離を計測して下さい。)

- ◇エンジョイクラス: 10mの位は四捨五入して、100m単位で答えて下さい。
(0. 1kmの誤差で減点1点)
- ◇ダンガンクラス : 1mの位は四捨五入して、10m単位で答えて下さい。
(0. 01kmの誤差で減点1)

問題2 ※今回も減点は1点です。

<p>問題A=1CP 減点=1点</p> <p>桐生川ダム湖を望む展望台にあるこのベンチの座面の板は何枚か？</p> 	<p>問題B=13図 減点=1点</p> <p>『旧花輪小学校記念館』の前にある二宮金次郎像は何を記念に建立されたか？</p> 	<p>問題C=13図 減点=1点</p> <p>『旧花輪小学校記念館』の玄関の上に飾られた額には何と書いてあるか？</p> 
<p>問題D=16図 減点=1点</p> <p>16図から17図間の『林道 田沢小中線』が全通したのは何年何月と考えられるか？</p> 	<p>問題E=5CP 減点=1点</p> <p>5CP~6CPの間を直線と考えた場合、CP間の平均勾配は何%か？ 四捨五入して整数で答えよ。</p> 	<p>問題F=7CP 減点=1点</p> <p>7CPの辺りで行った場合、法令により罰せられる行為は何か？</p> 
<p>問題G=21図先 減点=1点</p> <p>『林道 青木輪久原線』を単純な長方形と考えた場合、その面積は16図からの『林道 田沢小中線』のその何%か？ 四捨五入して整数で答えよ。</p> 	<p>問題H=9CP 減点=1点</p> <p>『赤城西麓用水は地域農業を支えています』看板には、「ぐんまちゃん」はいくつ描かれているか？</p> 	<p>問題I=FCP 減点=1点</p> <p>この用途は、何と考えられるか？</p> 











問題3 X問題

コース上のどこかに出てきます。

◇エンジョイクラスは、問題X-1~X-10は、解答不要です。

◇ダンガンクラスは、全て解答して下さい。

※問題Xは、あるキーワードの順番に出てきます。

問題X-1	減点=1点	問題X-2	減点=1点	問題X-3	減点=1点
これは何CPから見えるか？		これはどこにあるか？		これは何というお店にあるか？	
<p>(Y)</p> 		<p>(A)</p> 		<p>(K)</p> 	
問題X-4	減点=1点	問題X-5	減点=1点	問題X-6	減点=1点
これがあある場所の少し手前、左手にあった巨大なものは何？		この鳥の胸に書かれた文字は何？		この記念碑の「台石」を寄贈したのは？	
<p>(U)</p> 		<p>(W)</p> 		<p>(A)</p> 	
問題X-7	減点=1点	問題X-8	減点=1点	問題X-9	減点=1点
これはどこにあるか？		これは、どこにあるか？		このトイレ(?)は標高何mの地点にあるか？	
<p>(R)</p> 		<p>(I)</p> 		<p>(G)</p> 	
問題X-10	減点=1点				
この少女が手に乗せているのは何？					
<p>(U)</p> 					

第61回 D-Wind Rally 『「レトロ」なドライブ』

解答用紙 (クラス：・ダンガン ・エンジョイ)

チーム名		使用車種	
ドライバー		ナビゲータ	
走行日時	()	: ~ :	天候
成績結果 送付先	住所:〒		
	氏名:	TEL : ()	-

問題1 解答欄 (・ダンガンクラス：0.01km単位で記入 ・エンジョイクラス：0.1km単位で記入)

	解 答	減 点		解 答	減 点
スタート～1CP	km		7CP～8CP	km	
1CP～2CP	km		8CP～9CP	km	
2CP～3CP	km		9CP～10CP	km	
3CP～4CP	km		10CP～11CP	km	
4CP～5CP	km		11CP～FCP	km	
5CP～6CP	km			km	
6CP～7CP	km		問題1 減点計		

問題2 解答欄

	解 答	減 点		解 答	減 点
問題A			問題X-1		
問題B			問題X-2		
問題C			問題X-3		
問題D			問題X-4		
問題E			問題X-5		
問題F			問題X-6		
			問題X-7		
問題G			問題X-8		
問題H			問題X-9		
問題I			問題X-10		
			問題2 減点計		

集計

申込みNo.	解答用紙受付日	問題1 減点	問題2 減点	減点合計	順位