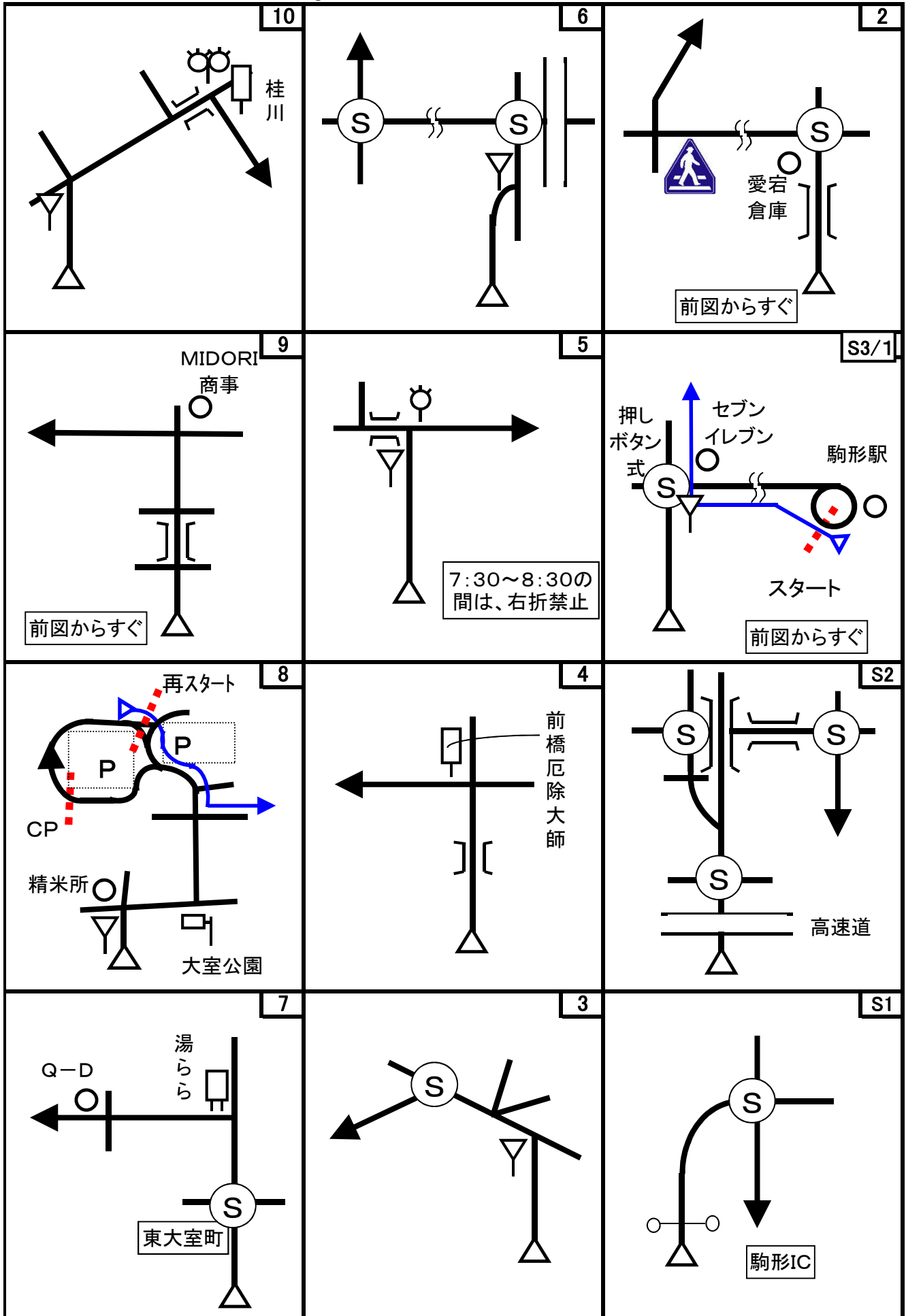

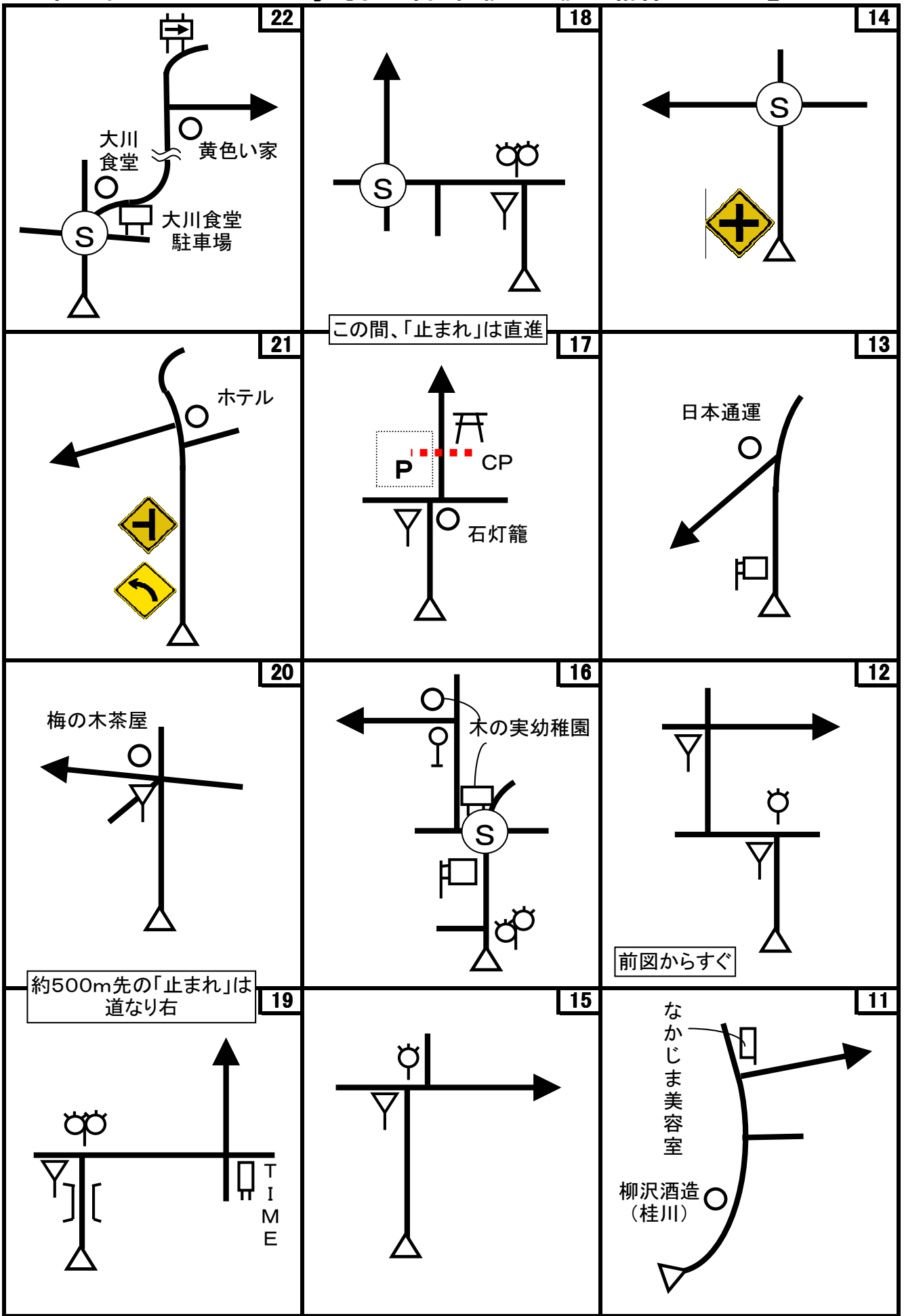


第60回 D-Wind Rally 『我が街 前橋ー至誠の精神で! ?-』コマ図ー1

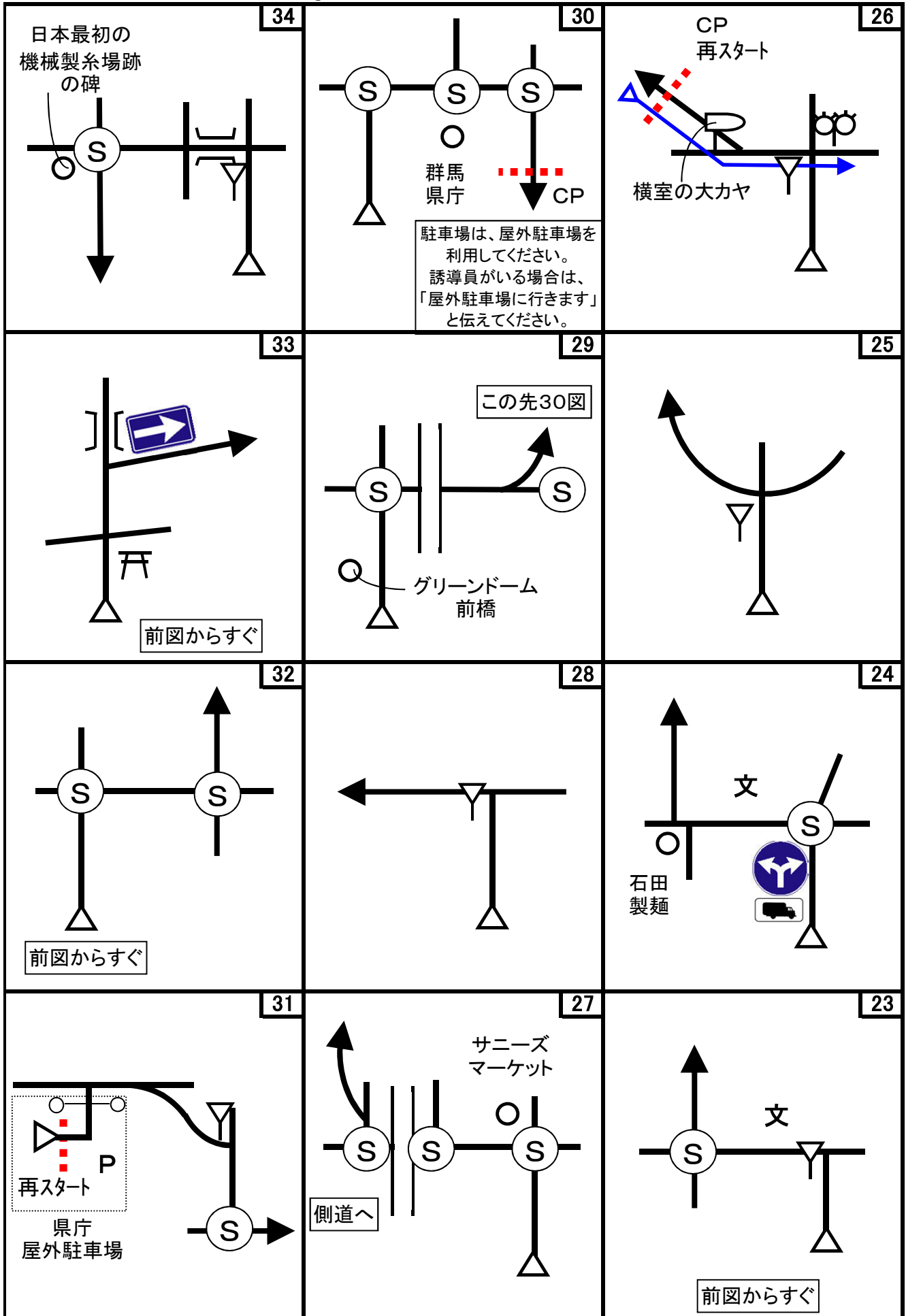


注)  は、横断歩道があることだけを示しています。標識の詳細な違いは無視して下さい。

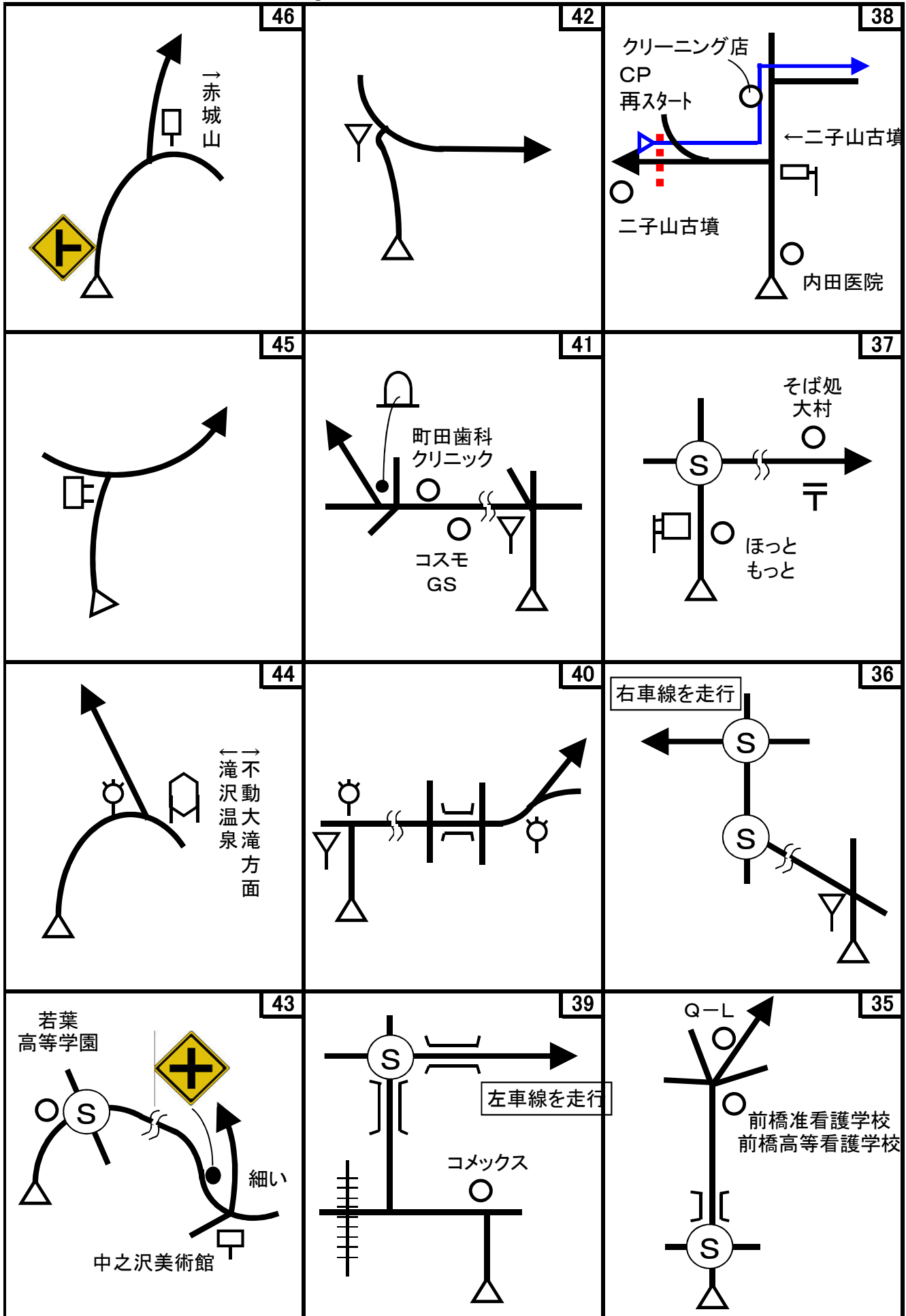
第60回 D-Wind Rally 『我が街 前橋-至誠の精神で! ?-』コマ図-2



第60回 D-Wind Rally 『我が街 前橋ー至誠の精神で! ?ー』コマ図ー3



第60回 D-Wind Rally 『我が街 前橋—至誠の精神で! ?—』コマ図-4



Start



1図
『JR駒形駅』北口
通路屋根の一番先の柱

OD



5図先
『二宮赤城神社』前 左手の「横
断歩道あり」標識
速やかに左手前の道の奥にあ
る駐車場に移動のこと

ここまで 6.050 km

1CP



8図
左手の駐車場案内看板(一番
奥)

1CP再スタート



8図
駐車場出口の停止線。

2CP



17図
『苗島神社』前 左手の外灯
速やかに左手の駐車場に移動
のこと

3CP



21図先
左手の「40km制限」標識
路側帯にあります。

4CP



26図
『横室の大カヤ』前 右手の電
柱
少し先に駐車スペースあり
再スタートはUターンして同じ場
所から

5CP



30図
『群馬県庁』 駐車場入口にあ
るグレーチング
後続車に迷惑を掛けないよう
に素早くチェックしてください

5CP再スタート



31図
『群馬県庁』 屋外駐車場
右手の外灯
(障害者用駐車スペースにある
外灯)

6CP



38図
『二子山古墳』左手の電柱
再スタートはUターンして同じ場所から
道幅が狭いので、Uターン時注意！

7CP



41図先
左手の『つづら折りあり』注意標識

8CP



42図先
『電力中央研究所』前
左手のフェンスの段になった部分

前方に高い電波塔あり
すぐ手前に門があり、路側帯があり

FCP



46図先
『赤城温泉駐車場』手前
左手の青い小屋の先端角

お疲れ様でした！

問題1 (距離計スタートからゴールまでの各CP間の距離を計測して下さい。)

- ◇エンジョイクラス: 10mの位は四捨五入して、100m単位で答えて下さい。
(0. 1kmの誤差で減点1点)
- ◇ダンガンクラス : 1mの位は四捨五入して、10m単位で答えて下さい。
(0. 01kmの誤差で減点1)

問題2 ※今回も減点は1点です。

問題A=スタート	減点=1点	問題B=スタート	減点=1点	問題C=OD	減点=1点
「駒形駅周辺案内図」には、学校教育法の第1条に掲げられている教育施設(1条校)はいくつあるか？(同じ敷地内に2つ学校がある場合は、2つと数えてください)		「駒形駅広域案内図」内の『前橋市の施設案内』の説明文に出てくる一番古い年号は、どの施設の説明文か？		二宮赤城神社の神楽殿の壁に掛けられた説明板によると、平成11年4月に能面を二面寄附した人の職業は何と考えられるか？	
問題D=7図	減点=1点	問題E=1CP	減点=1点	問題F=2CP	減点=1点
「平成22年度東大室町特別栽培米生産地域」の看板によると、この看板に一番近い作付圃場の生産者は誰か？(6図~7図間の交差点名をよく覚えておくと楽かも...)		「大室公園」の案内図で、『臨時駐車場』になっている場所は、5世紀後半から6世紀の初め、何だったか？ ヒントは、『全体模型』にあります。		苗島神社の鳥居の「社額」は、楳取素彦の筆によるものだが、作成者の私(178cm)は背伸びせずにこの社額に手が届くか？	
問題G=2CP	減点=1点	問題H=4CP	減点=1点	問題I=5CP	減点=1点
苗島神社の拝殿に掲げられている「拝殿改築氏子寄付者芳名」の寄付額が他の神社で良く見かける金額とはチョット違う金額になっている。何故そのような金額になったか、「拝殿改修記念之碑」の碑誌の記載で答えよ。		「横室の大カヤ」が国指定天然記念物に指定されたのは、ODの二宮赤城神社にある「宝塔」が市の指定重要文化財に指定された何年前か？ 月は無視して年だけで考えてください。		「清光寺の由来」にある『境内の二本の松』の内、本堂に向かって左手にある松の高さは何mか？	

第60回 D-Wind Rally 『我が街 前橋ー至誠の精神で！？ー』

問題ー2

<p>問題J=5CP 減点=1点</p> <p>前橋公園にある『楫取君功德碑賛助人名』で、長野県の人は何人いるか？</p> 	<p>問題K=5CP 減点=1点</p> <p>臨江閣・本館2階にある、明治、大正、昭和の各天皇が群馬に来られた時の様子を紹介したパネルによると、「天皇」として臨江閣に宿泊したのは何天皇か？</p> 	<p>問題L=35図 減点=1点</p> <p>「藩営前橋製糸所跡」の碑は、何を期に建立されたか？</p> 
<p>問題M=6CP 減点=1点</p> <p>『史蹟 二子山古墳』の石碑が建設されたのは、国の史蹟に指定されてから何か月後か？ 次の月を1か月後として考えてください。</p> 	<p>問題N=7CP~8CP 減点=1点</p> <p>次の看板が出てくる順番を答えよ。看板の文字は、看板の地の色で消しています。</p> <div style="display: flex; justify-content: space-around;"> <div data-bbox="593 824 833 1126"> <p>(A)</p>  </div> <div data-bbox="912 824 1136 1182"> <p>(B)</p>  </div> <div data-bbox="1225 824 1391 1193"> <p>(C)</p>  </div> </div>	
<p>問題O=8CP~ (8CP~FCP) 減点=1点</p> <p>CP間をコマ図で区切った場合、各区間で落石注意の標識が一番多くある区間はどこか？ 進行方向で確認できるもののみカウント。</p> 	<p>問題P=FCP 減点=1点</p> <p>「まえばし赤城山観光案内」には、『温泉マーク』はいくつあるか？</p> 	

問題3 X問題

コース上のどこかに出てきます。

◇エンジョイクラスは、問題X-1~X-6は、解答不要です。

◇ダンガンクラスは、全て解答して下さい。

※問題Xは、問題X-6を除いて、あるキーワードの順番に出てきます。

問題X-1	減点=1点	問題X-2	減点=1点	問題X-3	減点=1点
この神社は、どこにあるか？ 作成者に判るように教えてください。		これは、何図にあるか？		これは、これがある周辺にいくつあるか？	
<p>(A)</p> 		<p>(G)</p> 		<p>(A)</p> 	
問題X-4		問題X-5		問題X-6	
減点=1点		減点=1点		減点=1点	
これは、どこにあるか？ 作成者に判るように教えてください。		この石の名前は？ あるコマ図内にあります。		今回のコースで、唯一前橋市から出る地点がある。それは何図先か？ 市境標識で確実に確認できる場所とする。	
<p>(K)</p> 		<p>(I)</p> 			

第60回 D-Wind Rally 『我が街 前橋ー至誠の精神で！？ー』

解答用紙 (クラス：・ダンガン ・エンジョイ)

チーム名				使用車種			
ドライバー				ナビゲータ			
走行日時	()		:	~	:	天候	
成績結果 送付先	住所:〒						
	氏名:			TEL : () -			

問題1 解答欄 (・ダンガンクラス：0.01km単位で記入 ・エンジョイクラス：0.1km単位で記入)

	解 答	減 点		解 答	減 点
スタート～1CP	km		5CP～6CP	km	
1CP～2CP	km		6CP～7CP	km	
2CP～3CP	km		7CP～8CP	km	
3CP～4CP	km		8CP～FCP	km	
4CP～5CP	km		問題1 減点計		

問題2 解答欄

	解 答	減 点		解 答	減 点
問題A			問題L		
問題B			問題M		
問題C			問題N		
問題D			問題O		
問題E			問題P		
問題F					
問題G			問題X-1		
			問題X-2		
問題H			問題X-3		
問題I			問題X-4		
問題J			問題X-5		
問題K			問題X-6		
問題2 減点計					

集計

申込みNo.	解答用紙受付日	問題1 減点	問題2 減点	減点合計	順位