

第6回 D-Wind Rally 『榛名から秋名へ—新シリーズの前奏曲として』 問題—3

問題X-3	減点	問題X-4	問題X-5
	5点	減点＝誤差1つにつき3点	5点
このトラックが最後にオイル交換をしたと思われるのは、走行距離何kmの時か？		スタートからゴールまで、信号機（押しボタン式も含む。補助信号は除く）は何ヶ所あるか？ 但し、コマ図6図の点滅信号は含まない。また、夏休み中消灯している押しボタン式信号もあるが、これも含む。）	林道「北榛名山線」と「南榛名山線」とでは、全長はどちらが何km長い？0.1kmの単位で答えよ。但し、北榛名山線の全長は、四捨五入して0.1km単位にして計算する事。
問題Y-1		減点	問題Y-2
	5点	5点	5点
【おさらい問題】 榛名自然観察林 伊香保森林公園 あづま森林公園 の全てにいる鳥は？	【おさらい問題】 榛名自然観察林 伊香保森林公園 あづま森林公園 の全てにいる鳥の内、『小鳥がさえずる森』の看板の分類で、ある1ヶ所の分類が他の2ヶ所の分類と違う鳥がいる。それは何？	【おさらい問題】 次の区間の道の内、林道は何番の区間か？ ①コマ図13図～15図の間 ②コマ図17図～18図の間 ③コマ図31図～32図の間 ④9CP～コマ図35図 ⑤コマ図35図～36図の間	
問題Z-1		問題Z-2	
鳥の名前1つにつき+1点		正解の場合+3点	
【とんちボーナス問題】 榛名自然観察林 伊香保森林公園 あづま森林公園 にいる鳥の名前を使って50文字程度の文をつくれ。（例文の場合＝+6点） (例文)『エナガとカケスの勝負はいつ見てもカッコ良かった。ツグミの日の新聞キジには、その写真がメジロ押しだった。』＝「江川と掛布の勝負はいつ見ても格好良かった。次の日の新聞記事には、その写真が目白押しだった。」 注)少々文法的に変でもOK。	【山勘ボーナス問題】 コマ図18図にある『高崎KGカントリークラブ』、コマ図26図近くにある『榛名カントリークラブ』、及びコマ図榛35図手前にある『伊香保ゴルフ倶楽部岡崎城コース』の内、私が行った事があるゴルフ倶楽部はどこでしょう？		

第6回 D-Wind Rally 『榛名から秋名へー新シリーズの前奏曲として』 問題ー2

問題J	減点	問題K	減点	問題L	減点
5CP	5点	6CP先	3点	6CP先	5点
榛東村営キャンプ場にある『これ何の木?』の説明文によると『ユスラウメ』の名前の由来は?		伊香保森林公園の管理棟の向かいにある『公園案内図』には、『ツツジ(つつじ)』の文字はいくつあるか?		伊香保森林公園の『小鳥がさえずる森』の看板に描かれた鳥の内、留鳥は何種類いるか?	
					
問題M	減点	問題N	減点	問題O	減点
7CP 上	5点	31図先右	5点	8CP~9CP	1点/誤差1秒
この登山道の看板を立てたのは、高崎のなんと言う名前の人か?		コマ図31図先約0.9km先右側にある榛名自然観察林の『小鳥がさえずる森』の看板に描かれた鳥の内、留鳥は何種類いるか?		【パソコン問題】 8CPから、時速20km/hで走行し、舗装とダートが出る度に、前速度の20%増減を繰り返した場合9CPまでに要する時間は、何秒か? 四捨五入して1秒単位で答えよ。	
					
問題P	減点	問題X-1	減点	問題X-2	減点
9CP	5点		5点		5点
あづま森林公園の『小鳥がさえずる森』の看板に描かれた鳥の内、留鳥は何種類いるか?		コース上にある下記の町名の書かれた看板にある各町のキャッチフレーズは?		林道「上の原線」の通る森林は、何有林か?	
		伊香保町 箕郷町 榛名町			



第6回 D-Wind Rally 『榛名から秋名へ-新シリーズの前奏曲として』 問題-1

問題1










各CP間の距離を測定し、補正した距離を求める。(0.01km単位)…減点=誤差0.01kmに付き、1点

問題2

問題A	減点	問題B	減点	問題C	減点
スタート	5点	スタート	5点	1CP	5点
<p>渋川駅前にある『しぶかわ観光案内マップ』によると、渋川市は昭和59年に全国に向けて何を宣言したか？</p>		<p>平日に渋川から前橋に行く場合、JRとバスとではどちらの運行本数の方が何本多いか？(JRは、新前橋で乗り換えるが、乗り換え電車の本数は無視する。また、JRは特急も含む)</p>		<p>榛名モータースポーツランドの2000年レース日程で、2000年最後を飾るレースは、何というレースの第何戦か？</p>	
					
問題D	減点	問題E	減点	問題F	減点
10図先左	5点	15図	5点	17図先右	5点
<p>コマ図10図先約0.5km左側にある『猪土手』の説明板によると、36ヶ村が協力して猪土手を築いたとあるが、説明板の図に書かれているのは何ヶ村か？</p>		<p>コマ図15図にある下月並神社に鈴を奉納したのは誰？</p>		<p>コマ図17図先約1km右側にある大久保岩井堂の石幢が奉造立されて今年で何年目か？</p>	
					
問題G	減点	問題H	減点	問題I	減点
3CP	5点	21図先左	5点	21図先左	5点
<p>林道南榛名山線『林道記念之碑』と『林道記念之碑再建の辞』で、同じ説明をしているのに表記が違う個所があるそれは何か？</p>		<p>ゆうすげの道入口にある『県立榛名公園ゆうすげのみち』の看板に描かれた山で、榛名山より高い山は？</p>		<p>ゆうすげの道入口にある『県立榛名公園ゆうすげのみち』の看板に描かれた神社はいくつあるか？</p>	
					



第6回 D-Wind Rally 『榛名から秋名へー新シリーズの前奏曲として』 CP写真

スタート	OD ここまで11.536km	1CP
1図 渋川駅 一方通行標識	6図 伊香保温泉『岸権 第4駐車場』看板横	9図先 榛東村 榛名モータースポーツランド 看板横
		
2CP	3CP	4CP
15図 榛名町 県道154 標識横	19図先 榛名町 林道〇〇線 青色の看板横(前の足)	21図 榛名町 案内標識横
		
5CP	6CP	7CP
25図先 榛東村『榛東村営 キャンプ場』看板横	26図先 伊香保町『伊香保ハイランドスケートセンター』看板(裏向き)横	30図先 吾妻町『国民宿舎榛名吾妻荘』看板横
		
8CP	9CP	ゴール
32図先 吾妻町 林道〇〇線 ダートIN	34図先 東村『あづま森林公園 オートキャンプ場』入口看板横	38図先『伊香保町町営駐車場 避難場所』看板横
