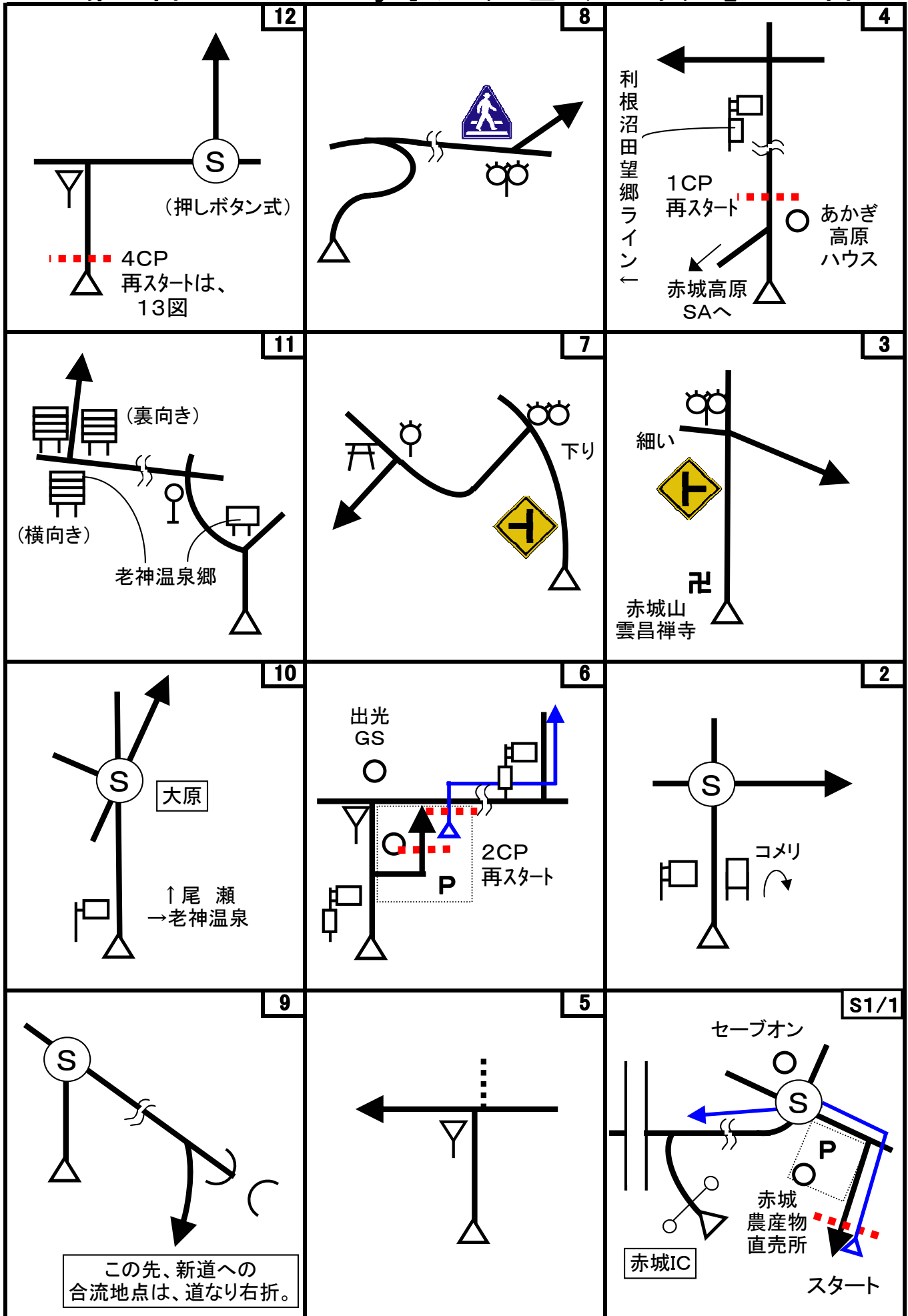

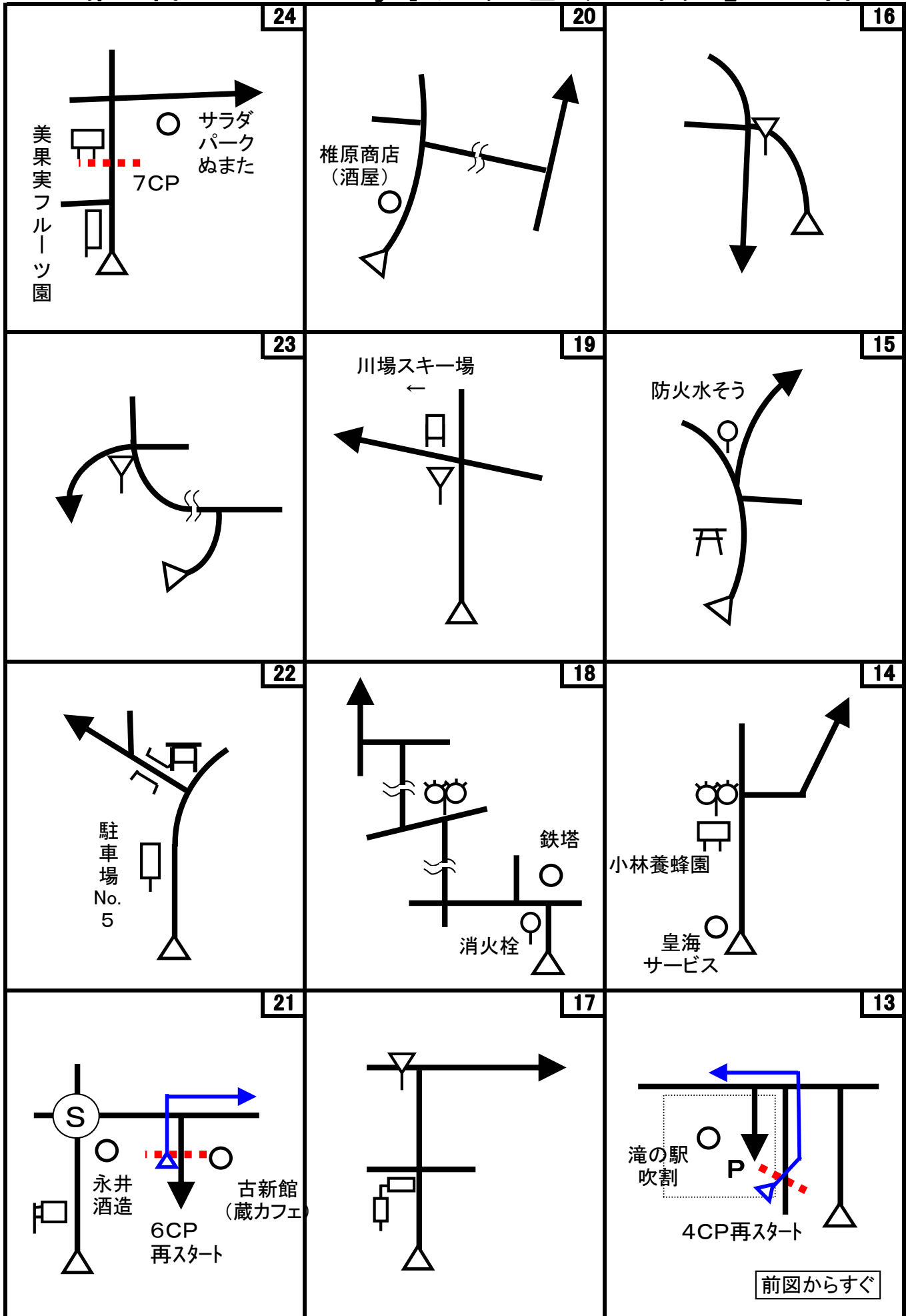


第58回 D-Wind Rally 『みのりの里スタンプラリー』 コマ図-1

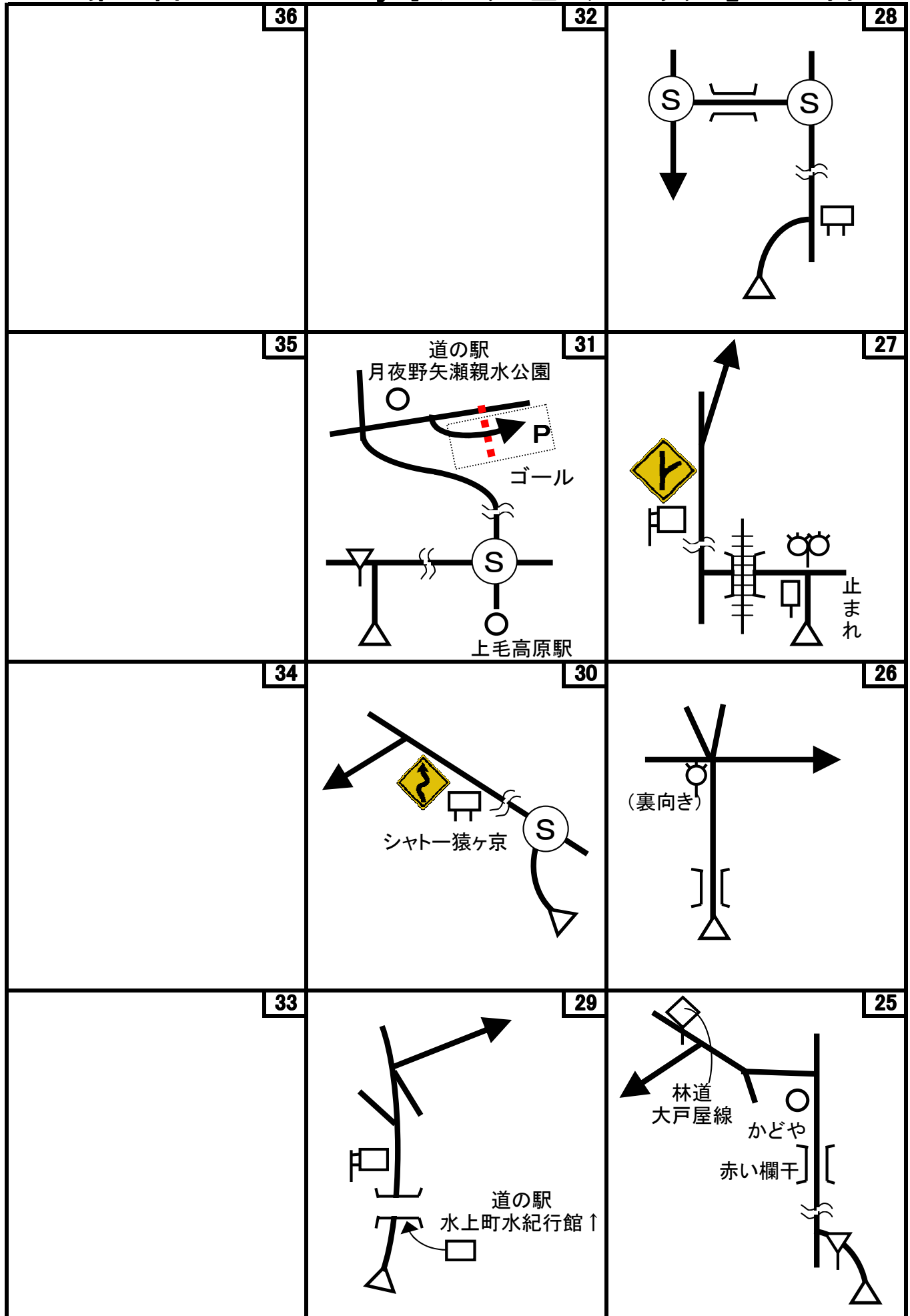


注)  は、横断歩道があることだけを示しています。標識の詳細な違いは無視して下さい。

第58回 D-Wind Rally 『みのりの里スタンプラリー』 コマ図-2



第58回 D-Wind Rally 『みのりの里スタンプラリー』 コマ図-3



Start



1図  
『赤城農産物直売所』  
駐車場脇の道にある電柱の添え柱  
  
速やかにスタートしてください

OD



2図先  
左手の路側帯にある緑色のフェンスの先端  
  
ここまで 6.242 km

1CP



4図  
左手の路側帯にある「立入禁止」看板

2CP



6図  
『農産物直売所・早おき村』  
前方から3本目の柱

2CP再スタート



6図  
『農産物直売所・早おき村』  
駐車場出口  
左手柵の手前端

3CP



9図先  
元『オルゴール館』前  
左手の電柱

4CP



12図  
左手の黄色の看板

4CP再スタート



13図  
『滝の駅・吹割』駐車場出口  
左手のカーブミラー

5CP



18図先  
『道の駅・白沢』駐車場横  
左手の裏向き看板

6CP



21図  
『永井酒造 古新館』  
建物の前方端

7CP



24図  
左手の路側帯にある裏向き看板

8CP



26図先 右手の電柱  
前方に「今井組」の看板が見える

9CP



29図先  
『仏岩ポケットパーク』前  
左手の電光表示板

10CP



30図先  
『サイクルスポーツセンター』  
臨時駐車場入口  
左手の電柱

FCP



31図  
『道の駅・月夜野矢瀬親水公園』駐車場  
右手の柱

お疲れ様でした！



# 第58回 D-Wind Rally 『みのりの里スタンプラリー』

問題-1

問題1 (距離言スタートからゴールまでの各CP間の距離を計測して下さい。)


- ◇エンジョイクラス: 10mの位は四捨五入して、100m単位で答えて下さい。  
(0. 1kmの誤差で減点1点)
- ◇ダンガンクラス : 1mの位は四捨五入して、10m単位で答えて下さい。  
(0. 01kmの誤差で減点1)

問題2 ※今回も減点は1点です。

問題A=1CP	減点=1点	問題B=1CP	減点=1点	問題C=1CP	減点=1点
「GUNMA GUIDE-MAP」にある上毛かるたは、何の読み札か？ (「あ」の読み札の様に答えてください)		「GUNMA GUIDE-MAP」にある「IC(インターチェンジ)」の内、群馬県内にあるのは何%か？ 四捨五入して整数で答えよ。		「赤城高原SAからの眺望」にある説明で、「残雪期にしか登山が出来ない山」は何と言う山か？	

問題D=4図~7図 減点=1点

次の石碑を出てくる順番に並べよ。 画像は一部加工してあります。



問題E=3CP 減点=1点 問題F=4CP 減点=1点 問題G=15図 減点=1点

元オルゴール館の入口にある「施設のご案内」で、当時一般客が立ち入れなかった所はどこと考えられるか？ 不必要に敷地内、建物などに入らないこと！



『滝の駅・吹割』の駐車場側の出入り口にある「メ切」は誰に対して言っているか？



神社の道路沿いにあるこの看板の用途は？ 作成者と同じ答えを正解とする。



# 第58回 D-Wind Rally 『みのりの里スタンプラリー』

問題-2

<p>問題H=15図先 減点=1点</p>	<p>問題I=5CP 減点=1点</p>	<p>問題J=5CP 減点=1点</p>	<p>問題K=9CP 減点=1点</p>	<p>問題L=9CP 減点=1点</p>	<p>問題M=10CP 減点=1点</p>
<p>栗生トンネルの入り口は、林道赤倉栗生線の起点からおよそ何mの地点か？</p> 	<p>「沼田ガイドマップ」の「市街地マップ」には、学校はいくつあるか？</p> 	<p>この展望デッキ(?)の写真にある山で、問題Iの「沼田ガイドマップ」に記載のない山は？</p> 	<p>「仏岩ポケットパーク」の案内板に説明書きがあるもの(例えばトイレ)で、現在無くなっていると思われるものは何か？ 駐車スペース周辺にある歩道(案内板で薄紅色の部分)から確認できる範囲で答えよ。</p> 	<p>「大峰山・吾妻耶山登山概念図」によると、仏岩は岩の分類では、何岩か？</p> 	<p>10CPの近くにある「間伐事業実施地」によると、平成21年に実施された間伐方法は何か？</p> 
<p>問題N=FCP 減点=1点</p> <p>「みなかみ町矢瀬親水公園ご案内図」の『先人達の生きたあかし...』に誤字があるが、誤字と正しい字を答えよ。</p> 	<p>問題O=FCP 減点=1点</p> <p>「公園を利用されるみなさんへ」の看板の右手にあるこれは、何か？</p> 				

# 第58回 D-Wind Rally 『みのりの里スタンプラリー』

問題-3







## 問題3 X問題

コース上のどこかに出てきます。

◇エンジョイクラスは、問題X-1~X-6は、解答不要です。

◇ダンガンクラスは、全て解答して下さい。

※問題Xは、あるキーワードの順番に出てきます。

問題X-1	減点=1点	問題X-2	減点=1点	問題X-3	減点=1点
これは、何を表しているか？		この先につながる道は、何という道か？		この看板を監修したのは誰か？	
(T)		(A)		(N)	
問題X-4	減点=1点	問題X-5	減点=1点	問題X-6	減点=1点
この像を沼田市に贈ったのは、誰か？(個人とは限りません)		これはどの問題の場所から見えるか？		このリスさんは、どこにいるか？ 作成者が判るように教えてください。	
(U)		(M)		(A)	



# 第58回 D-Wind Rally 『みのりの里スタンプラリー』

## 解答用紙 (クラス：・ダンガン ・エンジョイ)

チーム名				使用車種			
ドライバー				ナビゲータ			
走行日時	( )		:	~	:	天候	
成績結果 送付先	住所:〒						
	氏名:			TEL : ( )		-	

### 問題1 解答欄 (・ダンガンクラス: 0.01km単位で記入 ・エンジョイクラス: 0.1km単位で記入)

	解 答	減 点		解 答	減 点
スタート~1CP	km		6CP~7CP	km	
1CP~2CP	km		7CP~8CP	km	
2CP~3CP	km		8CP~9CP	km	
3CP~4CP	km		9CP~10CP	km	
4CP~5CP	km		10CP~FCP	km	
5CP~6CP	km		<b>問題1 減点計</b>		

### 問題2 解答欄

	解 答	減 点		解 答	減 点
問題A			問題L		
問題B			問題M		
問題C			問題N	誤) ⇒ 正)	
問題D	- - -		問題O		
問題E					
問題F			問題X-1		
問題G			問題X-2		
			問題X-3		
問題H			問題X-4		
問題I			問題X-5		
問題J			問題X-6		
問題K			<b>問題2 減点計</b>		

### 集計

申込みNo.	解答用紙受付日	問題1 減点	問題2 減点	減点合計	順位