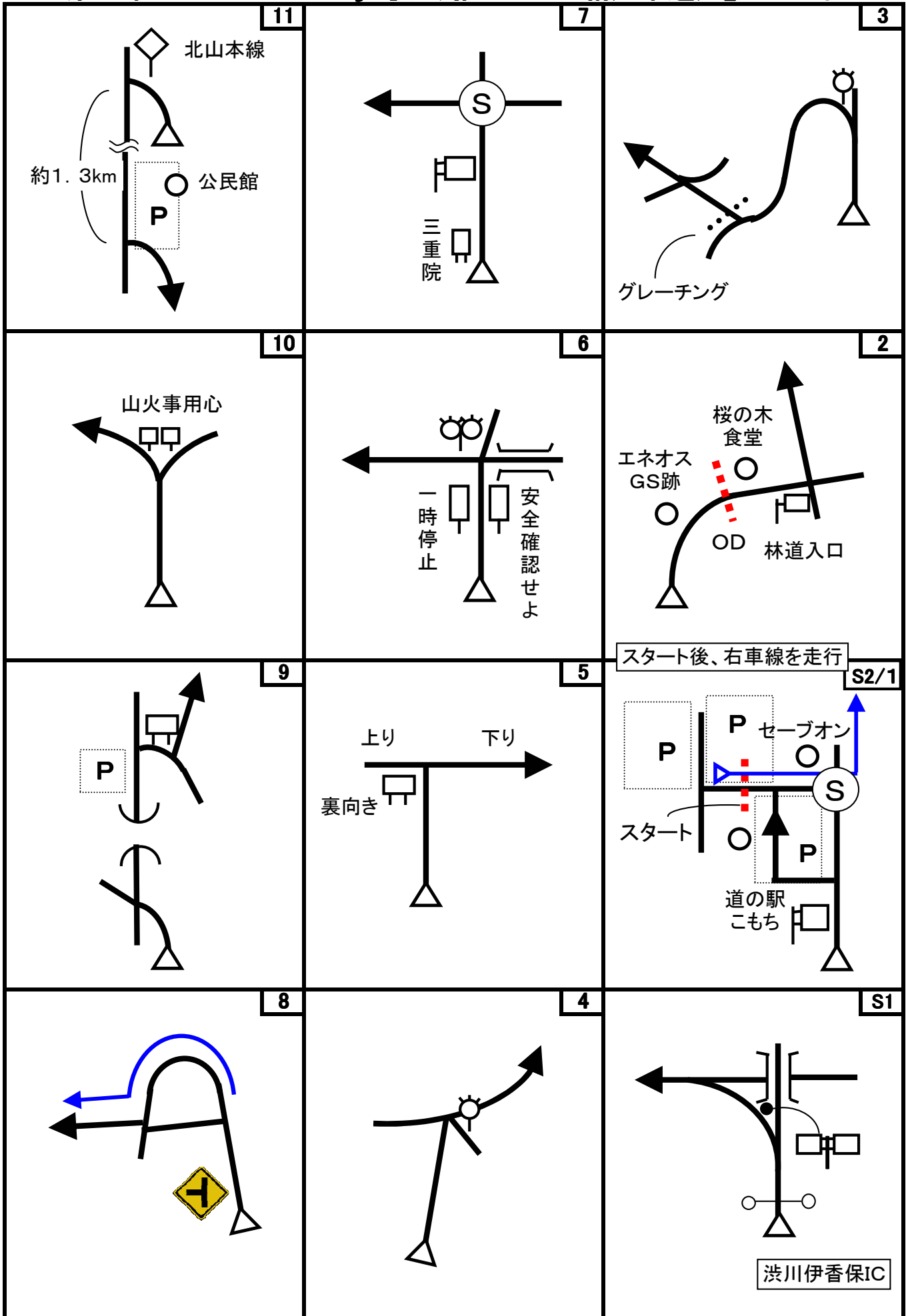
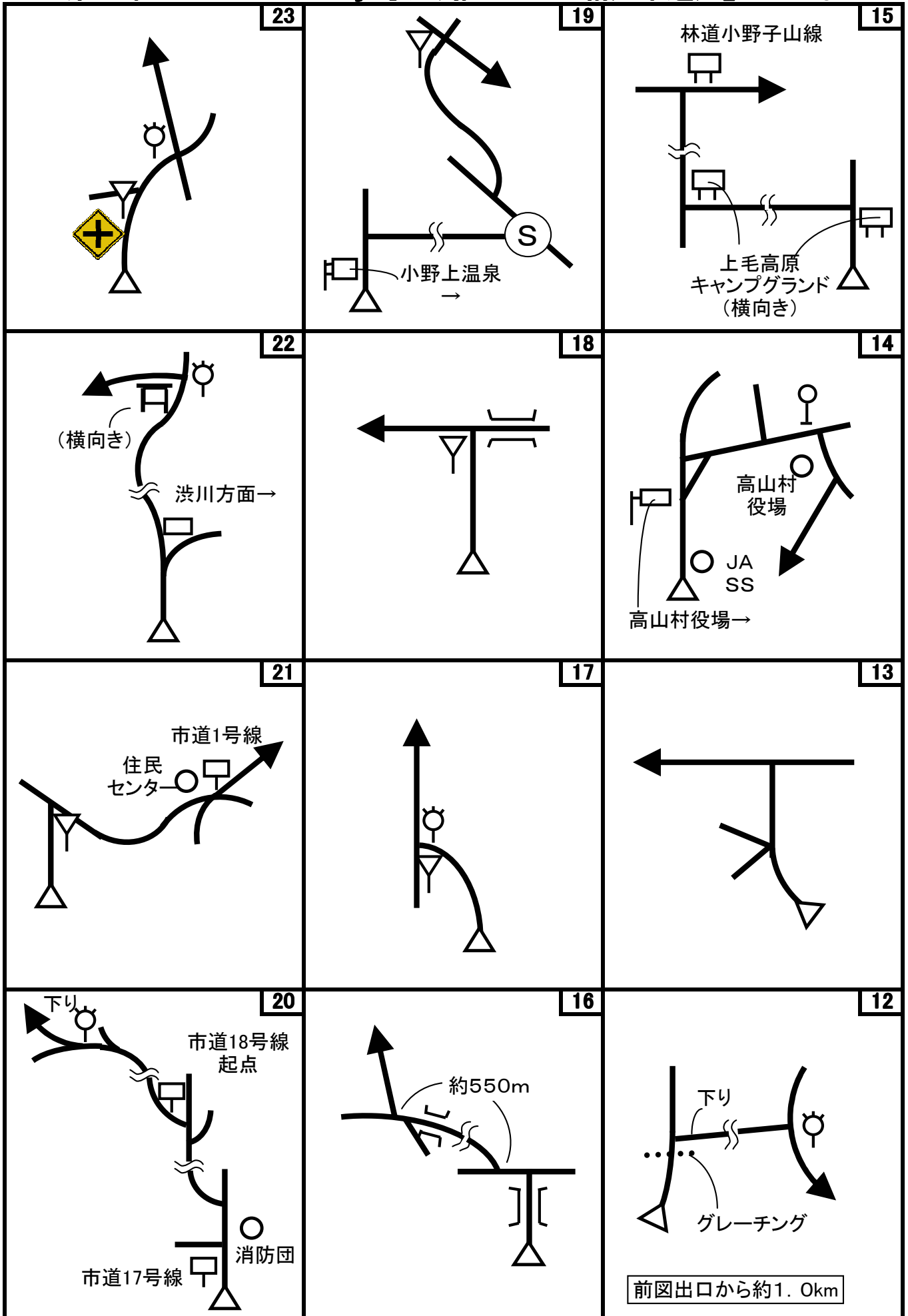


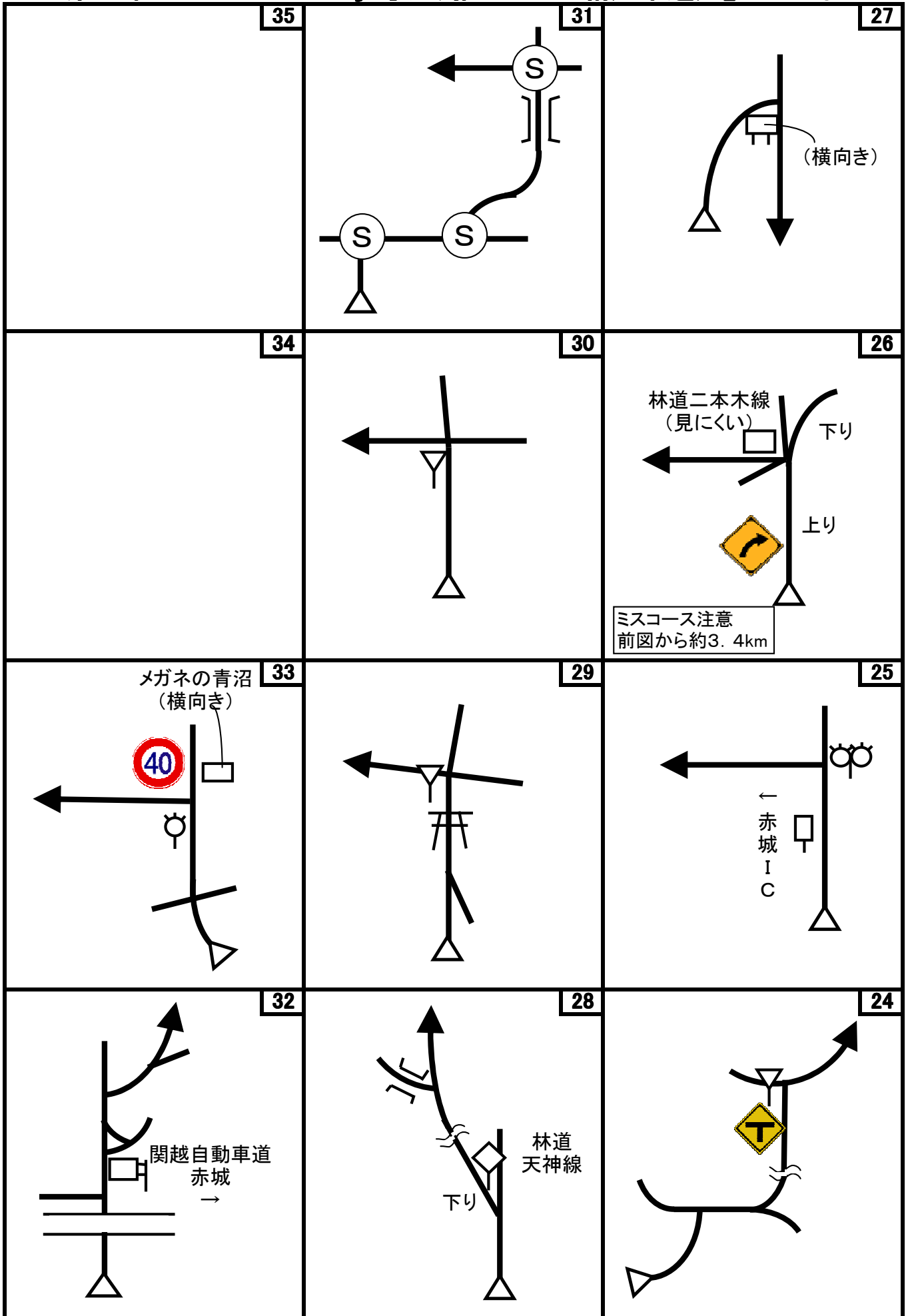
第57回 D-Wind Rally 『切り捨てられた絹産業遺産』 コマ図-1



第57回 D-Wind Rally 『切り捨てられた絹産業遺産』 コマ図-2



第57回 D-Wind Rally 『切り捨てられた絹産業遺産』 コマ図-3



問題1 (距離言スタートからゴールまでの各CP間の距離を計測して下さい。)


◇エンジョイクラス: 10mの位は四捨五入して、100m単位で答えて下さい。

(0. 1kmの誤差で減点1点)

◇ダンガンクラス : 1mの位は四捨五入して、10m単位で答えて下さい。

(0. 01kmの誤差で減点1)

問題2 ※今回も減点は1点です。

問題A=スタート	減点=1点	問題B=スタート	減点=1点	問題C=スタート	減点=1点
<p>「渋川地区広域圏観光案内図」に描かれている果物の数で、次の計算式をした時の答えは？ (「りんご」-「いちご」)×「ぶどう」</p>		<p>「渋川市観光案内図」の両側にある説明文に出てくる数字で、単位が「m」で表されている数字を全て加えるといくつか？</p>		<p>「白井堰」の説明板の横にある俳句の最優秀作品を読んだ人で、今現在渋川市に住んでいると思われる人は誰？</p>	
					
問題D=3図先	減点=1点	問題E=3図先	減点=1点	問題F=3CP	減点=1点
<p>このバス停を通るバスに、テレビ東京の人気番組「ローカル路線バス乗り継ぎ人情ふれあい旅」で、太川陽介らの出演者が乗ったが、それは何曜日か？考えられる曜日を全て答えよ。</p>		<p>「農業農村整備事業」の説明板にある「単位当たりの事業費」から算出すると、整備された幹線農道(道路)は、何mか？ 四捨五入して整数で答えよ。</p>		<p>赤根トンネルの3CP側の銘板は、誰が書いたものか？</p>	
					
問題G=3CP	減点=1点	問題H=3CP	減点=1点	問題I=10図先	減点=1点
<p>「施設ガイドマップ」の「現在位置より、およその距離」で明らかな誤記があるが、それは何か？</p>		<p>この円形のベンチの外径は何cmか？ 四捨五入して整数で答えよ。</p>		<p>「東谷風穴」の近くにあるこれは、何だったか？</p>	
					

第57回 D-Wind Rally 『切り捨てられた絹産業遺産』

問題-2

<p>問題J=10図先 減点=1点</p> <p>「東谷風穴」は、平成22年2月22日に国指定史跡に指定されているが、それは中之条町史に指定された日から何日後か？次の日を1日後として計算してください。</p> 	<p>問題K=12図先 減点=1点</p> <p>このゴミ集積場での分別は、「生ごみ」と何か？</p> 	<p>問題L=15図先 減点=1点</p> <p>「・・・水源の森」の説明看板によると、保安林制度が出来てから今年で何年か？</p> 
<p>問題M=8CP 減点=1点</p> <p>この温泉貯湯槽を単純な円柱と考えた場合、周囲に巻かれた断熱材の厚さは、何cmと考えられるか？タンクの銘板から得られる情報から推測してください。 1)15cm 2)25cm 3)35cm</p> 	<p>問題N=8CP 減点=1点</p> <p>「小野上温泉周辺登山道」に標高の表記がある4つの山の内、スタートにあった「渋川市観光案内図」の表記と最もその数字が違う山は何か？</p> 	<p>問題O=FCP 減点=1点</p> <p>スタートにあった「渋川地区広域圏観光案内図」になくて、ゴールの「渋川地区広域圏観光案内図」に現れた人は誰か？何と言う所で何をしている人かを答えよ。 《ヒント》2つの案内図の元の図は全く同じです。ちがう所は？</p> 
<p>問題I、Jの補足</p> <p>10図先、5CP手前の脇道に入った先にある「東谷風穴」にクイズを設定しています。 東谷風穴に行くには、やや狭い林道を約1.5km走り、その後ダートの林道を約600m(約10分)歩く必要があります。歩く道は急勾配は無く、平たんに近い歩きやすい道です。</p> 		












問題3 X問題

コース上のどこかに出てきます。

◇エンジョイクラスは、問題X-1~X-7は、解答不要です。

◇ダンガンクラスは、全て解答して下さい。

※問題Xは、あるキーワードの順番に出てきます。

問題X-1	減点=1点	問題X-2	減点=1点	問題X-3	減点=1点
これは何装置か？		この花は何CP(スタート、OD、ゴールを含む)の近くにあるか？		この向こう側にあるのは何か？	
<p>(A)</p> 		<p>(H)</p> 		<p>(K)</p> 	
問題X-4	減点=1点	問題X-5	減点=1点	問題X-6	減点=1点
これは何か？(画像は一部加工しています)		これは、何CP(スタート、OD、ゴールを含む)の近くにあるか？		これは、何図、または何図先にあるか？	
<p>(M)</p> 		<p>(O)</p> 		<p>(Y)</p> 	
問題X-7	減点=1点				
次のものがある地点と、その前のCPとの距離が短い順に並べよ。					
<p>(A)</p> 		<p>(C)</p> 		<p>(I)</p> 	
<p>(O)</p> 		<p>(M)</p> 			

Start

OD

1CP



1図 『道の駅 こもち』
左手の「大型車専用駐車場」
(裏向き)看板

速やかにスタートしてください

2図 左手の国道距離ポスト

ここまで 7.492 km

3図先
左手の電柱

2CP

3CP

4CP



5図
左手の電柱

9図
左手の『ポケットパーク』看板

速やかに右手前の駐車場に移
動のこと。

10図先
左手の林道看板(起点より11
km) 手前の脚

5CP

6CP

7CP



10図先 左手のこげ茶色の電
柱

14図 『高山村役場』前
右手の電柱

16図 『清河(せいご)橋』入口

クイズQ-I、Jは、少し手前の脇
道に入る。



8CP



19図 『小野上温泉センター』
前 外灯

9CP



22図先 右手の橋の手前の欄干

民家への入口ですので、速やかに再スタートしてください。

10CP



26図 「林道二本木線」入口
グレーチング

FCP



33図先 左手の電柱の添え柱

お疲れ様でした！

第57回 D-Wind Rally『切り捨てられた絹産業遺産』

解答用紙 (クラス：・ダンガン ・エンジョイ)

チーム名				使用車種			
ドライバー				ナビゲータ			
走行日時	()		:	~	:	天候	
成績結果 送付先	住所:〒						
	氏名:			TEL : ()		-	

問題1 解答欄 (・ダンガンクラス：0.01km単位で記入 ・エンジョイクラス：0.1km単位で記入)

	解 答	減 点		解 答	減 点
スタート～1CP	km		6CP～7CP	km	
1CP～2CP	km		7CP～8CP	km	
2CP～3CP	km		8CP～9CP	km	
3CP～4CP	km		9CP～10CP	km	
4CP～5CP	km		10CP～FCP	km	
5CP～6CP	km		問題1 減点計		

問題2 解答欄

	解 答	減 点		解 答	減 点
問題A			問題M		
問題B			問題N		
問題C			問題O		
問題D					
問題E					
問題F			問題X-1		
問題G			問題X-2		
			問題X-3		
問題H			問題X-4		
問題I			問題X-5		
問題J			問題X-6		
問題K			問題X-7	- - - -	
問題L			問題2 減点計		

集計

申込みNo.	解答用紙受付日	問題1減点	問題2減点	減点合計	順位