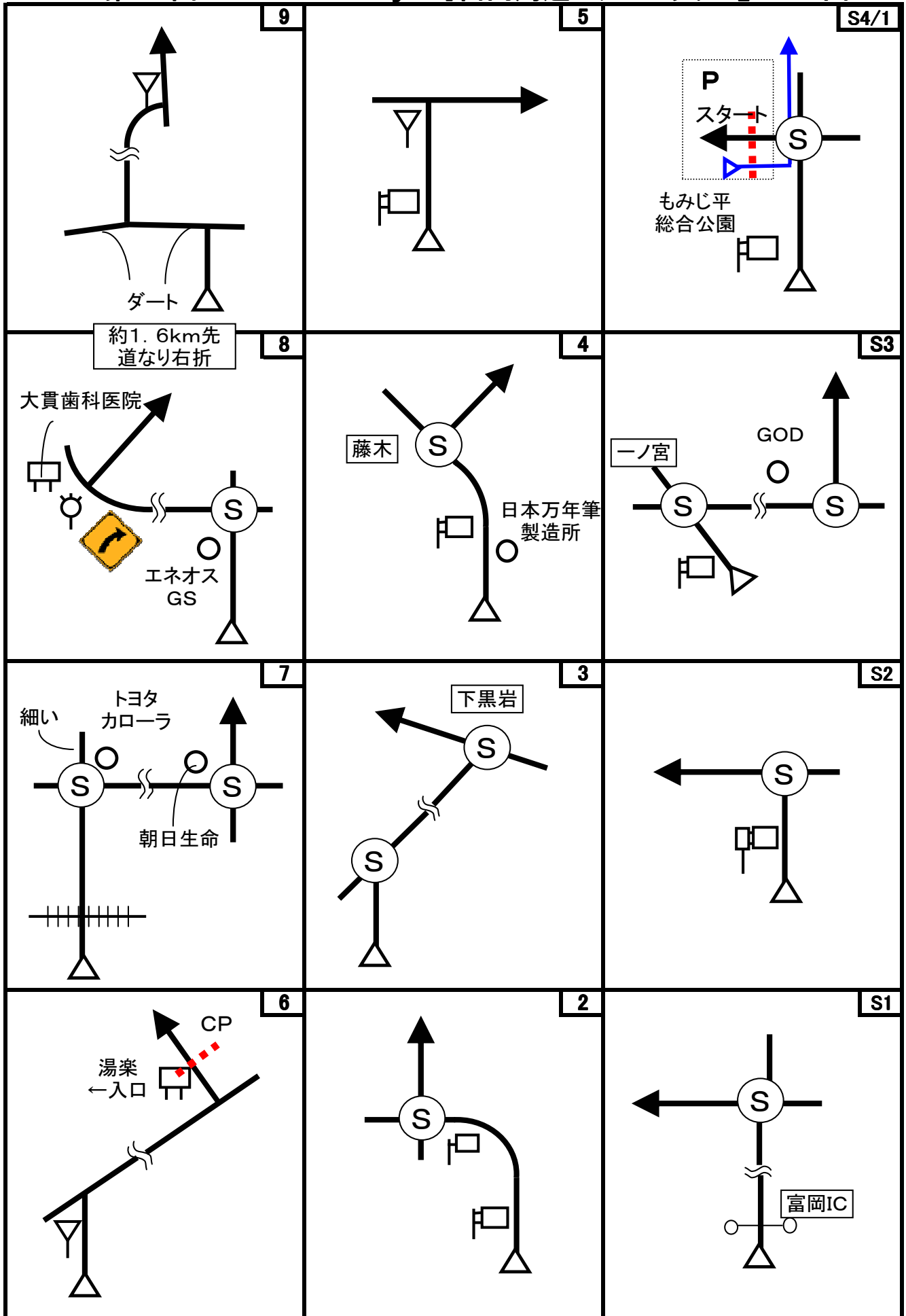
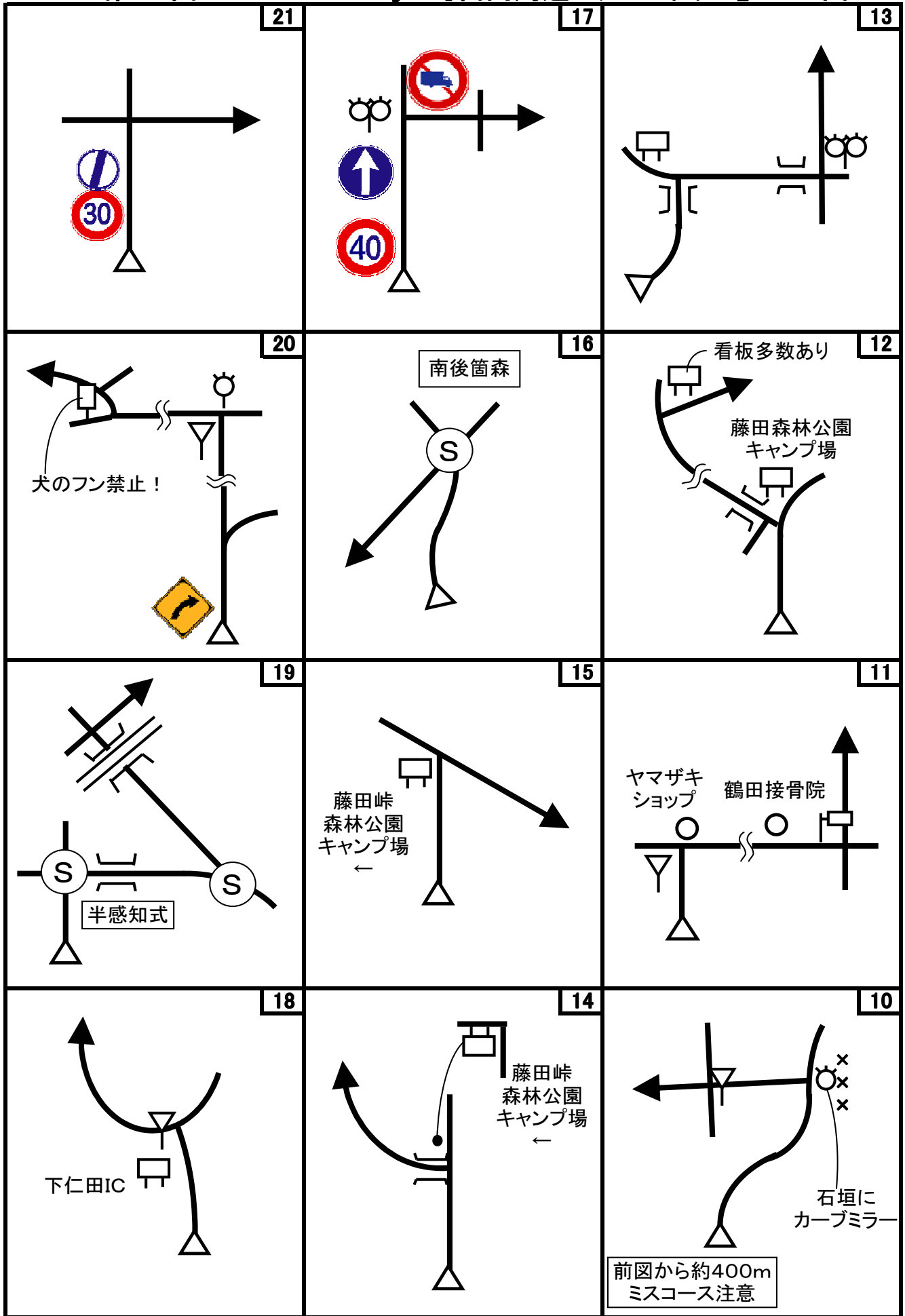


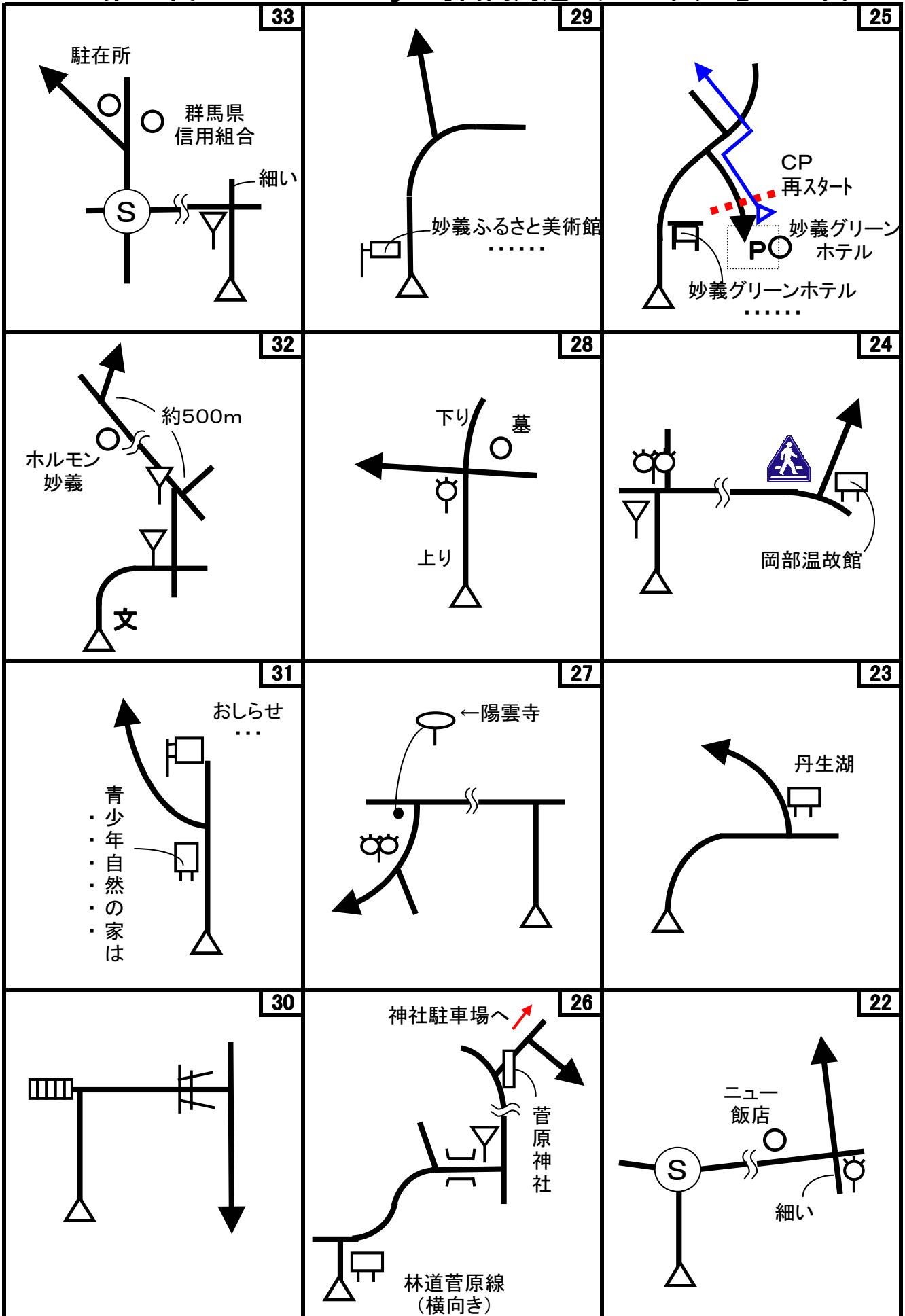
第56回 D-Wind Rally 『富岡周遊スタンプラリー』 コマ図-1




第56回 D-Wind Rally 『富岡周遊スタンプラリー』 コマ図-2

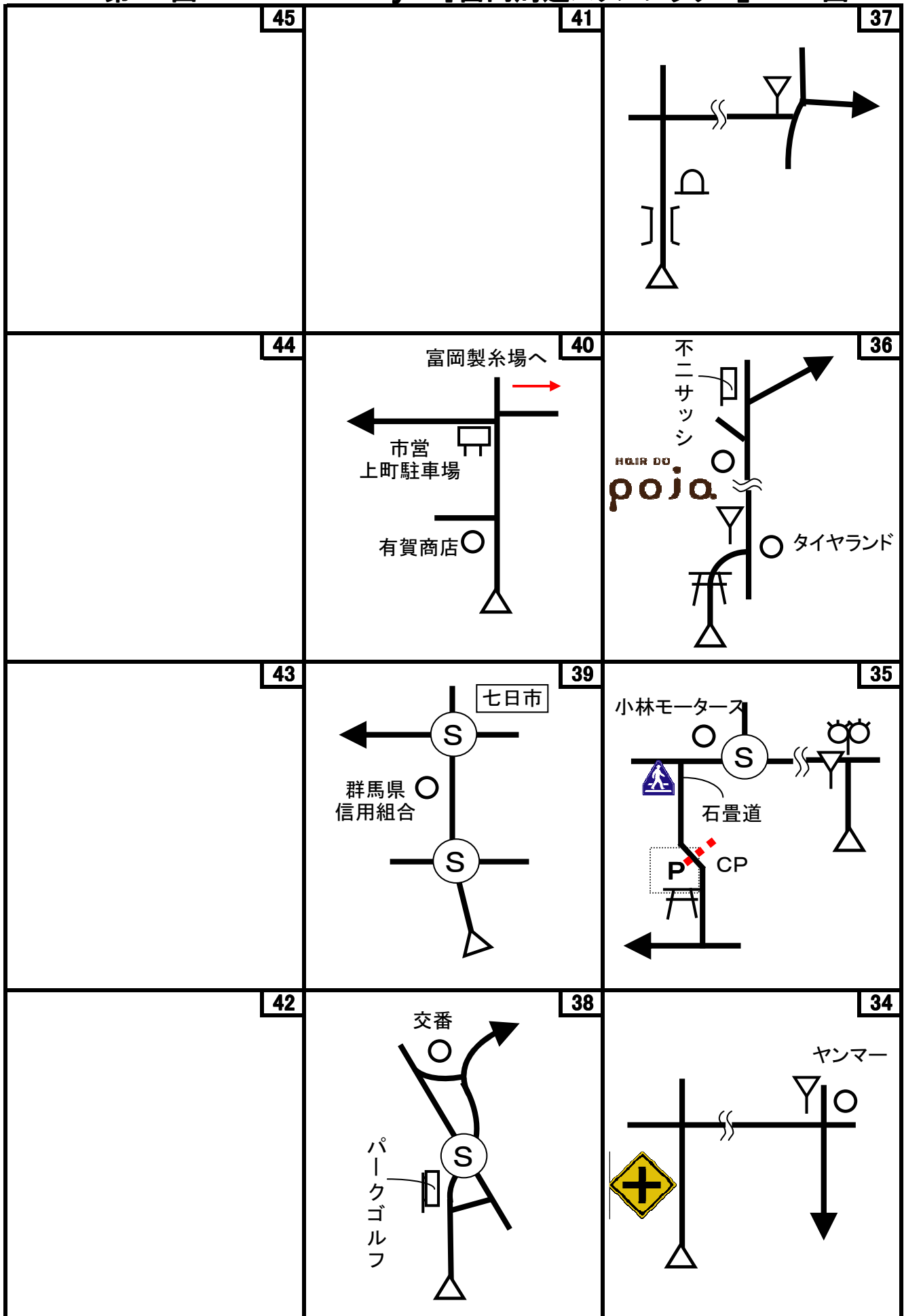



第56回 D-Wind Rally 『富岡周遊スタンプラリー』 コマ図-3



注)  は、横断歩道があることだけを示しています。標識の詳細な違いは無視して下さい。

第56回 D-Wind Rally 『富岡周遊スタンプラリー』 コマ図-4



注)  は、横断歩道があることを示しています。標識の詳細な違いは無視して下さい。

第56回 D-Wind Rally 『富岡周遊スタンプラリー』

問題-1

問題1 (距離計スタートからゴールまでの各CP間の距離を計測して下さい。)

- ◇エンジョイクラス: 10mの位は四捨五入して、100m単位で答えて下さい。
(0. 1kmの誤差で減点1点)
- ◇ダンガンクラス : 1mの位は四捨五入して、10m単位で答えて下さい。
(0. 01kmの誤差で減点1)

問題2 ※今回も減点は1点です。

<p>問題A=全コース 減点=1点 スタート~ゴールの間で、何度か富岡市から他市町村に出るが、再び富岡市に入る場所はその前のCPから何kmの地点か? 四捨五入して小数点以下1桁まで答えよ。 ±0. 2kmまでOK。</p> <p>「富岡市」標識で明らかに確認できる場所のみ答えてください。 距離計測は停止せず走行しながら確認してください。 解答欄の数だけ答えがあるとは限りません。</p>	<p>問題B=スタート 減点=1点 もみじ平総合案内所近くにある「とみおか観光マップ」にある場所(観光地など)の内、今回のコースで立ち寄る場所(CP、クイズポイント)は何か所あるか?(スタート、ゴールも含む X問題は除く)</p> 	<p>問題C=スタート 減点=1点 もみじ橋の親柱にある「明治をしのぶガス燈」は、今現在は何によって灯されているか?</p> 
<p>問題D=スタート 減点=1点 スタートの側の駐車場でトラブルにならないように注意しなければならない事は何か? 全て答えよ。</p> 	<p>問題E=スタート 減点=1点 スタートに静態保存されているデキ型電気機関車2号機の運転席にあるこのスイッチは、何のスイッチか?</p> 	<p>問題F=5図先 減点=1点 稲荷神社の旧社殿が作られた時の将軍からみて、その時の天皇はどんな関係か?</p> 
<p>問題G=9図 減点=1点 9図地点は、上信越道にある何という施設の上になるか?</p>	<p>問題H=12図 減点=1点 「ご案内」の説明板には、明らかな間違いがある。 それは何か?</p> 	<p>問題I=5CP 減点=1点 八幡宮の拝殿に向かって左手にある石灯籠の台座面で、階段側の面の一番右に書かれた人名は?</p> 


問題J=23図先 減点=1点

23図先にある「丹生湖の概要」の看板にある丹生湖の貯水量などの値で、12図にあった「大塩湖ご案内」の看板の値より小さいのは、何の値か？



問題K=6CP 減点=1点

妙義グリーンホテルにあるこのスペースは、何故駐車禁止になっているか？



問題L=26図 減点=1点

「菅原道真公ゆかりの地」の看板にある場所で、今現在表記が間違っている場所はどこで、正しくは何か？
※市町村合併によるものは除く。



問題M=26図 減点=1点

菅原神社の「菅原神社本殿屋根改修記念碑」によると、篤志寄付者で今現在の富岡市在住の人は、全篤志寄付者の何%か？ 四捨五入して整数で答えよ。



問題N=7CP 減点=1点


7CP近くにある「妙義山登山まっぷ」によると、次のルート歩くには何分掛かるか？

「道の駅みょうぎ」を出発して、「(中間道)入口」から「第1見晴」を経て、「奥の院」に行き、「大の字・白雲山頂登山道入口」まで戻る。



問題O=7CP 減点=1点

妙義神社にある「妙義神社の大杉」には、今流行の(?)偽装があるが、それは何か？



問題P=7CP 減点=1点

妙義神社にある「妙義山」の歌碑の楽譜にある8分音符の数は、スタートのもみじ平総合案内所近くにあった「メロディボックス」(周辺の歩道面も含む)にあったそれよりいくつ多いか？少ないか？



問題Q=9CP 減点=1点

貫前神社本殿裏にある大杉は、どこの誰が奉納したものか？



問題R=FCP 減点=1点

富岡製糸場の正門前にあるポストには、DWR56開催中に何度取集に来るか？














問題3 X問題

コース上のどこかに出てきます。

◇エンジョイクラスは、問題X-1~X-7は、解答不要です。

◇ダンガンクラスは、全て解答して下さい。

※問題Xは、X-7を除いて、あるキーワードの順番に出てきます。

問題X-1	減点=1点	問題X-2	減点=1点	問題X-3	減点=1点
この東屋ではいけないことは何か？		この時計台は、誰が寄贈したのか？		この絵が描かれた建物の壁(道路上から確認できる壁のみ)には、鳥はいくつ描かれているか？	
この看板がある施設には、何が置かれているか？		この絵は、何図または何図先にあるか？		この絵は、何図または何図先にあるか？	
問題X-7	減点=1点				
次のお地藏さん、石碑、庚申塔などを出てくる順番に並べよ。					
					

Start



1図 『もみじ平総合公園』
左手の「お願い・・・」看板
速やかにスタートしてください

OD



4図先 左手の県道標識
ここまで 7.311 km

1CP



6図
左手の電柱

2CP



8図先
左手の電柱
右手に高速道路の表示板あり
※この先、道幅狭く、木の枝が出張っている箇所あり。注意。

3CP



15図先
左手の県道標識
※この先、道幅狭く、急な下り坂が続くので注意。

4CP




17図先
左手の電柱
※右手にある建物は、こんにやく芋をこんにやくの原料になる荒粉にしている工場です。

5CP



21図先 『八幡宮』前
左手にある石柱の手前側

6CP



25図 『妙義グリーンホテル』
駐車場入口
左手のガードレール先端
速やかに駐車場に移動のこと
再スタートはUターンして同じ場所から

7CP



29図先 「妙義神社 市営駐車場」前
道路上のグレーチング
速やかに左手の駐車場に移動し、徒歩(約5分)で妙義神社へ

8CP



33図先
左手のゴミ集積場の先端

※8CPすぐ先のY字路は、左方向へ(右は民家に入って行き止まり)

9CP



35図 『一ノ宮貫前神社』駐車場前
左手の真っ直ぐな木(少し道から奥まっています)

速やかに右手の駐車場に移動のこと

FCP



40図先 『富岡上町市営駐車場』前
左手の看板の先にあるブロック塀

速やかに駐車場に移動のこと(下欄参照)

お疲れ様でした!

上町市営駐車場は有料です。
30分までは無料。
その後30分ごとに100円。
上限は500円。

富岡製糸場は、コマ図42図の左折地点を右折した先です。周辺には駐車場はありませんので、上町市営駐車場に車を停めて徒歩(約5分)で行ってください。途中お土産屋さんもあります。

富岡製糸場は、入場料が500円必要です。
入場受付は16時半までで、17時には閉まりますので、時間に注意。

第56回 D-Wind Rally 『富岡周遊スタンプラリー』

解答用紙 (クラス：・ダンガン ・エンジョイ)

チーム名		使用車種	
ドライバー		ナビゲータ	
走行日時	()	: ~ :	天候
成績結果 送付先	住所:〒		
	氏名:	TEL : ()	-

問題1 解答欄 (・ダンガンクラス: 0.01km単位で記入 ・エンジョイクラス: 0.1km単位で記入)

	解 答	減 点		解 答	減 点
スタート～1CP	km		6CP～7CP	km	
1CP～2CP	km		7CP～8CP	km	
2CP～3CP	km		8CP～9CP	km	
3CP～4CP	km		9CP～FCP	km	
4CP～5CP	km				
5CP～6CP	km		問題1 減点計		

問題2 解答欄

	解 答	減 点		解 答	減 点
問題A	()CPから()km		問題M		
	()CPから()km		問題N		
	()CPから()km		問題O		
問題B			問題P		
問題C			問題Q		
問題D			問題R		
問題E					
問題F					
問題G			問題X-1		
問題H			問題X-2		
問題I			問題X-3		
問題J			問題X-4		
			問題X-5		
問題K			問題X-6		
			問題X-7	- - - -	
問題L			問題2 減点計		

集計

申込みNo.	解答用紙受付日	問題1 減点	問題2 減点	減点合計	順 位