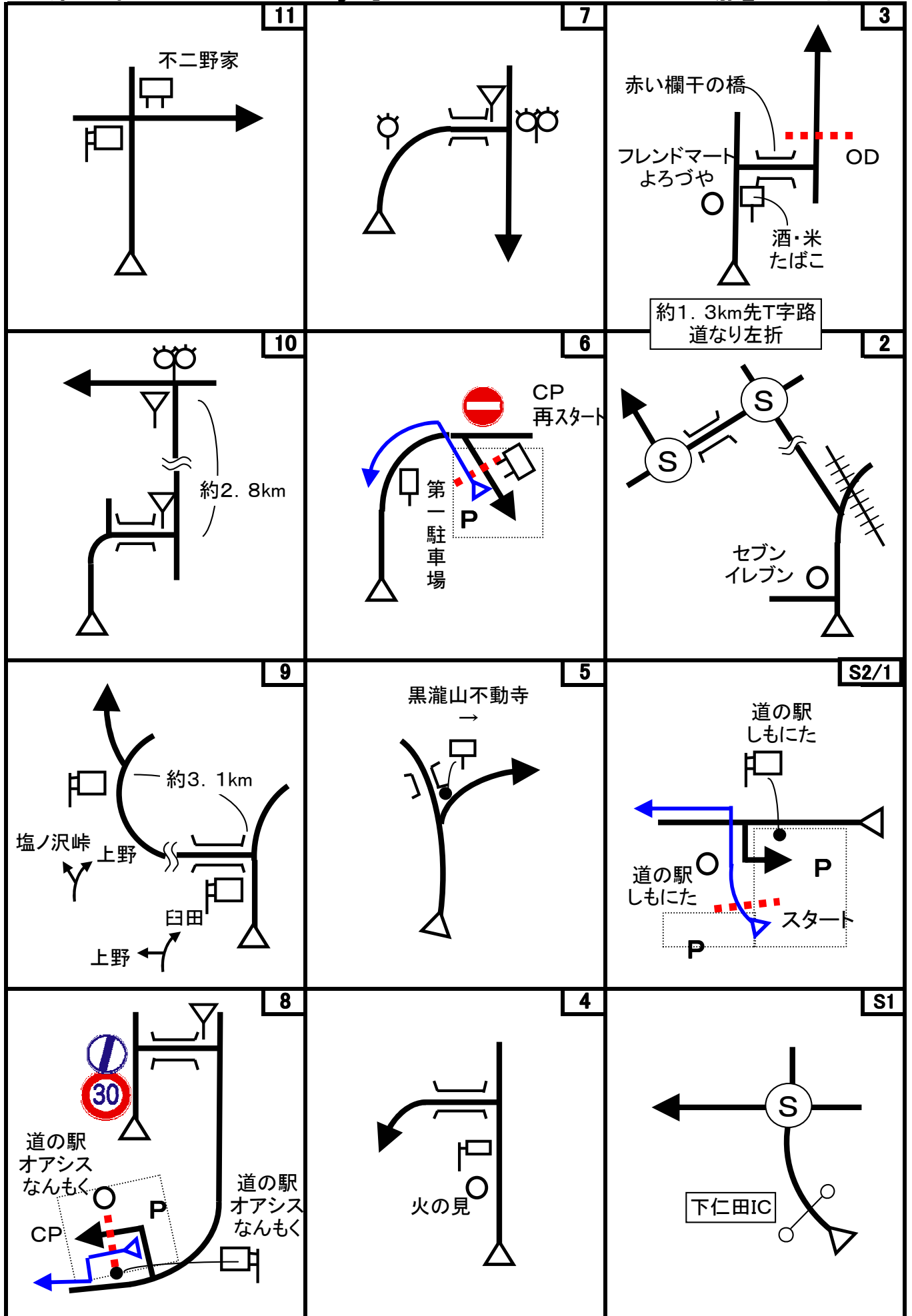
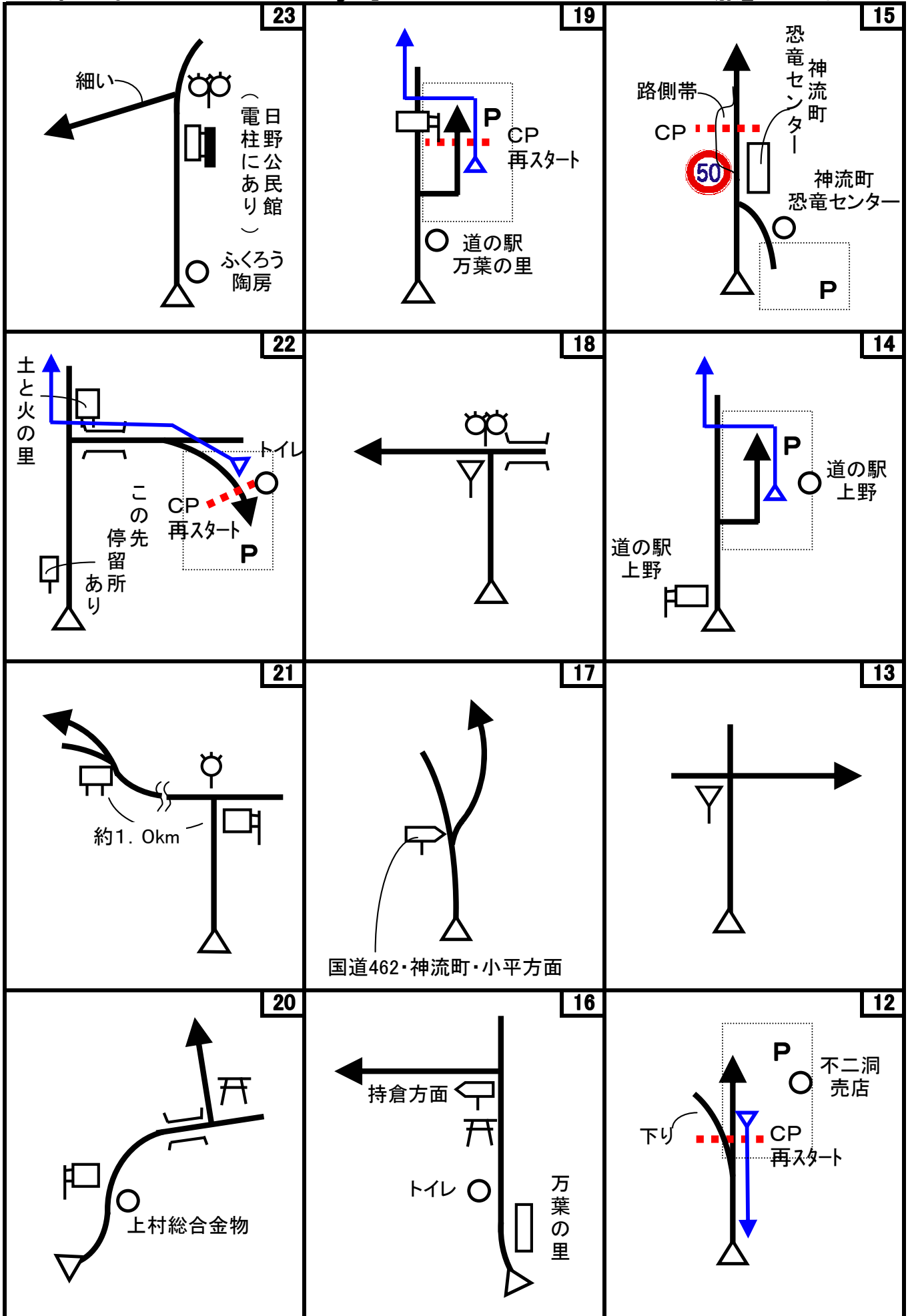


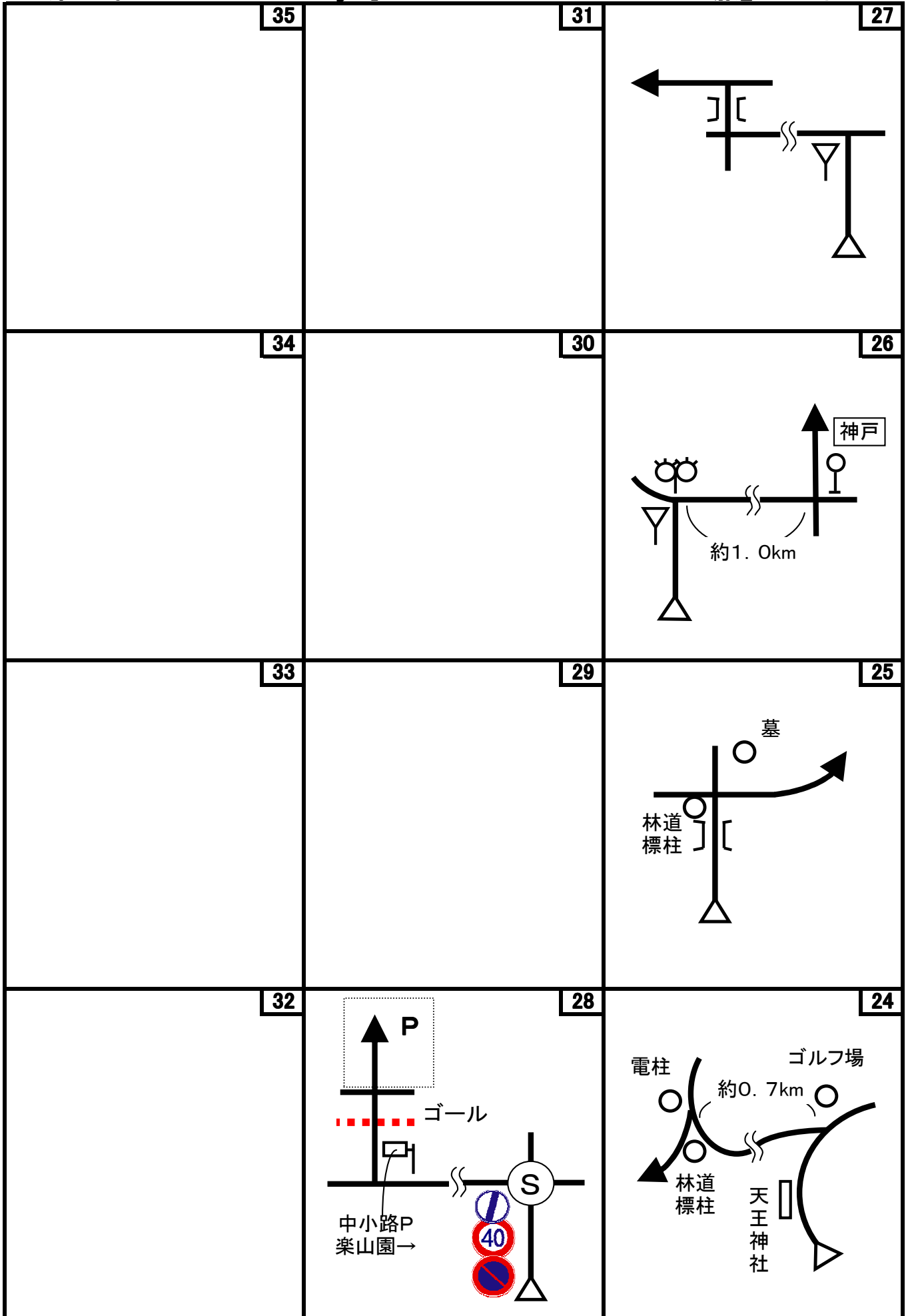
# 第55回 D-Wind Rally 『かな・かぶら∞ぐるぶらの旅』 コマ図-1



第55回 D-Wind Rally 『かな・かぶら∞ぐるぶらの旅』 コマ図-2



第55回 D-Wind Rally 『かな・かぶら∞ぐるぶらの旅』 コマ図-3



Start



1図『道の駅 しもにた』  
大型駐車場出口 グレーチング  
速やかにスタートしてください

OD



3図 左手の電柱  
ここまで 8.883 km  
バス停ですので、速やかに再スタートのこと

1CP



6図『黒瀧山不動寺』  
駐車場案内板の手前足  
再スタートはUターンして同じ場所から

2CP



8図『道の駅 オアシス』標識

3CP



9図先『塩之沢峠』  
左手の裏向き標識  
トンネルを出てすぐです

4CP



12図『不二洞』  
左手の「第2・第3駐車場」案内  
標識  
再スタートはUターンして同じ場所から

5CP



15図『恐竜センター』前  
路側帯にある電柱  
チェック後、恐竜センター内の駐車場に移動のこと

6CP



16図先『大福峠』  
左手の林道「桜井沢線」標識

速やかに再スタートのこと

7CP




16図先 右手の裏向き標識  
(林道「桜井沢線」標識)

8CP



19図 『道の駅 万葉の里』標識

9CP



21図先 『会場橋』出口

10CP



22図 『工芸体験村 土と火の里』 駐車場トイレの手前角

再スタートはUターンして同じ場所から

FCP



28図 『小幡・中小路』  
右手の電柱「南幹 右2 48」  
の表示あり

速やかに先にある駐車場に移動のこと

お疲れ様でした！

# 第55回 D-Wind Rally 『かな・かぶら∞ぐるぶらの旅』

問題-1

問題1 (距離言スタートからゴールまでの各CP間の距離を計測して下さい。)

- ◇エンジョイクラス: 10mの位は四捨五入して、100m単位で答えて下さい。  
(0. 1kmの誤差で減点1点)
- ◇ダンガンクラス : 1mの位は四捨五入して、10m単位で答えて下さい。  
(0. 01kmの誤差で減点1)

問題2 ※今回も減点は1点です。

<p>問題A=スタート 減点=1点</p>	<p>問題B=スタート 減点=1点</p>	<p>問題C=スタート 減点=1点</p>	
<p>顔出し(顔ハメ)看板に描かれたキャラクターの右側の絵には、ある文字が抜けている様だが、何という文字か？</p>	<p>この『道の駅 しもにた』の説明板がある部分の整備主体は誰か？</p>	<p>この駐車場に停められない車は何か？</p>	
			
<p>問題D=4図 減点=1点</p>	<p>問題E=1CP 減点=1点</p>	<p>問題F=1CP 減点=1点</p>	
<p>「南牧村ハイキングコース」案内板には、黒滝山不動寺まで、「小沢橋から1時間40分」と書かれているが、時速何kmで歩いた時の所要時間か？ 四捨五入して小数点以下1桁まで答えよ。 現地に答えはありません。何れ答えが判りません。</p>	<p>黒滝山の大スギの目通りの長さは、14図の道の駅上野にある「とちのき」の周囲より、どれだけ大きいか小さいか？</p>	<p>「黒滝の大蒟蒻」は元々何処にあったか？</p>	
			
<p>問題G=1CP 減点=1点</p>	<p>問題H=2CP 減点=1点</p>		
<p>石尊不動明王の所に落ちている滝の落差は何mか？ 恐らく現地に答えはありません。何れ答えが判ります。 <b>不動寺の方には絶対聞かない様に！</b></p>	<p>「南牧村観光ガイド」の「山歩き」で紹介されている山の説明文に出てくる山は、どの山か？ 該当する山の( )に「山歩き」で紹介されている山の名前を書いてください。 無関係の山は、( )に「×」を書いてください。</p>		
	<p>(a)</p> 	<p>(b)</p> 	<p>(c)</p> 

# 第55回 D-Wind Rally 『かな・かぶら∞ぐるぶらの旅』

問題-2

問題I=4CP

減点=1点

上野スカイブリッジにあるこれは、DWR55開催期間中に何回作動するか？

※問題Iを解くためには、スカイブリッジを渡る費用(100円)が必要です。ご了承ください。



問題J=14図

減点=1点

道の駅上野の観光案内所のここ(矢印部分)にあるものの愛称は何か？



問題K=14図

減点=1点

道の駅上野にある「みどころまるごとマップ」で、上野村役場の側に描かれている「家の形に9」は何を表しているか？



問題L=5CP

減点=1点

恐竜センターにあるこの螺旋階段の階段数は何段か？ 最初の微妙な段は含まない。



問題M=16図先

減点=1点

林道桜井沢線の全長は何mか？ ±200mまでOK。この看板をヒントに考えてください。



問題N=8CP

減点=1点

「道の駅 万葉の里」のここ(矢印部分)にある装置に近づいてはいけない人は誰か？



問題O=10CP

減点=1点

「土と火の里」本館(工芸体験受付所)の入口にある埴輪は、何処で作られたものか？ 地名で答えよ。



問題P=10CP

減点=1点

近くにある「ふれあい橋」が出来たのは、9CPの会場橋が出来てから何か月後か？ 次の月を1か月後として考えてください。




問題Q=23図先

減点=1点

「弘法井戸」の小屋の前に掛けられた注意書きによると、「弘法井戸」に投げ入れたはいけないものは何か？



<p>問題R=FCP 減点=1点</p>	<p>減点=1点</p>				
<p>「江戸時代の甘楽町小幡の風景」の「陣屋見取図」の中にあるこれ(矢印部分)は何家か？</p>					
					






問題3 X問題

コース上のどこかに出てきます。

◇エンジョイクラスは、問題X-1~X-5は、解答不要です。

◇ダンガンクラスは、全て解答して下さい。

※問題Xは、X-5を除いて、X-1~4は順番に出てきます。

<p>問題X-1 減点=1点</p>	<p>減点=1点</p>	<p>問題X-2 減点=1点</p>	<p>減点=1点</p>	<p>問題X-3 減点=1点</p>	<p>減点=1点</p>
<p>これは何をするものと考えられるか？</p>		<p>これはどこにあるか？</p>		<p>この古びた林道標識は、何CPの近くにあるか？</p>	
					
<p>問題X-4 減点=1点</p>	<p>減点=1点</p>	<p>問題X-5 減点=1点</p>	<p>減点=1点</p>		
<p>これはどこにあるか？</p>		<p>これは、何処にあるか？「〇〇の近く」の様に作成者に判るように答えてください。</p>			
					



# 第55回 D-Wind Rally 『かな・かぶら∞ぐるぶらの旅』

## 解答用紙（クラス：・ダンガン ・エンジョイ）

チーム名		使用車種			
ドライバー		ナビゲータ			
走行日時	( )	:	~	:	天候
成績結果 送付先	住所:〒				
	氏名:		TEL : ( ) -		

### 問題1 解答欄（・ダンガンクラス：0.01km単位で記入 ・エンジョイクラス：0.1km単位で記入）

	解 答	減 点		解 答	減 点
スタート～1CP	km		6CP～7CP	km	
1CP～2CP	km		7CP～8CP	km	
2CP～3CP	km		8CP～9CP	km	
3CP～4CP	km		9CP～10CP	km	
4CP～5CP	km		10CP～FCP		
5CP～6CP	km		<b>問題1 減点計</b>		

### 問題2 解答欄

	解 答	減 点		解 答	減 点
問題A			問題N		
問題B			問題O		
問題C			問題P		
			問題Q		
問題D			問題R		
問題E					
問題F					
問題G			問題X-1		
問題H	(a) ( )			問題X-2	
	(b) ( )				
	(c) ( )				
問題I			問題X-3		
問題J			問題X-4		
問題K			問題X-5		
問題L					
問題M			<b>問題2 減点計</b>		

### 集計

申込みNo.	解答用紙受付日	問題1 減点	問題2 減点	減点合計	順 位