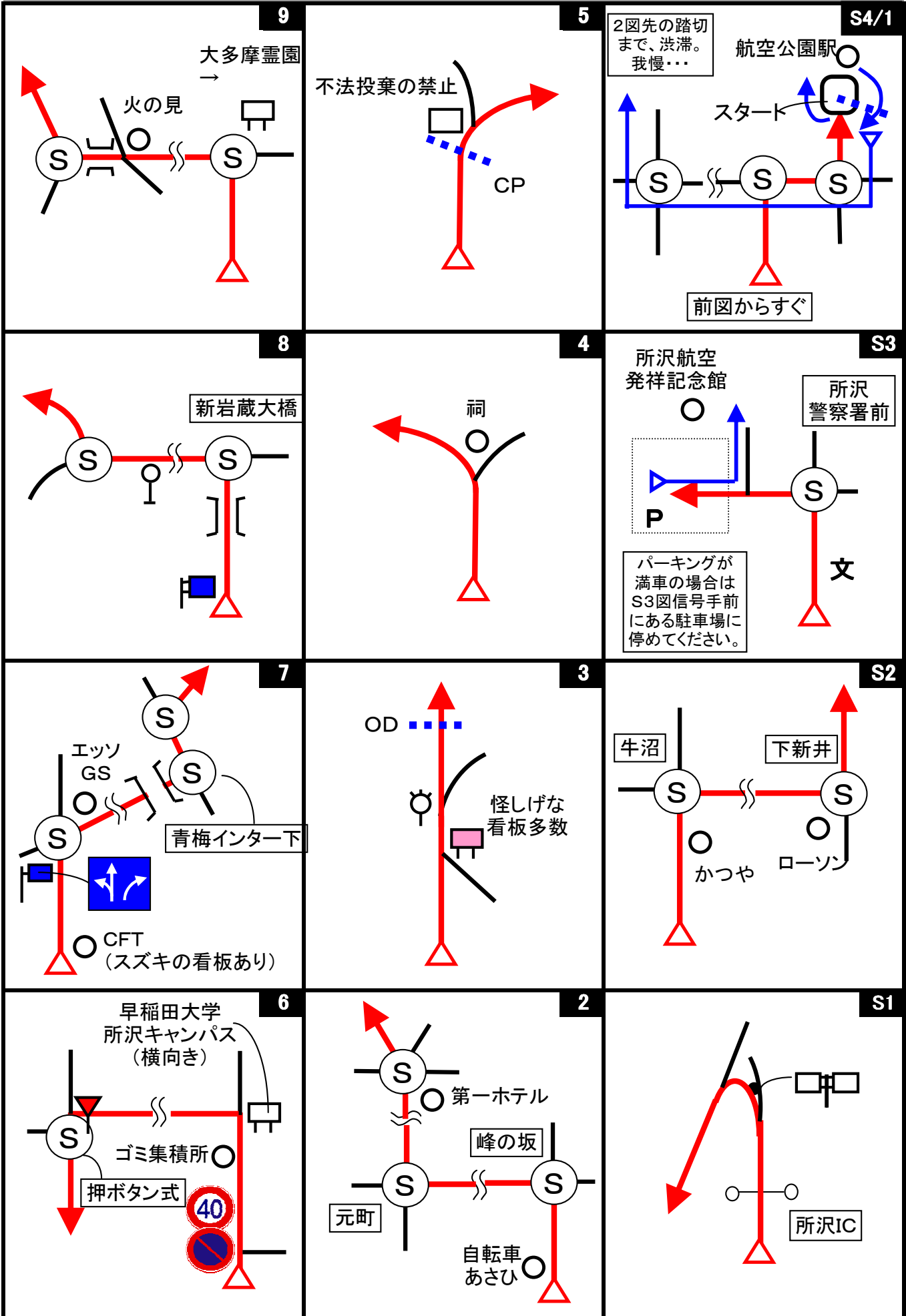
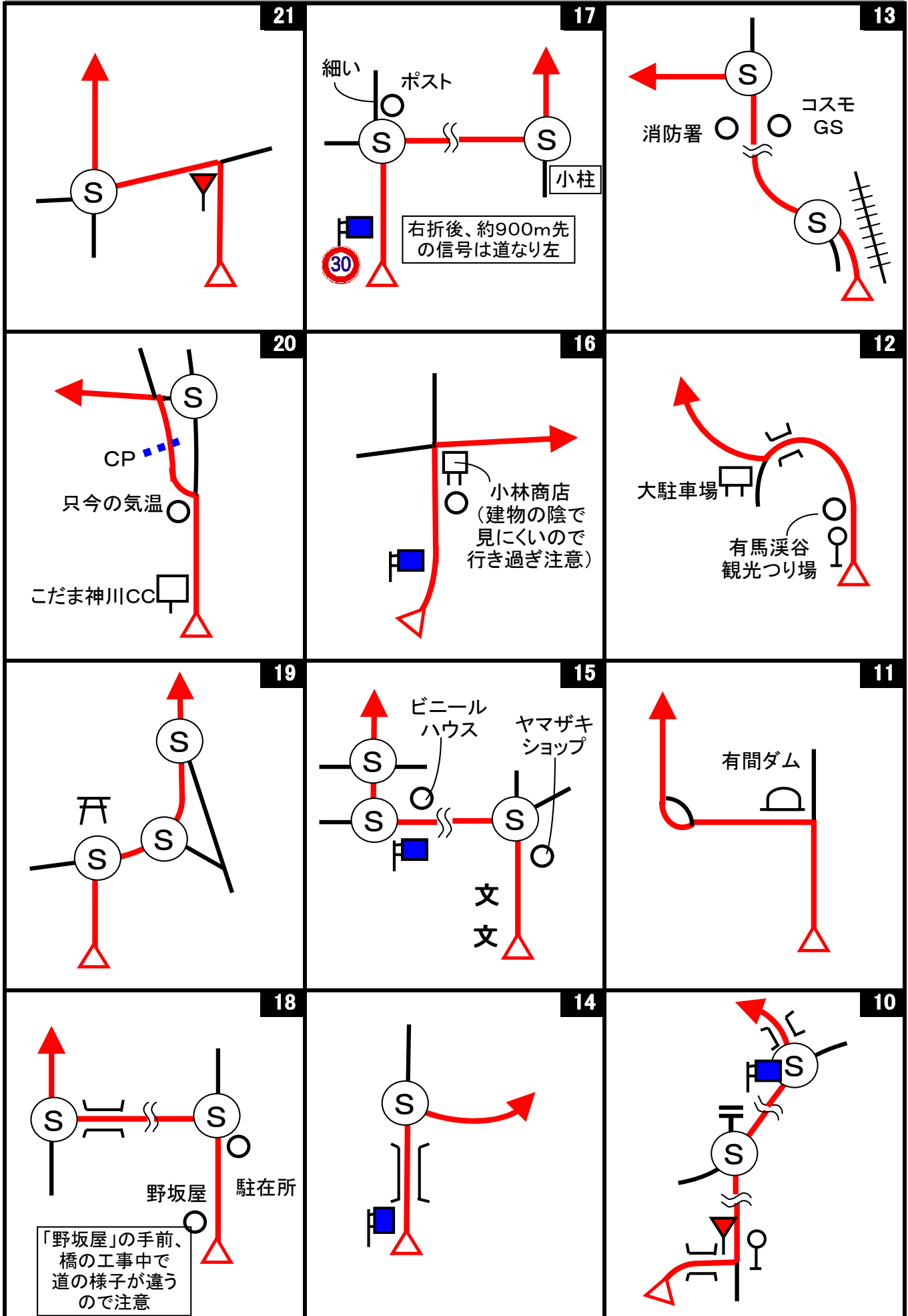
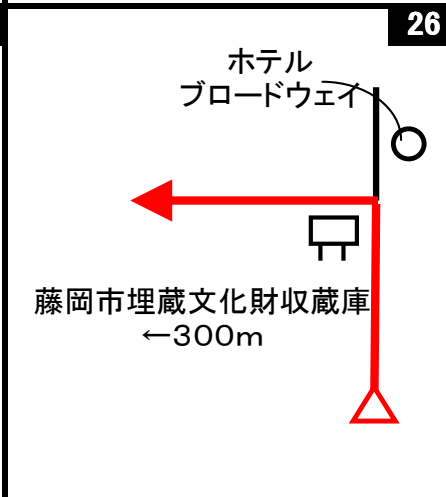
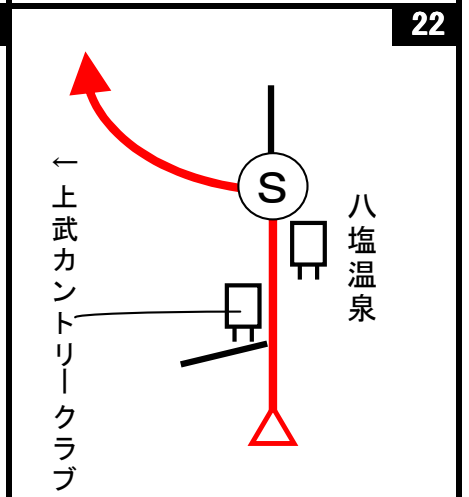
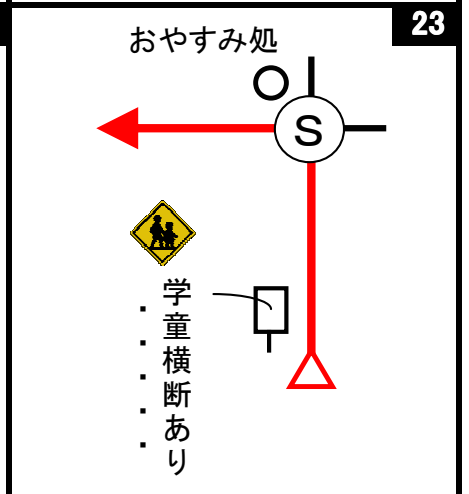
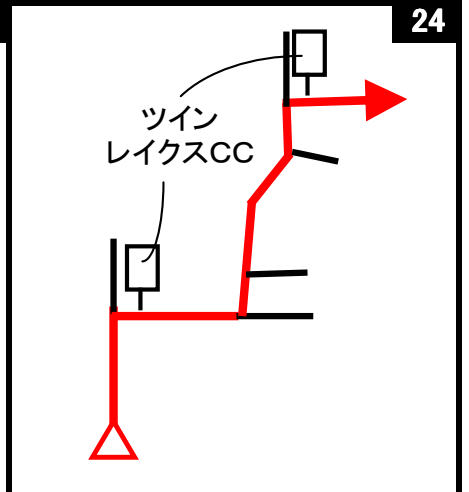
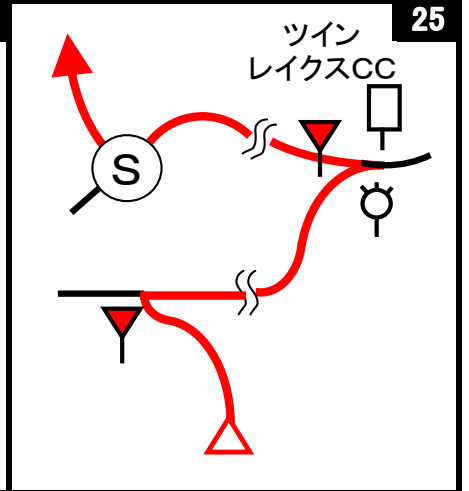


第54回 D-Wind Rally 『風立ちぬ...「零」の軌跡(ドライブ)』 コマ図-1



第54回 D-Wind Rally 『風立ちぬ...「零」の軌跡(ドライブ)』 コマ図-2





Start



1図 『航空公園駅』
ロータリー出口の標識 向かって右の脚
速やかにスタートしてください

OD



3図 左手の白いフェンスの一番先端
ここまで 7.458 km

1CP



5図 左手のこげ茶色の電柱

2CP



10図内 左手の「幅員減少」標識

3CP



11図先 左手の「幅員減少」標識

4CP



12図先 左手の案内標識

5CP



12図先 左手の『彩の国キャンプ場』看板横の電柱

6CP



15図先 左手の電柱
少し先に「9.5%上り急こう配あり」標識あり

速やかに再スタートのこと。

7CP



20図 右手の古びた裏向き標識（自動販売機の手前にあります）

8CP



24図先 左手の「最高速度40 km/h」標識
右前方に石碑、右手前に駐車スペースがあります。

FCP



26図先 『藤岡歴史館』前 左手の電柱
歴史館の入口は少し先左手

お疲れ様でした！

第54回 D-Wind Rally 『風立ちぬ・・・「零」の軌跡(ドライブ)』





問題-1


問題1 (距離言スタートからゴールまでの各CP間の距離を計測して下さい。)

◇エンジョイクラス: 四捨五入して、100m単位で答えて下さい。(0. 1kmの誤差で減点1点)

◇ダンガンクラス : 四捨五入して、10m単位で答えて下さい。(0. 01kmの誤差で減点1)

問題2 ※今回も、減点を1点にしました

<p>問題A=スタート 減点=1点</p> <p>「所沢航空記念公園案内図」には、水飲み場のマークはいくつあるか？</p> 	<p>問題B=スタート 減点=1点</p> <p>「所沢航空記念公園案内図」の右下のいるものの愛称は？ コース上のどこかに答えが出てきますが、ネットで調べた方が確実かも？</p> 	<p>問題C=スタート 減点=1点</p> <p>C-46中型輸送機の説明板によると、C-46中型輸送機の総製造機数の内、何%を航空自衛隊が保有していたか？ 四捨五入して小数点以下一桁まで答えよ。</p> 
<p>問題D=11図 減点=1点</p> <p>有間ダムの堤頂にある注意書きで、何をしてはいけないか？</p> 	<p>問題E=3CP 減点=1点</p> <p>3CP近くの看板には明らかに誤記があるがそれは何か？ (誤) ⇒ (正) の様に答えよ。</p> 	<p>問題F=3CP 減点=1点</p> <p>その看板によると入漁料の「現場売」は「店売」より何%高いか？</p> 
<p>問題G=4CP 減点=1点</p> <p>「森林管理道・広河原逆川線」の説明板には、「山」の字と「川」の字は合わせていくつあるか？ 「偏」は除く。</p> 	<p>問題H=5CP 減点=1点</p> <p>5CP近くには木で作られた動物がいるが、岩の上にいる動物は何か？ 作成者と同じ答えを正解とする。</p> 	<p>問題I=7CP 減点=1点</p> <p>この朽ちた自動販売機は、現役の頃お金を入れてから何秒後に商品を客に提供していたか？</p> 
<p>問題J=8CP 減点=1点</p> <p>「鮎川用水池完成記念碑」の題字を書いた群馬県知事は、「道路知事」と言われた人であるが、知事の名前が付いた峠は何峠か？</p> 	<p>問題K=8CP 減点=1点</p> <p>「鮎川湖案内図」で「危険なので禁止」されている事は何か？</p> 	<p>問題L=FCP 減点=1点</p> <p>藤岡歴史館に展示されている「関孝和の業績」のパネルに書かれた関孝和の業績で10番に書かれている事は何か？</p> 

問題BQ=スタート&FCP	全問正解でボーナス点=2点 不正解がある場合は減点2点
<p>(1)(スタート)特別企画展『堀越二郎の生涯』のパネルによると、堀越二郎が三菱内燃機製作所に入社後、初仕事として設計補助をした飛行機は、所沢飛行場でどうなったか？</p> <p>(2)(スタート)特別企画展『堀越二郎の生涯』で展示されている辞令によると、堀越二郎が「参事」になったのは終戦の何日前か？ 前日を1日前と考えてください。</p> <p>(3)(スタート)特別展『零戦来日』で展示されているこれは何か？</p>	
	
<p>(4)(スタート)特別展『零戦来日』で展示されている零戦は、何処で製造された機体か？</p> <p>(5)(FCP)企画展『堀越二郎の軌跡』の展示パネルによると、堀越二郎の趣味はゴルフだったらしいが、ハンディキャップはいくつだったか？</p> <p>(6)(FCP)企画展『堀越二郎の軌跡』の展示パネルによると、「烈風」の設計図が発見された時、その機密保持のためある事がされていたが、それは何か？</p> <p>(7)(FCP)企画展『堀越二郎の軌跡』の展示パネルによると、「自分が納得するまで譲らない」堀越を設計チーム内では何と呼ばれていたか？</p>	
<p>※スタートの特別企画展『堀越二郎の生涯』は9月1日(日)、特別展『零戦来日』は8月31日(土)、FCPの企画展『堀越二郎の軌跡』は9月8日(日)までの開催です。 開催期間後は問題が解けません。また、所沢航空発祥記念館には入館料が必要です。 予めご了承ください</p>	

問題3 X問題

コース上のどこかに出てきます。

◇エンジョイクラスは、問題X-1~X-3は、解答不要です。

◇ダンガンクラスは、全て解答して下さい。

※問題Xは、順番に出て来るとは限りません。

問題X-1	減点=1点	問題X-2	減点=1点	問題X-3	減点=1点
このふくろうはどこにいるか？ 「〇〇の近く」の様に作成者に判る ように教えてください。		この木像の背後にある看板に描か れている動物は何か？		この庚申塚は、全コースの長さを 「10」とした場合、スタートからいく つの所にあるか？ 四捨五入して 整数で答えよ。	
					

第54回 D-Wind Rally 『風立ちぬ・・・「零」の軌跡(ドライブ)』

解答用紙 (クラス：・ダンガン ・エンジョイ)

チーム名		使用車種			
ドライバー			ナビゲータ		
走行日時	()	:	~	:	天候
成績結果 送付先	住所:〒				
	氏名:		TEL : () -		

問題1 解答欄 (・ダンガンクラス: 0. 01 km単位で記入 ・エンジョイクラス: 0. 1 km単位で記入)

	解 答	減 点		解 答	減 点
スタート~1CP	km		5CP~6CP	km	
1CP~2CP	km		6CP~7CP	km	
2CP~3CP	km		7CP~8CP	km	
3CP~4CP	km		8CP~FCP	km	
4CP~5CP	km		問題1 減点計		

問題2 解答欄

	解 答	減 点		解 答	減 点
問題A			問題BQ	(1)	
問題B				(2)	
問題C				(3)	
問題D				(4)	
問題E				(5)	
問題F				(6)	
問題G				(7)	
問題H			問題X-1		
問題I			問題X-2		
問題J			問題X-3		
問題K					
問題L			問題2 減点計		

集計

申込みNo.	解答用紙受付日	問題1減点	問題2減点	減点合計	順位