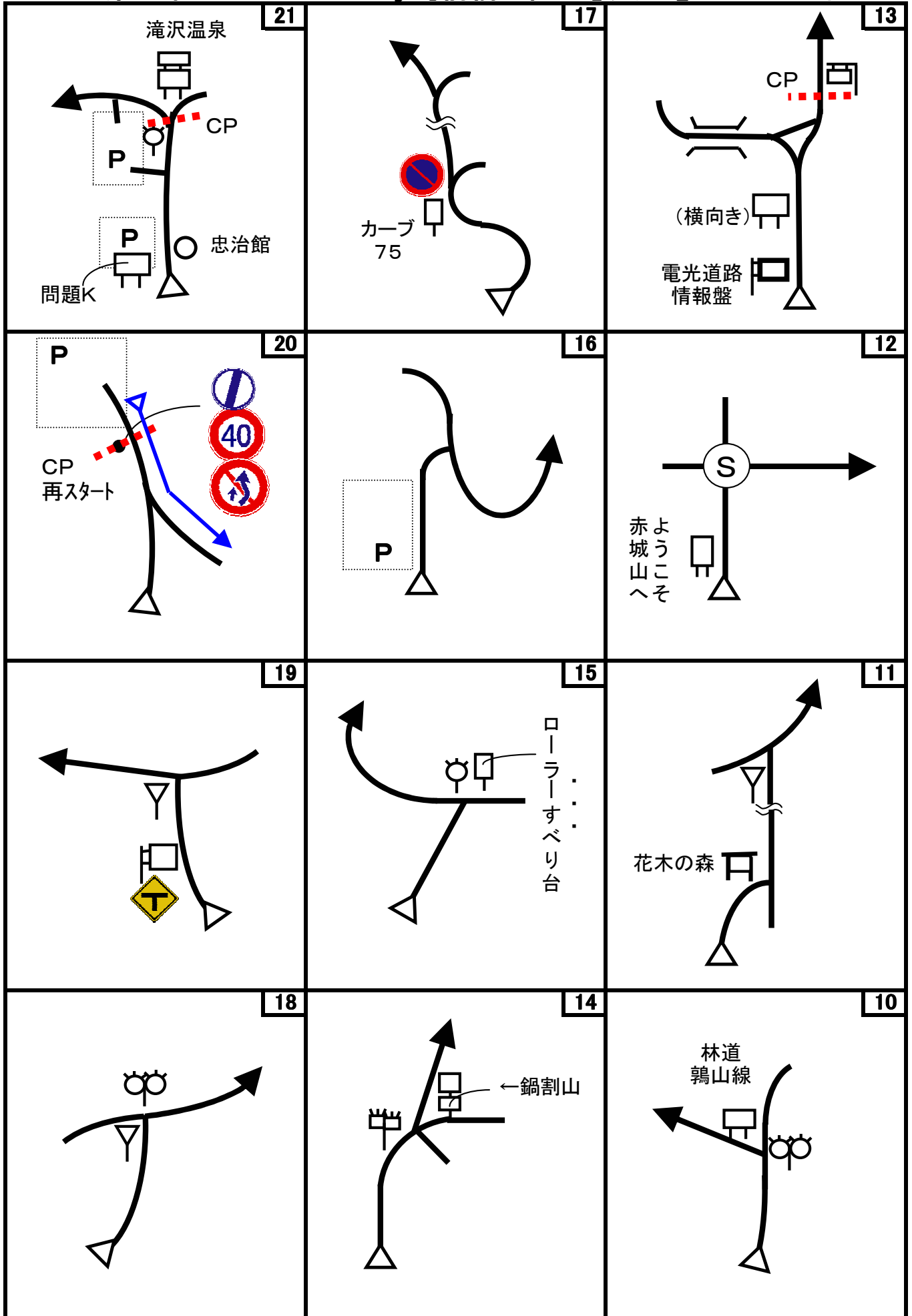
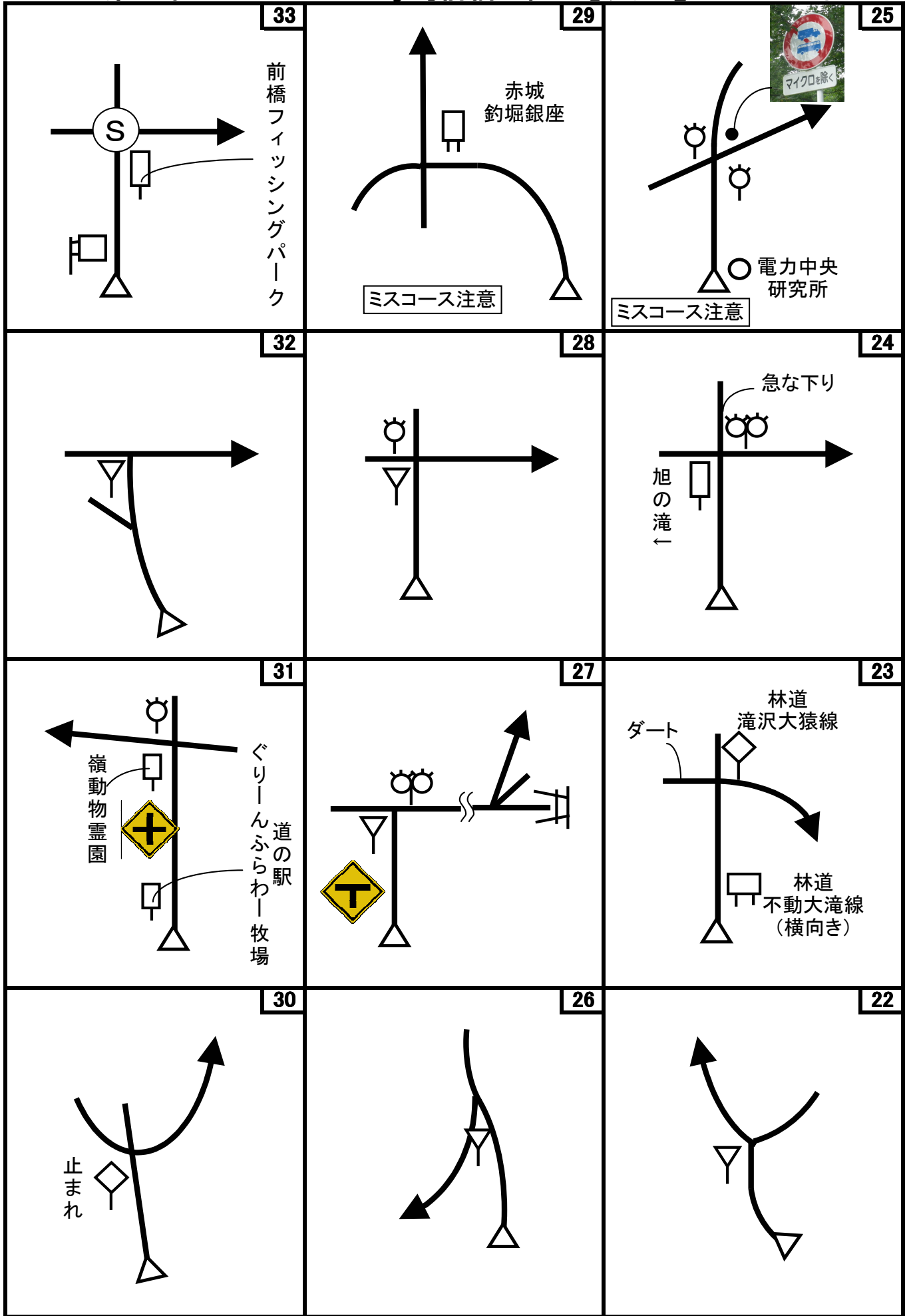


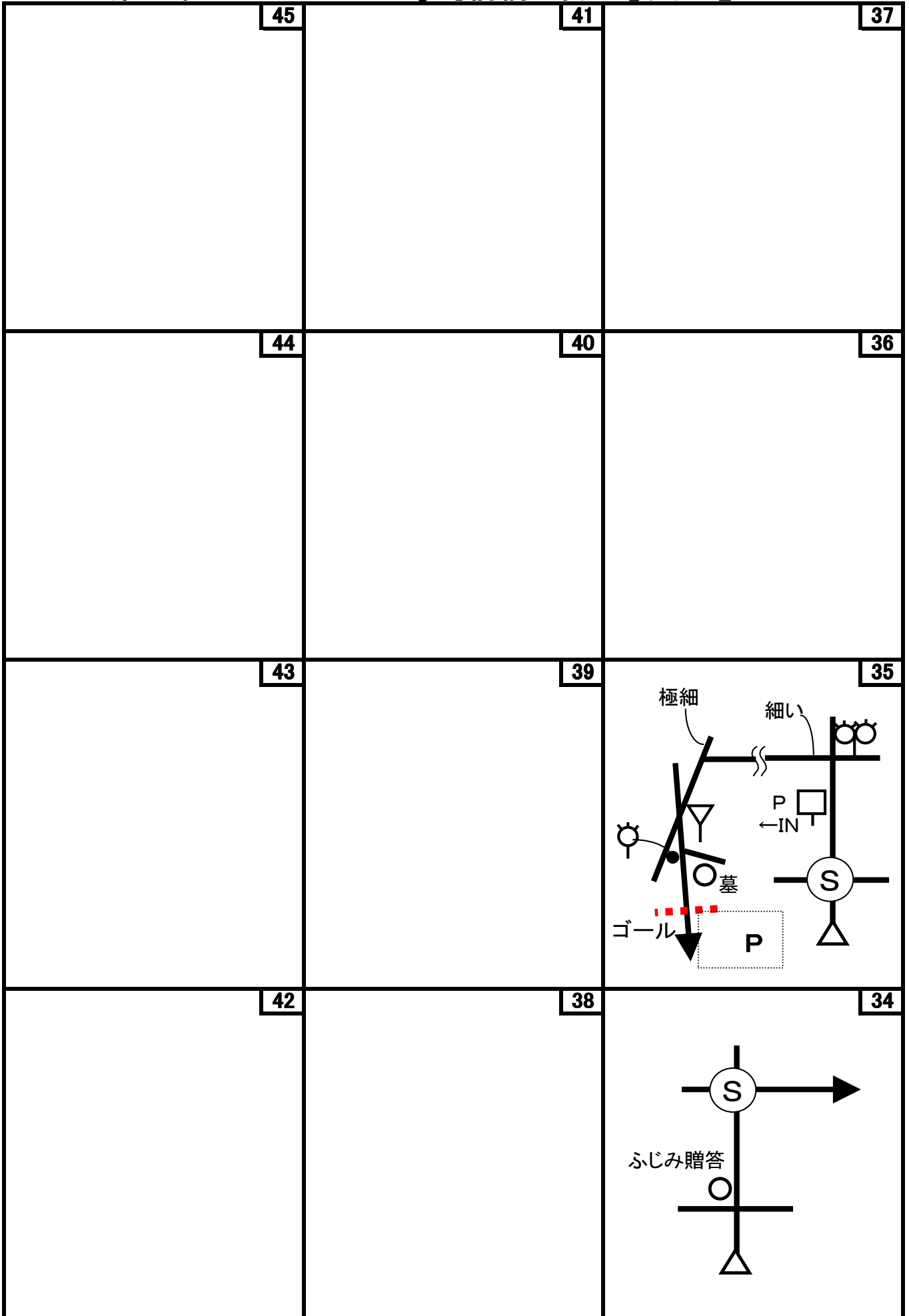
第53回 D-Wind Rally 『前橋山岳「D」ラリー』

コマ図-2





第53回 D-Wind Rally 『前橋山岳「D」ラリー』 コマ図-4



Start



1図 『道の駅 赤城の恵』
トイレの先端角

速やかにスタートしてください

OD



3図先 左手の『金松園』の看板

ここまで 6.300 km

1CP



6図 『Camp Wonder』入口
左手の電柱

再スタートは、Uターンして同じ
場所から

2CP



9図 『県立赤城森林公園』
左手の「荒山登山口」の標柱

再スタートはUターンして「県立
赤城森林公園 P→」の看板

3CP



13図 右手の裏向き案内標識


4CP



15図先 左手の「30km/h速度
制限」「はみ出し禁止」「はじま
り」標識

手前に「赤城ふれあいの森」の
入口あり

5CP



20図 『赤城山頂駅(跡)』入口
「40km/h速度制限」「はみ出し
禁止」「おわり」標識

再スタートはUターンして同じ場
所から

6CP



21図 『赤城温泉郷』入口
左手の「不動大滝方面」の小さ
な案内板

クイズを解く時は、左手にある
駐車スペースに移動のこと

7CP



22図先 『おおさる山乃家』入
口

左手のフェンス端にある「駐車
場」案内看板

8CP	9CP	FCP
		
<p>27図先 『三夜沢赤城神社』駐 車場横 左手の「待避所」標識 速やかに駐車場に移動のこと</p>	<p>29図先 左手「保安林」標識の 右手にある木 幹には「C256」の表示あり 手前に「山火事用心」があり、待 避所の様に少し広がっています。</p>	<p>35図 『道の駅 ふじみ』裏手 の駐車場入口 左手の電柱 速やかに駐車スペースに移動 のこと</p>
<p>お疲れ様でした！</p>		

第53回 D-Wind Rally 『前橋山岳「D」ラリー』

問題-1

問題1 (距離言スタートからゴールまでの各CP間の距離を計測して下さい。)

- ◇エンジョイクラス: 10mの位は四捨五入して、100m単位で答えて下さい。
(0. 1kmの誤差で減点1点)
- ◇ダンガンクラス : 1mの位は四捨五入して、10m単位で答えて下さい。
(0. 01kmの誤差で減点1)

問題2 ※今回は、減点を1点にしました

<p>問題A=全コース 減点=1点</p> <p>スタート～ゴールの間にコンビニはいくつあるか？(ヤマサキショップは除く)</p>	<p>問題B=スタート 減点=1点</p> <p>道の駅「赤城の恵」情報コーナーの入口で測定しているのは何？</p> 	<p>問題C=スタート 減点=1点</p> <p>「ようこそ前橋へ！・・・」の看板によると、道の駅「赤城の恵」がお休みの日でも利用できる施設、設備は何か？</p> 
<p>問題D=8図先 減点=1点</p> <p>「小坂子白鳥水利組合 水源地」の水の水温は何度か？ 試走時の気温は22℃。±3℃までOK。水の出口に引っ掛けてあるペットボトルの先端部分を使い、ペットボトルの口で計測しました。</p> 	<p>問題E=2CP 減点=1点</p> <p>「赤城山周辺案内図」の凡例にあるもので、一番数が多い物は何で、いくつあるか？ 道は「〇〇線」の様に特定できるものを「1つ」として数えてください。</p> 	<p>問題F=4CP 減点=1点</p> <p>この案内図の凡例にあるものの数で、2CPの「赤城山周辺案内図」のそれと同じ数のものは何か？</p> 
<p>問題G=4CP 減点=1点</p> <p>「赤城森林公園ふれあいの森マップ」には、「木」の字(偏も含む)はいくつあるか？「木」は1つ、「林」は2つの様に数えてください。</p> 	<p>問題H=5CP 減点=1点</p> <p>赤城山頂駅記念館サントリーピアーベキューホールに展示されている「赤城山鋼索鉄道」の説明によると、赤城山鋼索鉄道は最初は何が積める様な計画だったか？</p> 	<p>問題I=5CP 減点=1点</p> <p>赤城山頂駅記念館サントリーピアーベキューホールの2F展望フロアに展示されている漫画の原画で、この人の所属、役職及び名前を答えよ。</p> 

第53回 D-Wind Rally 『前橋山岳「D」ラリー』

問題-2

<p>問題J=5CP 減点=1点</p>	<p>減点=1点</p>	<p>問題K=6CP 減点=1点</p>	<p>減点=1点</p>	<p>問題L=7CP 減点=1点</p>	<p>減点=1点</p>
<p>この石碑(神々聲の碑)建立の発起人で一番最初に名前がある人は、何という会社の代表か？</p>		<p>6CP近くにある「まえばし赤城山観光案内」の看板と、8CPの赤城神社鳥居側にある同じ看板において、表記では現在位置が違うが、あと一つ明らかに違う所がある。それは何か？</p>		<p>「大猿生活環境保全林案内図」によると、保全林内に休憩所はいくつあるか？</p>	
					
<p>問題M=23図先 減点=1点</p>	<p>減点=1点</p>	<p>問題N=8CP 減点=1点</p>	<p>減点=1点</p>	<p>問題O=8CP 減点=1点</p>	<p>減点=1点</p>
<p>「宇通遺跡」の説明板によると、宇通遺跡発見のきっかけになった出来事は何か？ 23図から約1300m右手にあります。</p>		<p>三夜沢赤城神社拝殿横にある「玉垣建設寄付者御芳名」によると、2万円を寄付した人は誰か？</p>		<p>三夜沢赤城神社にある、矢印の建物は、何か？</p>	
					
<p>問題P=8CP 減点=1点</p>	<p>減点=1点</p>	<p>問題Q=FCP 減点=1点</p>	<p>減点=1点</p>	<p>問題R=FCP 減点=1点</p>	<p>減点=1点</p>
<p>三夜沢赤城神社駐車場脇にあるトイレは、参拝者が多い時の対応のため、ある対策を取っているが、それは何か？</p>		<p>富士見ふれあい公園展望台に上がる階段は、何段あるか？ 地面から僅かに高くなっている段も、途中の床面も階段と見做しそれぞれ1段と数える事</p>		<p>この風力発電システムの説明板によると、羽根の周りのカバーの効果は何か？</p>	
					

第53回 D-Wind Rally 『前橋山岳「D」ラリー』

問題-3

問題3 X問題

コース上のどこかに出てきます。

◇エンジョイクラスは、問題X-1~X-7は、解答不要です。

◇ダンガンクラスは、全て解答して下さい。

※問題Xは、X-7を除いて、X-1~6は順番に出てきます。

問題X-1	減点=1点	問題X-2	減点=1点	問題X-3	減点=1点
この馬は何処にいるか？「〇〇の近く」の様に作成者に判るように教えてください。		何故、この水は飲めないのか？		「おおさわはし」から前橋までの距離は何kmか？	
問題X-4	減点=1点	問題X-5	減点=1点	問題X-6	減点=1点
これは何？		これは何の一部か？		このポスト(郵便受け)は何処にあるか？「〇〇の近く」の様に作成者に判るように教えてください。	
問題X-7	減点=1点				
この林道(終点)看板に一番近いCPは？ コース上の距離ではなく、位置関係(直線距離)で考えてください。					

第53回 D-Wind Rally 『前橋山岳「D」ラリー』

解答用紙 (クラス：・ダンガン ・エンジョイ)

チーム名				使用車種			
ドライバー				ナビゲータ			
走行日時	()		:	~	:	天候	
成績結果 送付先	住所:〒						
	氏名:			TEL : ()		-	

問題1 解答欄 (・ダンガンクラス: 0.01km単位で記入 ・エンジョイクラス: 0.1km単位で記入)

	解 答	減 点		解 答	減 点
スタート~1CP	km		6CP~7CP	km	
1CP~2CP	km		7CP~8CP	km	
2CP~3CP	km		8CP~9CP	km	
3CP~4CP	km		9CP~FCP	km	
4CP~5CP	km				
5CP~6CP	km		問題1 減点計		

問題2 解答欄

	解 答	減 点		解 答	減 点
問題A			問題N		
問題B			問題O		
問題C			問題P		
			問題Q		
問題D			問題R		
問題E					
問題F					
問題G			問題X-1		
問題H			問題X-2		
問題I			問題X-3		
			問題X-4		
問題J			問題X-5		
問題K			問題X-6		
問題L			問題X-7		
問題M			問題2 減点計		

集計

申込みNo.	解答用紙受付日	問題1 減点	問題2 減点	減点合計	順 位