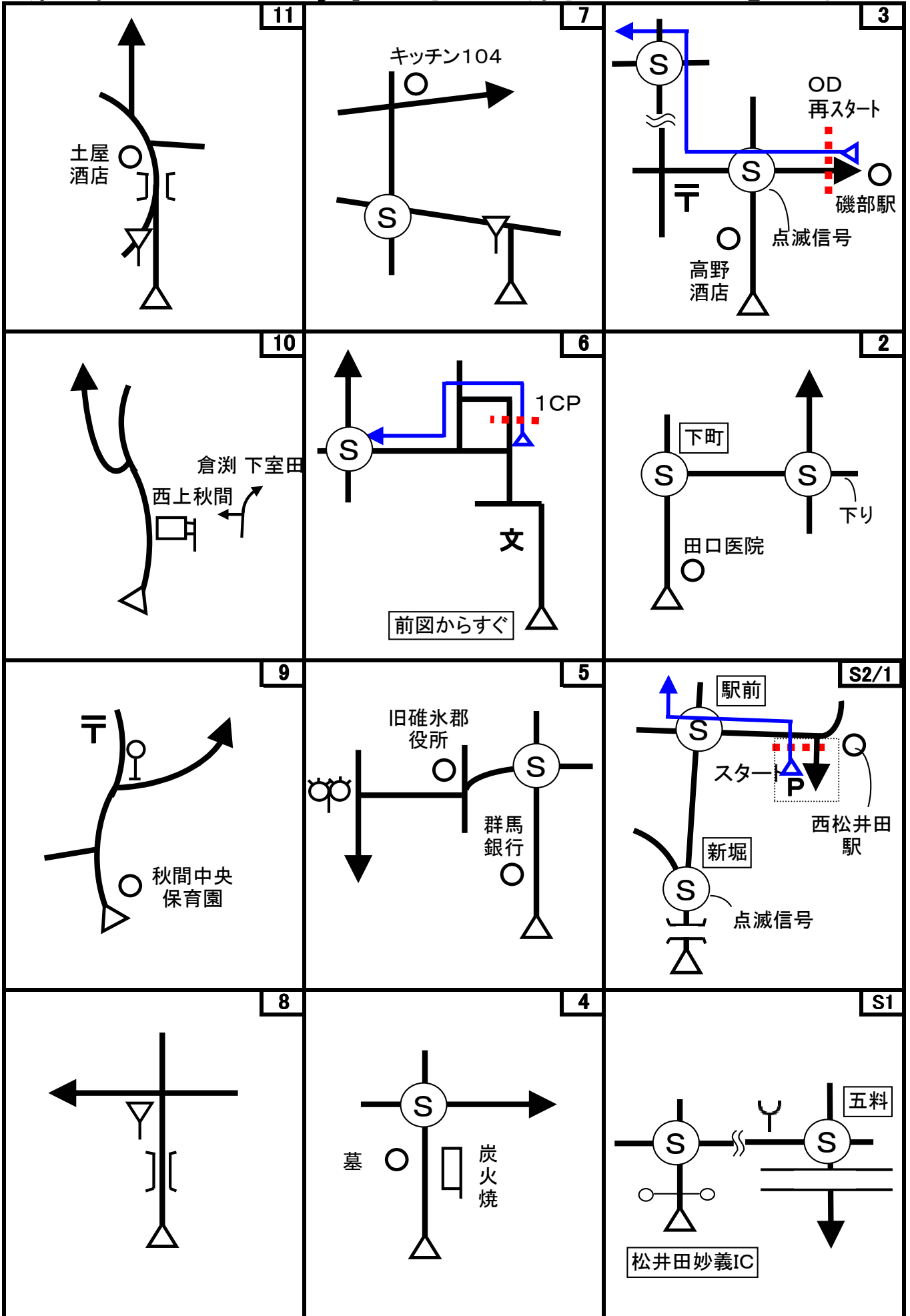
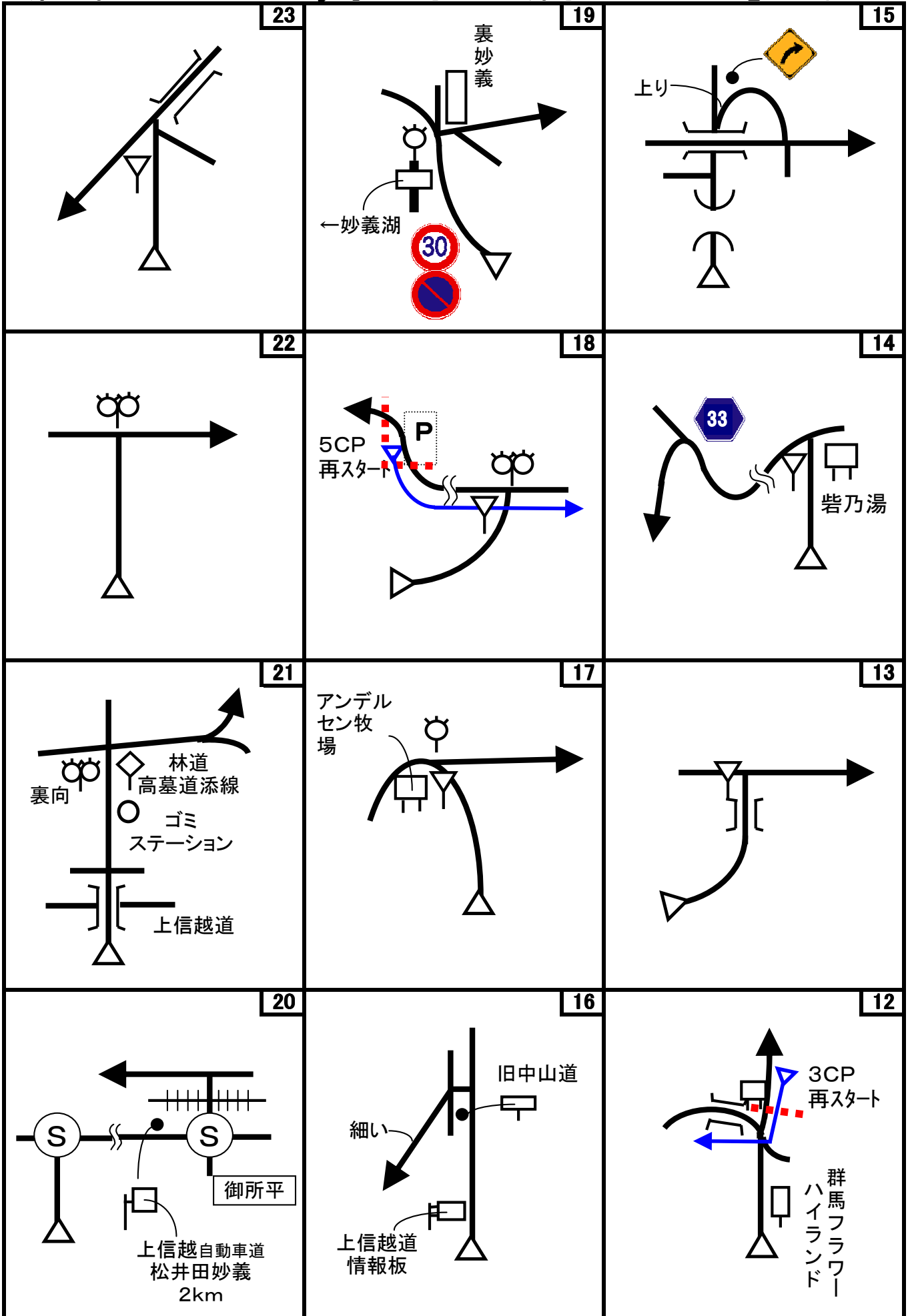


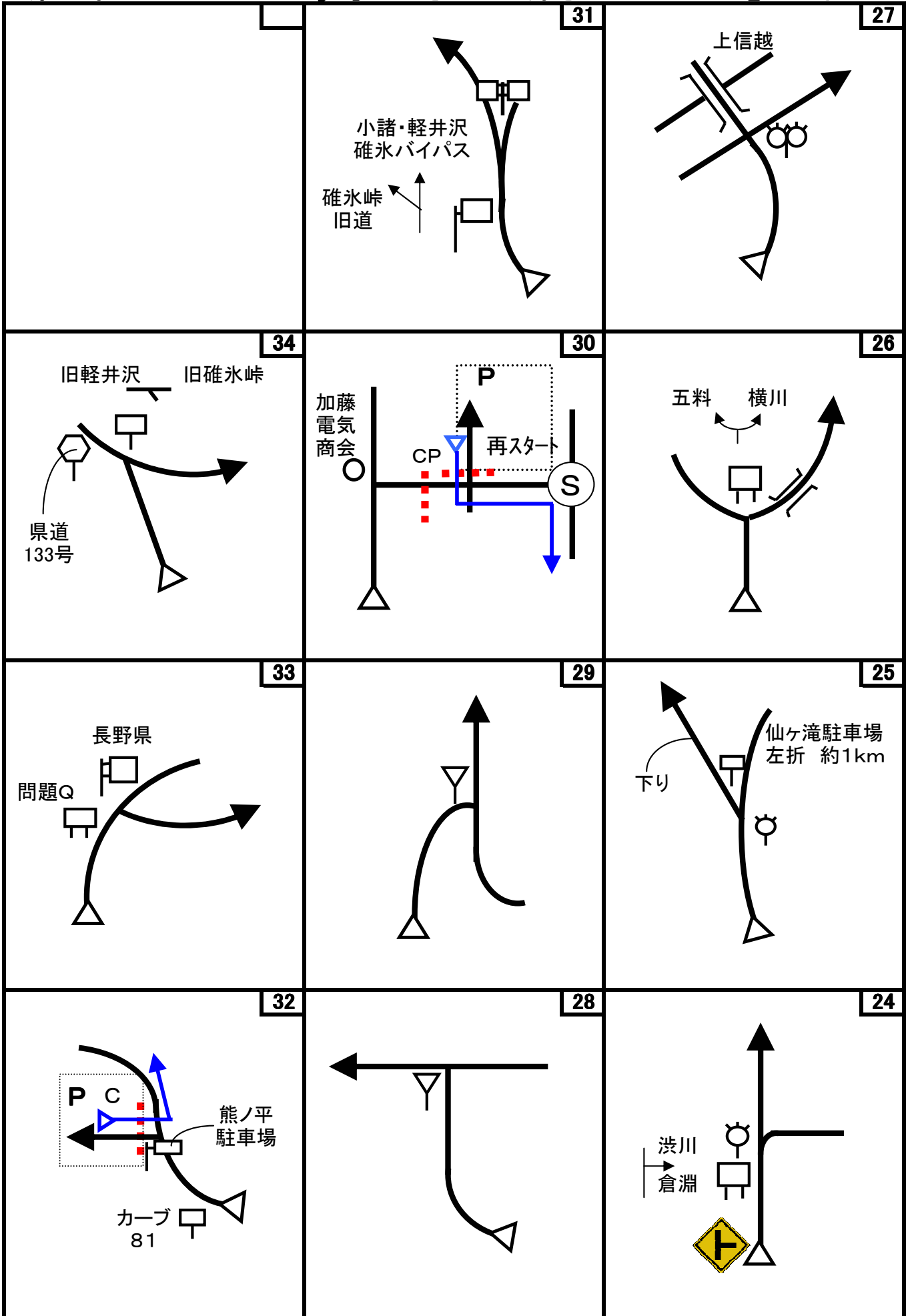
第52回 D-Wind Rally 『八重さんの旦那さんとちからもち』コマ図-1



第52回 D-Wind Rally 『八重さんの旦那さんとちからもち』コマ図-2



第52回 D-Wind Rally 『八重さんの旦那さんとちからもち』コマ図-3



Start



1図 『西松井田駅』 駐車場
左手の案内看板の向かって右
の脚

速やかにスタートしてください

OD



3図 『磯部駅』入口 アーチ状
の歓迎看板の左側の柱
ここまで 6.794 km

再スタートはUターンして、反対
側の柱から

1CP



6図 『安中市中央体育館』前
左手の「安政遠足の碑」看板

速やかに左右の駐車スペース
か、少し手前にあった臨時駐車
場に移動のこと

2CP



9図先 左手のフェンスの手前
端

3CP



12図 左手の看板の手前の脚
再スタートはUターンして反対
側にある「一旦停止」標識(路側
帯から)

4CP



14図先 左手の「丁字路あり」
標識

5CP-in



18図 『中本ダム』管理所手前
左手の電柱

速やかに手前にある駐車場に
移動のこと

5CP-out



18図 『中本ダム』駐車場
左手の擁壁の手前端




6CP



25図先 『仙ヶ滝』駐車場 看
板

速やかに左手の駐車スペース
に移動のこと
※仙ヶ滝へは、ONコースでそ
のまま進んでください

第52回 D-Wind Rally 『八重さんの旦那さんとちからもち』 checkpoint-2

<p>7CP-in</p> 	<p>7CP-out</p> 	<p>8CP</p> 
<p>30図 『碓氷峠鉄道文化むら』 駐車場入口手前 左手の外灯</p> <p>速やかに駐車場に移動のこと</p>	<p>30図先 『碓氷峠鉄道文化むら』 駐車場出口「横断歩道あり」 標識</p> <p>速やかにスタートのこと</p>	<p>32図 『熊ノ平』駐車場入口 グレーチング</p> <p>再スタートはUターンして同じグ レーチングから(出口左端より)</p>
<p>FCP</p> 		
<p>34図先 『熊野神社(熊野皇大神社)』 前「安政遠足 決勝点」看板</p> <p>速やかに手前の駐車スペース に移動のこと(手前に停めた時 は、熊野皇大神社にお参りする こと) 熊野神社の駐車スペースは少 し先にあります</p>	<p>お疲れ様でした！</p>	

問題1 (距離言スタートからゴールまでの各CP間の距離を計測して下さい。)

◇エンジョイクラス: 四捨五入して、100m単位で答えて下さい。(0.1kmの誤差で減点1点)

◇ダンガンクラス : 四捨五入して、10m単位で答えて下さい。(0.01kmの誤差で減点1)

問題2

<p>問題A=スタート 減点=3点</p> <p>「あんなかガイドマップ」にイラストで描かれた動物で、7CPの横川駅トイレ前にある「あんなかガイドマップ」に描かれていないものは何か? ○○をしている△△の様に答えよ。横川駅の「ガイドマップ」の中の「横川駅周辺図」は除く。</p> 	<p>問題B=OD 減点=3点</p> <p>磯部駅前にある「安中市観光案内図」に描かれた動物はいくつ?(動物の生死は問わない)</p> 	<p>問題C=OD 減点=3点</p> <p>ODにある「安中市観光案内図」、スタートにあった「あんなかガイドマップ」及び、7CPにある「あんなかガイドマップ」の設置された順番を答えよ。かなり難問ですが、案内図(ガイドマップ)に描かれている内容をよく見れば判ると思います。また、コース案内やクイズにもヒントがあるかも…。</p>
<p>問題D=OD 減点=3点</p> <p>「歓迎磯部温泉」のアーチ看板の昔の物には、一番下にもう一列文字が書かれていた様だが、何と書かれていたか? ※駅や周囲の家の方に絶対聞かないこと! 答えは現地にあります。</p> 	<p>問題E=1CP 減点=3点</p> <p>1CP近くにあるペットボトル回収機で、100円の500mlペットボトルばかりでポイントを溜めて買物券をもらった場合、その還元率は何%になるか? 四捨五入して小数点以下一桁まで答えよ。</p> 	<p>問題F=7図先 減点=3点</p> <p>正観寺・観音堂への階段は、布設当時より何段少なくなっているか?</p> 
<p>問題G=11図先 減点=3点</p> <p>この石碑で功績を称えられている人の職業が何か?</p> 	<p>問題H=3CP 減点=3点</p> <p>3CP近くの「みさわはし」が完成したのは、2CPの「ながいわこせんきょう」より何年早い?</p> 	<p>問題I=4CP 減点=3点</p> <p>4CP側の「ちびっこ広場」にある遊具で、同時に何人の子供が遊べるか? タイヤ遊具、滑り台、雲梯はそれぞれ1人とし、遊動円木は座って遊ぶものとする。</p> 
<p>問題J=5CP 減点=3点</p> <p>5CP近くにある「妙義自然休養林案内図」が建てられたのは、何年何月何日から何年何月何日の間か? 案内図から得られる情報から答えよ。</p> 	<p>問題K=6CP 減点=3点</p> <p>現在、仙ヶ滝の側まで近づく事が出来ないが、何故か?</p> 	<p>問題L=29図先 減点=3点</p> <p>碓氷関所の門が復元された時の群馬県知事は、現在の知事の何代前の知事か?</p> 

第52回 D-Wind Rally 『八重さんの旦那さんとちからもち』

問題-2

<p>問題M=7CP</p>	<p>減点=3点</p>	<p>問題N=7CP</p>	<p>減点=3点</p>	<p>問題O=8CP</p>	<p>減点=3点</p>
<p>碓氷峠鉄道文化むら入口の近くにある「TOUCH」は、何をタッチするのか？</p> 		<p>横川駅トイレ前にある「あんなかガイドマップ」にイラストで描かれた建造物で、スタートの「あんなかガイドマップ」に描かれていなかったものは何か？ 横川駅の「ガイドマップ」の中の「横川駅周辺図」は除く。</p> 		<p>8CPの地点からめがね橋まで、道路と鉄道（現在は遊歩道）とではどちらが何km短いか？ 現地の案内板の距離で答えよ。</p> 	
<p>問題P=8CP</p>	<p>減点=3点</p>	<p>問題Q=33図</p>	<p>減点=3点</p>	<p>問題R=FCP</p>	<p>減点=3点</p>
<p>熊ノ平駅跡にある『碓日嶺鐵道碑』は割れていてコンクリートで補強されているが、何が原因で割れたか？</p> 		<p>『信濃の国みちしるべ』に描かれている記号の内、二番目に多いのは何の記号でいくつあるか？</p> 		<p>次の項目で、熊野神社に関する事には「○」を、熊野皇大神社に関する事には「×」をつけよ。一問でも間違いの場合は減点です。 ①参拝の仕方が細かい ②熊野神社宮司宅 ③子供おみくじが安い ④お供物台 ⑤一廻りすると一年寿命が延びる木</p> 	
<p>問題S=FCP</p>	<p>減点=3点</p>	<p>問題BQ=1CP</p>	<p>ボーナス点=2点</p>		
<p>熊野皇大神社は、あるものつながりで、サッカー日本代表を応援していると思われる。それは何か？ どちらかの神社にある、ある説明板に答えのヒントがあります。作成者と同じ答えを正解とする。 ※神社の方には絶対聞かないこと！</p>  		<p>次のモノは、「新島裏ヒストリート」のどの施設にあるか？ 一部有料施設がありますが、施設の周囲の外から確認できます。但し、余り怪しげな行動はしないでください。 また、休館日や開館時間は下記のMAPで確認してください。 ①安中教会 ②旧安中藩郡奉行役宅 ③旧安中藩武家長屋 ④龍昌寺 ⑤新島裏旧宅 ※「新島裏ヒストリート」のMAPはこちら http://www.annaka-city.com/feature/histreet01.htm</p>     			

第52回 D-Wind Rally 『八重さんの旦那さんとちからもち』

問題-3

問題3 X問題

コース上のどこかに出てきます。

◇エンジョイクラスは、問題X-1~X-7は、解答不要です。

◇ダンガンクラスは、全て解答して下さい。

※問題Xは、X-7を除いて、X-1~6は順番に出てきます。

問題X-1	減点=3点	問題X-2	減点=3点	問題X-3	減点=3点
コース上に「福が来る」ことを願って店名を付けたと思われるラーメン屋がある。何図先にある何というラーメン屋か？		このメガソーラは何図先で見えるか？		これは何か？	
このカートは、何図先にあるか？		これは何か？ (矢印の部分)		これは何処にあるか？ 作成者に判るように説明してください。	
問題X-7	減点=3点				
次の石碑、庚申塔などを出てくる順番に並べよ。					
(A) 	(B) 	(C) 	(D) 	(E) 	

第52回 D-Wind Rally 『八重さんの旦那さんとちからもち』 解答用紙 (クラス：・ダンガン ・エンジョイ)

チーム名		使用車種			
ドライバー		ナビゲータ			
走行日時	()	:	~	:	天候
成績結果 送付先	住所:〒				
	氏名:		TEL : () -		

問題1 解答欄 (・ダンガンクラス: 0. 01 km単位で記入 ・エンジョイクラス: 0. 1 km単位で記入)

	解 答	減 点		解 答	減 点
スタート~1CP	km		5CP~6CP	km	
1CP~2CP	km		6CP~7CP	km	
2CP~3CP	km		7CP~8CP	km	
3CP~4CP	km		8CP~FCP	km	
4CP~5CP	km		問題1 減点計		

問題2 解答欄

	解 答	減 点		解 答	減 点
問題A			問題P		
問題B			問題Q		
問題C	「スタート」() 「OD」 () 「7CP」 ()		問題R	①() ②() ③() ④() ⑤()	
問題D			問題S		
問題E			問題BQ	(A)() (B)() (C)() (D)() (E)()	
問題F					
問題G					
問題H			問題X-1		
問題I			問題X-2		
問題J			問題X-3		
問題K			問題X-4		
問題L			問題X-5		
問題M			問題X-6		
問題N			問題X-7	- - - -	
問題O			問題2 減点計		

集計

申込みNo.	解答用紙受付日	問題1 減点	問題2 減点	減点合計	順 位