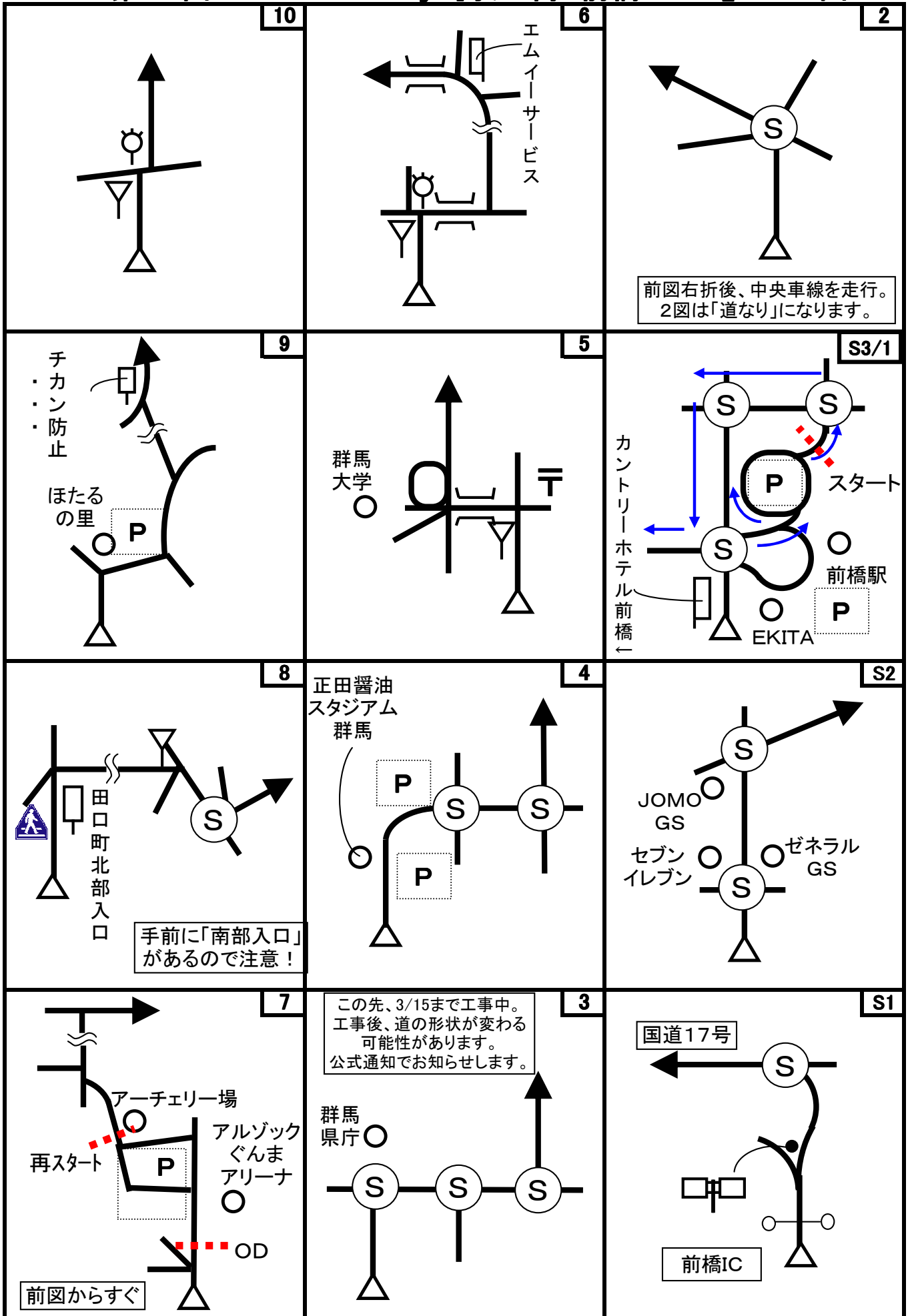
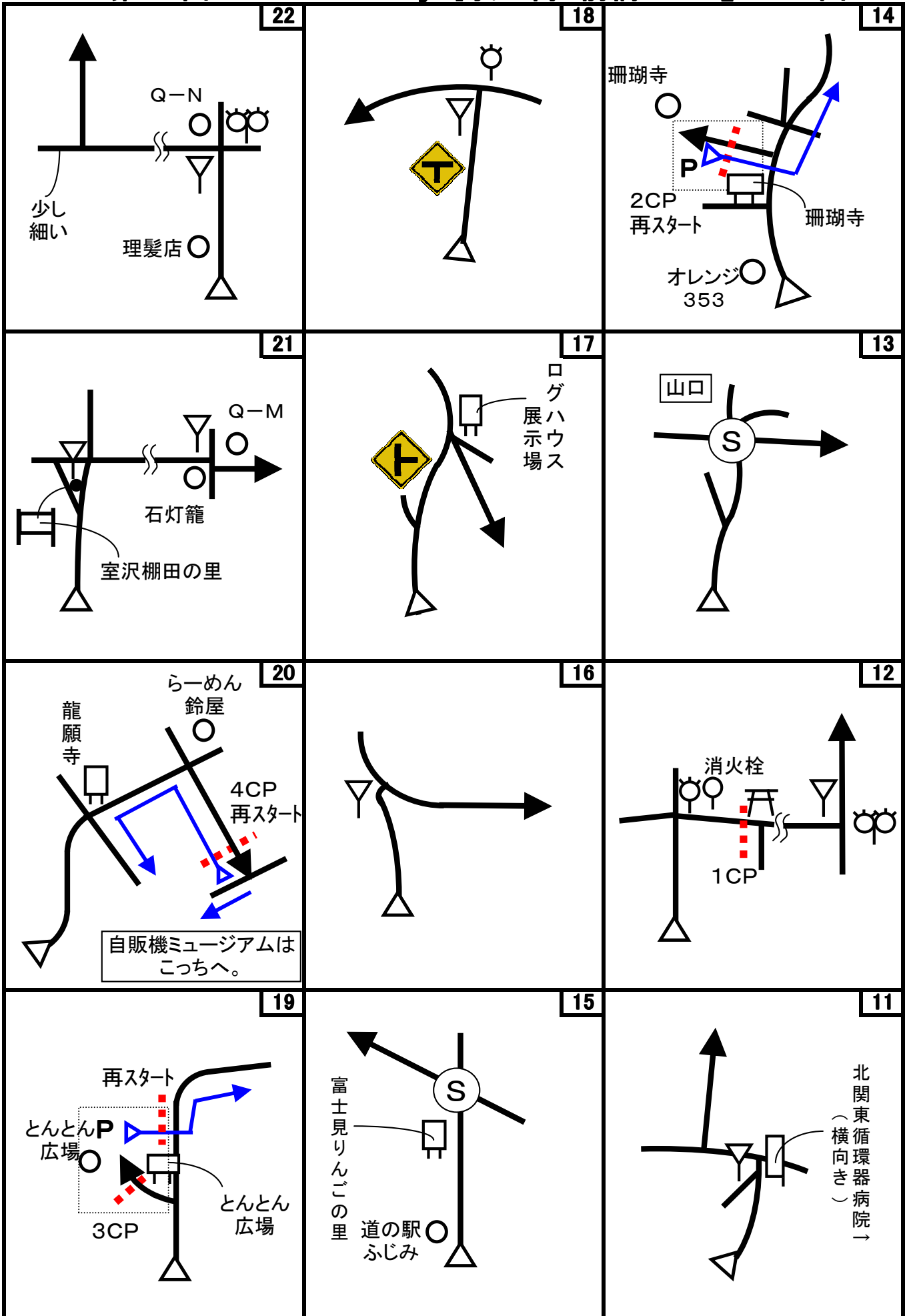


第50回 D-Wind Rally 『我が街 前橋 2013』 コマ図-1

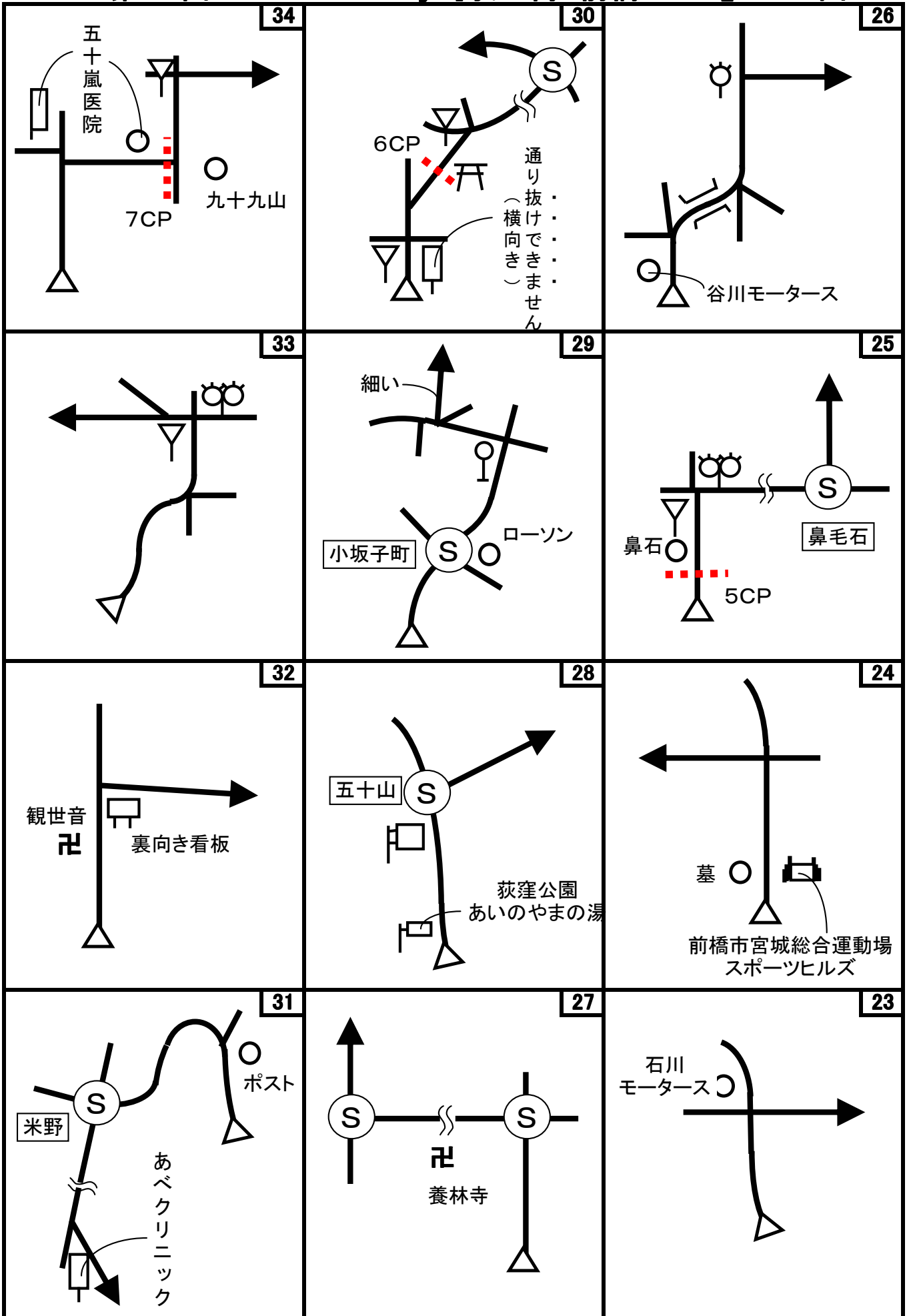


注) は、横断歩道があることだけを示しています。標識の詳細な違いは無視して下さい。

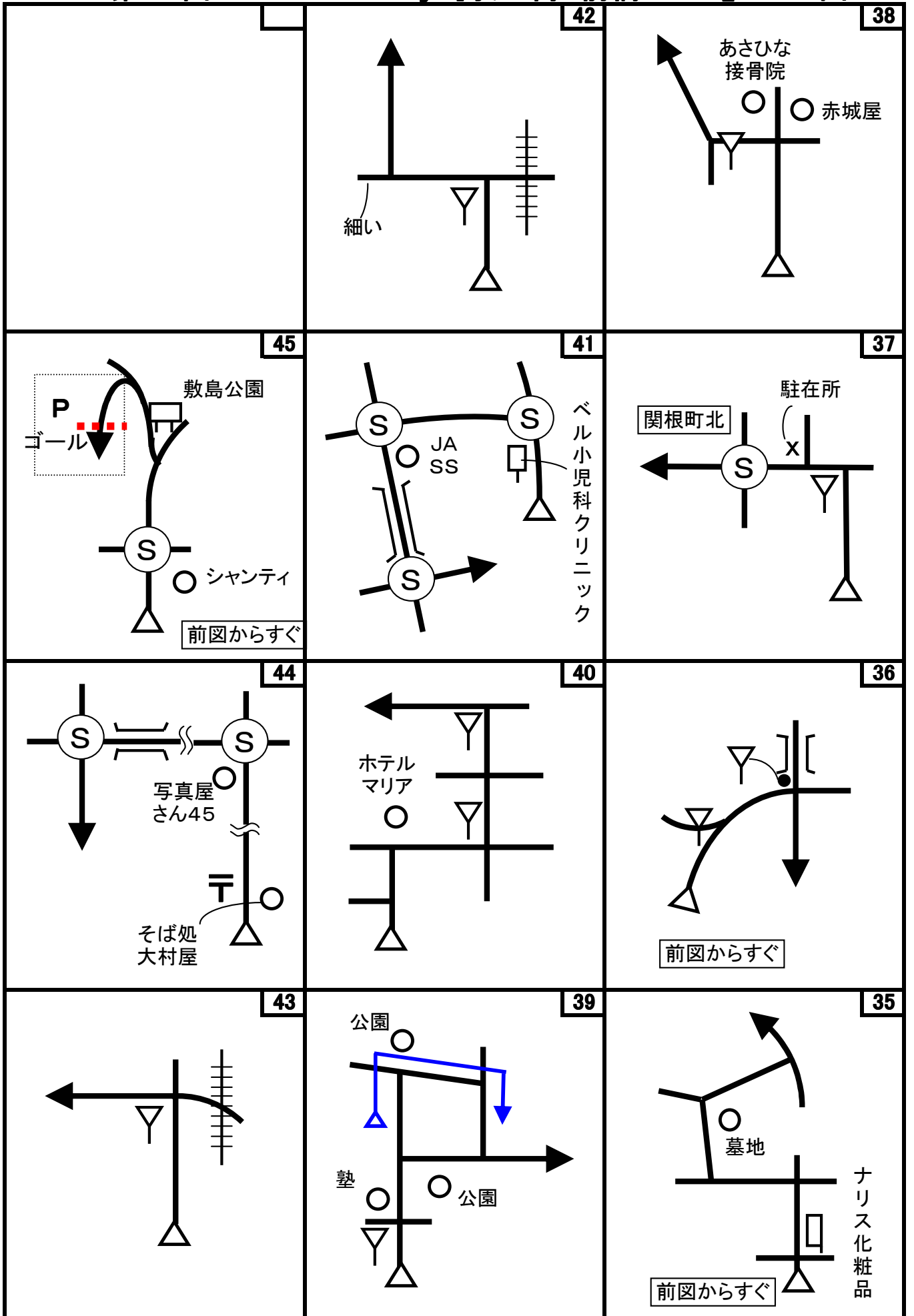
第50回 D-Wind Rally 『我が街 前橋 2013』 コマ図-2



第50回 D-Wind Rally 『我が街 前橋 2013』 コマ図-3



第50回 D-Wind Rally 『我が街 前橋 2013』 コマ図-4



第50回D-Wind Rally 『我が街 前橋 2013』 checkpoint-1

Start



1図 『前橋駅』 駐車場出口
「右折禁止」標識
速やかにスタートしてください。

OD-in



7図 左手の電柱
「この先通り抜けできません」看板あり
ここまで 7.884 km

OD-out



7図 駐車場出口
仮設アーチェリー場の右手の木製フェンス

1CP



12図 鳥居手前のグレーチング
交差点内なので速やかに右折した先にある駐車スペースに移動のこと。再スタートは同じ場所から。

2CP



14図 『珊瑚寺』駐車場
左手の石碑の中央
再スタートはUターンして同じ場所から。

3CP-in



19図 『とんとん広場』
舗装駐車場への入口手前にある左手の木

3CP-out



19図 『とんとん広場』
駐車場出口、手前のグレーチング

4CP



20図 T字路手前のグレーチング
再スタートはUターンして同じ場所から。
※問題BQ-1は右手へ。問題Kは左手にあります。

5CP



25図 左手の電柱
「宮城幹右1/97」の表示あり

6CP



30図 右手の木

速やかに神社境内にある駐車スペースに移動のこと。再スタートは同じ場所から。

7CP



34図 路面の停止線

速やかに右手前にある駐車スペースに移動のこと。再スタートは同じ場所から。

FCP



45図 『敷島公園』駐車場左手の外灯

お疲れ様でした！

第50回 D-Wind Rally 『我が街 前橋 2013』

問題-1

問題1 (距離言スタートからゴールまでの各CP間の距離を計測して下さい。)

- ◇エンジョイクラス: 四捨五入して、100m単位で答えて下さい。(0.1kmの誤差で減点1点)
- ◇ダンガンクラス : 四捨五入して、10m単位で答えて下さい。(0.01kmの誤差で減点1)

問題2

問題A=スタート~OD 減点=3点 コース上に次の施設が現れる順番に並べよ。									
問題B=スタート 減点=3点 前橋駅前にある商業施設『EKITA』の名前の意味は2つあり、1つは「前橋駅の北」の『駅北』であるが、もう1つは何か？漢字2文字で答えよ。商業施設である事から考えてください。		問題C=スタート 減点=3点 前橋駅前にあるこの石碑に関するモノが出てくるのは、何図先でそれは何か？		問題D=スタート 減点=3点 前橋駅前にある「JR前橋駅広域案内図」には、JRの駅がいくつ描かれているか？					
									
問題E=スタート 減点=3点 前橋駅前にある「バス・タクシーのりば案内図」によると、今回のコースのゴール(敷島公園)に行くには、何番乗り場から出るバスに乗れば良いか？		問題F=OD 減点=3点 「群馬県総合スポーツセンター案内図」によると、群馬県総合スポーツセンターの大部分の施設に専用の駐車場があるが、専用の駐車場が無い施設は何か？		問題G=1CP 減点=3点 米野故郷公園入口にある「竣工記念碑」裏面の役員芳名に名がある「副工区長・石関好克」さんは、故郷公園が出来た時の肩書は何か？ ※竣工記念碑の裏は花壇になっている様です、絶対踏まないように！					
									
問題H=1CP 減点=3点 赤城神社に昭和40年6月に奉納された『福寿会発会記念六十五歳以上』に名前がある方で、昭和50年11月に奉納されたものにも名前がある人は何人いるか？		問題I=2CP 減点=3点 『珊瑚寺七不思議』の1つ「赤面観音」の説明板の内容を实践するのに必要な道具は何か？		問題J=3CP 減点=3点 とんとん広場の「手づくり福豚工房」で作られているウインナーの仕上がり中心温度は、ベーコンのそれより何度高いか、低いか？					
									

第50回 D-Wind Rally 『我が街 前橋 2013』

問題-2

<p>問題K=4CP 減点=3点</p> <p>「森の中の工場～サンデン・フォレスト～」の説明看板によると、サンデンフォレストを造成する際、伐採した木の数と、植樹した木の数ではどちらが何本多いか？</p> 	<p>問題L=20図先 減点=3点</p> <p>「ここは室沢棚田の里 室沢新沼(大林沼)」の案内板がある場所と、21図の間の平均勾配は何%か？ 標高はそれぞれの場所で見られる情報で計算し、四捨五入して整数で答えよ。</p> 	<p>問題M=21図 減点=3点</p> <p>「宮城村の文化財(苗ヶ島地区)」の案内板にある施設などの内、明らかに今日現在訂正すべきものを訂正せよ。</p> 
<p>問題N=22図 減点=3点</p> <p>『上電バス開通記念碑』によると、バスの待合所のために敷地を寄付したのは誰か？</p> 	<p>問題O=6CP 減点=3点</p> <p>八幡宮の「社殿屋根修復記念碑」によると、工事費として3千円を寄付した人は何人いるか？</p> 	<p>問題P=7CP 減点=3点</p> <p>7CPの近くにある九十九山山頂にあるこの石碑は早くとも西暦何年の何月何日に建てられたものか？</p> 
<p>問題Q=35図 減点=3点</p> <p>『船津伝次平の墓』の説明板によると、伝次平は何歳で死去したか？ 満年齢で答えよ。</p> 	<p>問題R=38図先 減点=3点</p> <p>地元で「万里の長城」と呼ばれている施設と、39図にある「吹上げ」と呼ばれる施設の間は、どの様な構造または原理を使って結ばれているか？</p> 	<p>問題S=40図 減点=3点</p> <p>ホテルマリアの屋上にあるネオンサインは、ある工夫がされている。何のためにどの様にしているか？「遠くから見える様に」ではなく、なるべく具体的に教えてください。部分減点あり。</p> 
<p>問題T=FCP 減点=3点</p> <p>「敷島公園案内図」によると、敷島公園では同時に何チーム(少年野球も含む)が野球の試合ができるか？</p> 	<p>問題BQ-1=OD ボーナス点=1点</p> <p>群馬県総合スポーツセンターの「本館棟」のロビーにあるこの作品に私は作品名を付けたが、何と名付けたか？ 作成者と同じ答えを正解とする。 ※群馬総合スポーツセンターは月曜日休館です。また、早朝は施錠されています。</p> 	<p>問題BQ-2=4CP ボーナス点=1点</p> <p>『わくわく自販機ミュージアム』に展示されている「サンデンからくり改善作品」は何を利用した「からくり」か？ ※『わくわく自販機ミュージアム』は日、月曜日が休館です。また、早朝は入れません。詳細についてはコース案内を確認してください。</p> 

第50回 D-Wind Rally 『我が街 前橋 2013』

問題-3

問題3 X問題

コース上のどこかに出てきます。

◇エンジョイクラスは、問題X-1~X-7は、解答不要です。

◇ダンガンクラスは、全て解答して下さい。

※問題Xは、X-7を除いて、X-1~6は順番に出てきます。

<p>問題X-1</p>	<p>減点=3点</p>	<p>問題X-2</p>	<p>減点=3点</p>	<p>問題X-3</p>	<p>減点=3点</p>
<p>この滝の上流の流れは、何川を模したものと思われるか？</p>		<p>この看板は、何という会社のものか？</p>		<p>この広場は、いつの何を受けて整備されたものか？</p>	
					
<p>問題X-4</p>	<p>減点=3点</p>	<p>問題X-5</p>	<p>減点=3点</p>	<p>問題X-6</p>	<p>減点=3点</p>
<p>これは、誰または何をモチーフにしたものか？ 画像は一部処理しています。</p>		<p>ここに過去あったものは何で、何年間あったか？ その年を1年間として計算してください。進行方向右手前方にあります。</p>		<p>この九頭龍様は何神社の何神様を勧請したものか？</p>	
					
<p>問題X-7</p>	<p>減点=3点</p>				
<p>これは何か？</p> 					

第50回 D-Wind Rally 『我が街 前橋 2013』

解答用紙 (クラス：・ダンガン ・エンジョイ)

チーム名				使用車種			
ドライバー				ナビゲータ			
走行日時	()		:	~	:	天候	
成績結果 送付先	住所:〒						
	氏名:				TEL : () -		

問題1 解答欄 (・ダンガンクラス: 0.01km単位で記入 ・エンジョイクラス: 0.1km単位で記入)

	解 答	減 点		解 答	減 点
スタート~1CP	km		5CP~6CP	km	
1CP~2CP	km		6CP~7CP	km	
2CP~3CP	km		7CP~FCP	km	
3CP~4CP	km			km	
4CP~5CP	km		問題1 減点計		

問題2 解答欄

	解 答	減 点		解 答	減 点
問題A			問題P		
問題B			問題Q		
問題C			問題R		
問題D			問題S		
問題E			問題T		
問題F			問題BQ-1		
問題G			問題BQ-2		
問題H			問題X-1		
問題I			問題X-2		
問題J			問題X-3		
問題K			問題X-4		
問題L			問題X-5		
問題M			問題X-6		
問題N			問題X-7		
問題O			問題2 減点計		

集計

申込みNo.	解答用紙受付日	問題1減点	問題2減点	減点合計	順位