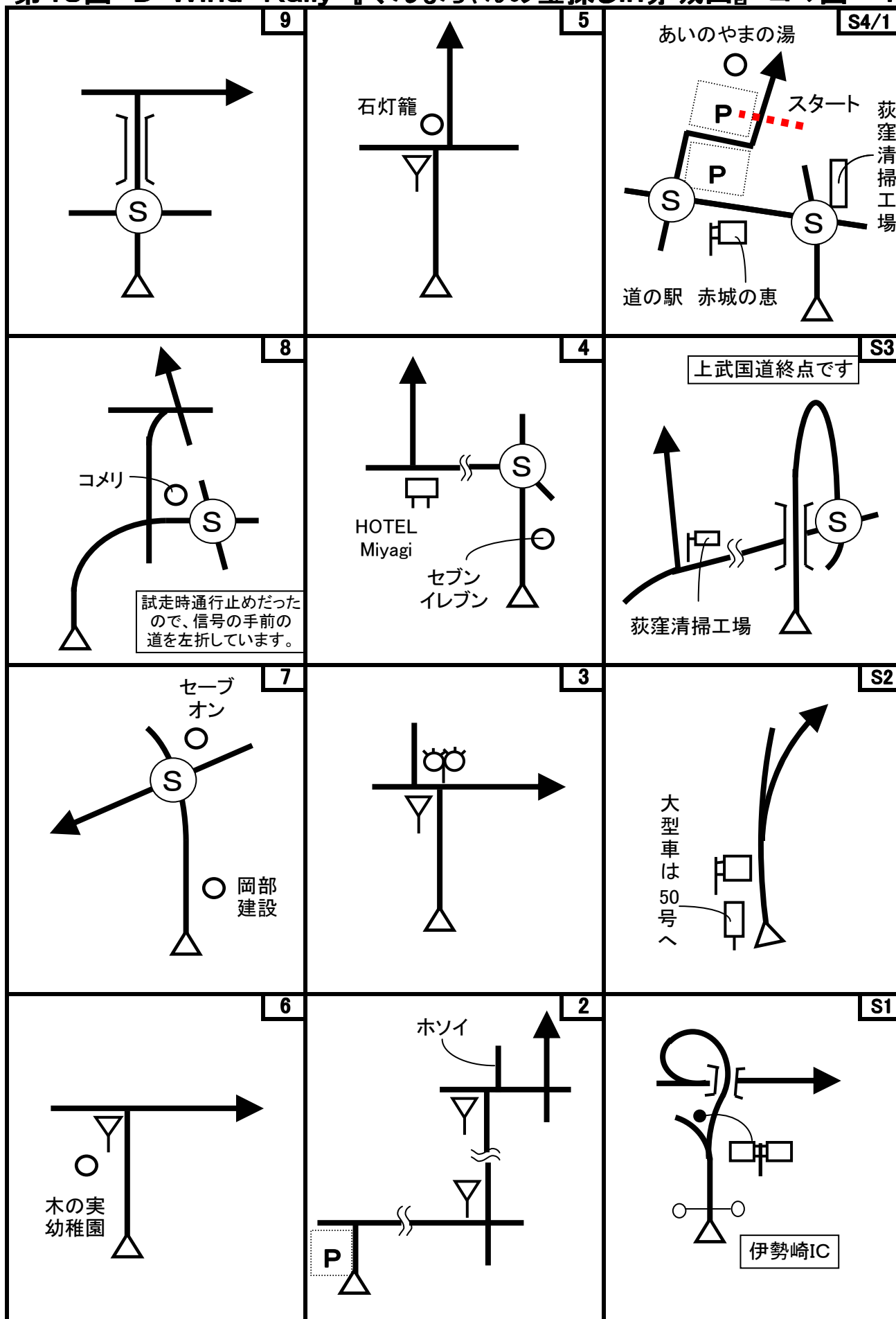
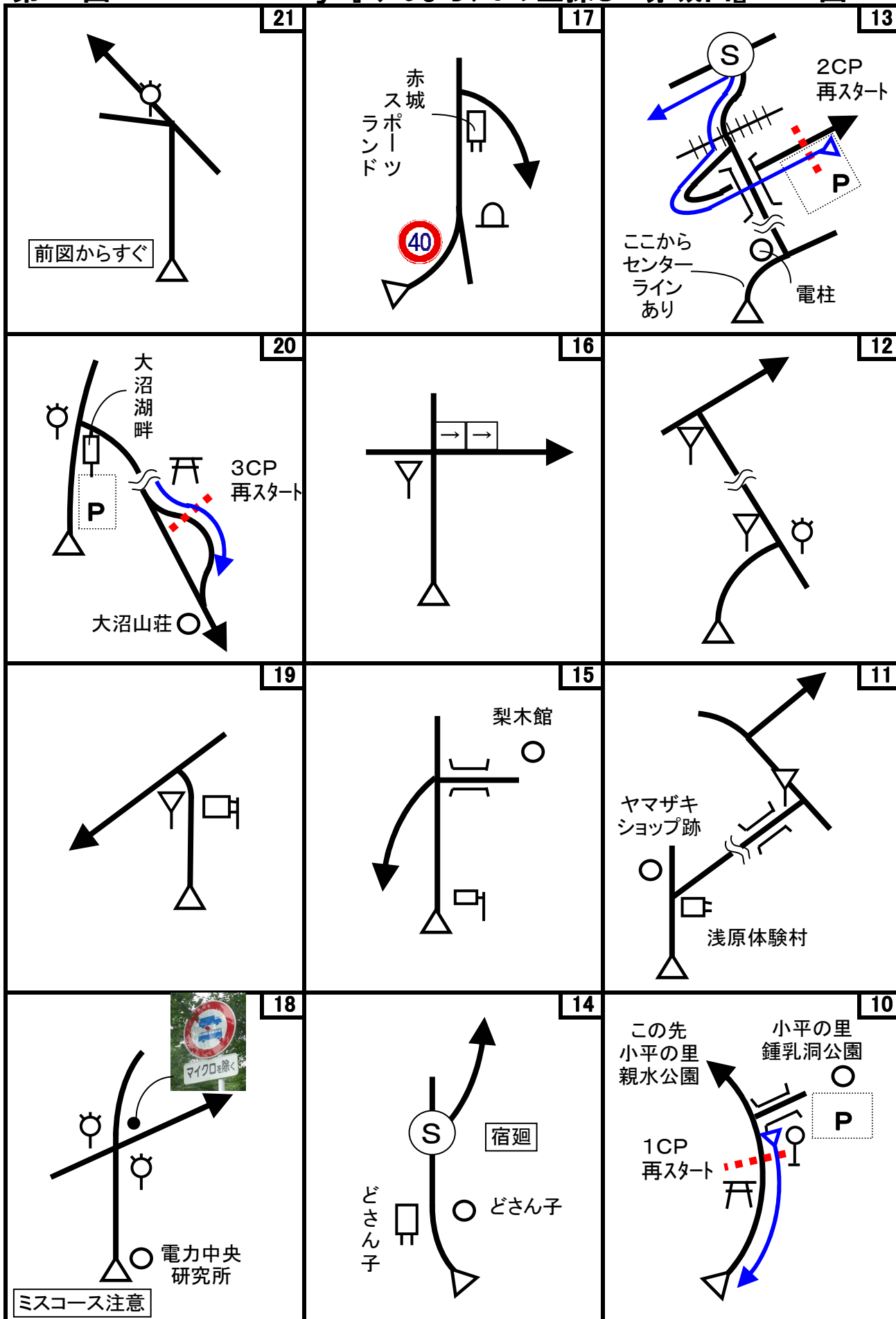


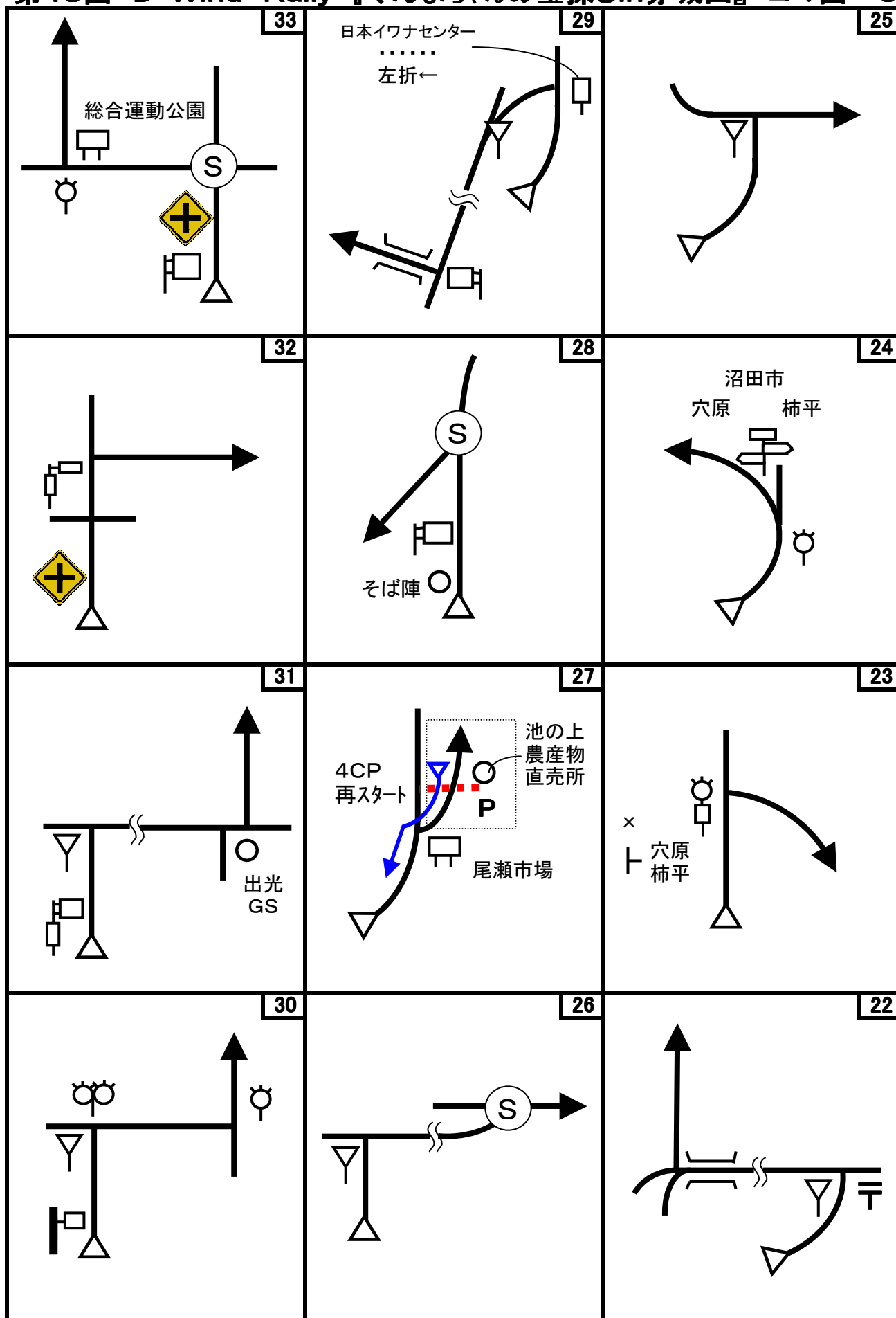
# 第48回 D-Wind Rally 『ぐんまちゃんの宝探しin赤城山』 コマ図-1



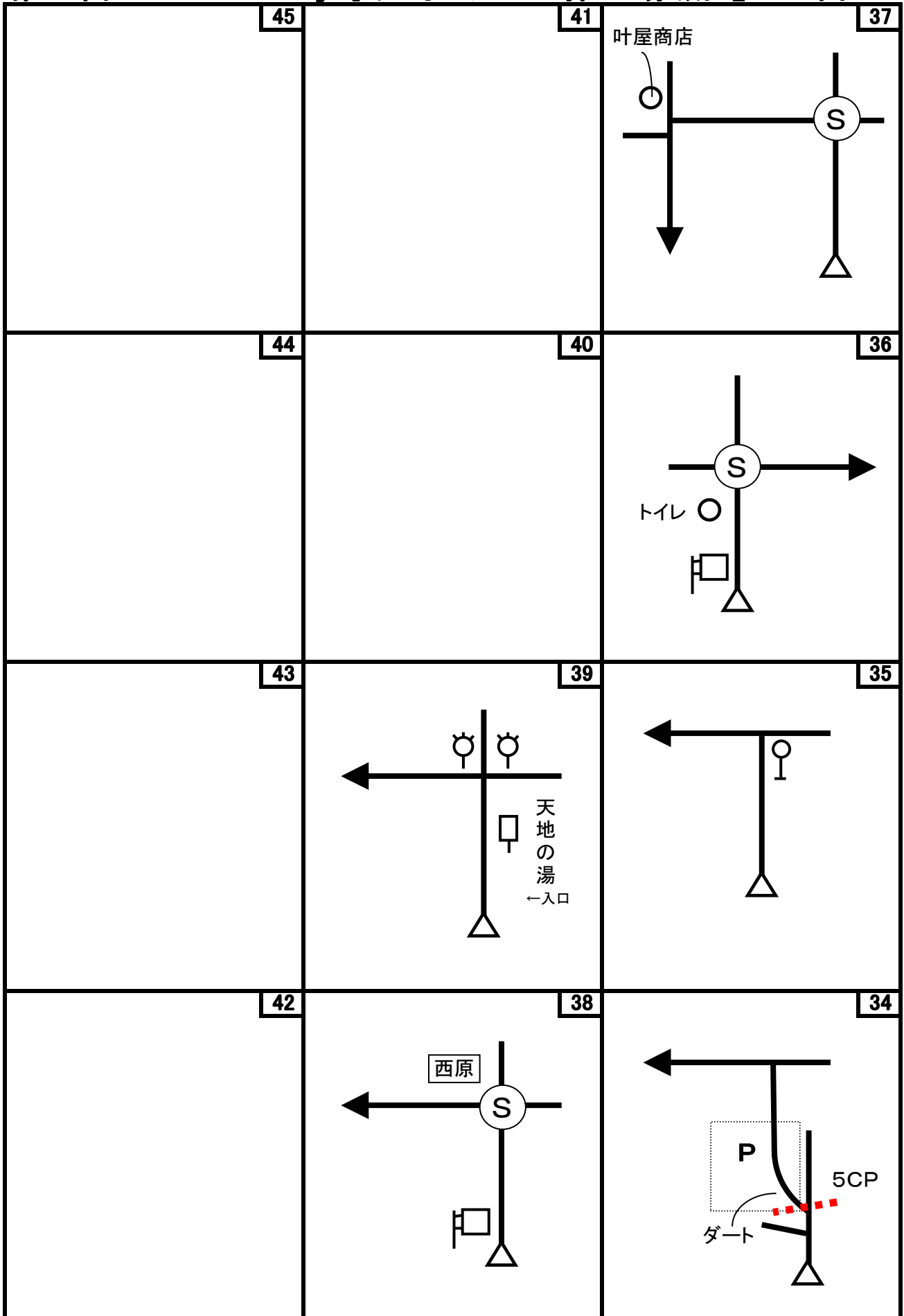
# 第48回 D-Wind Rally 『ぐんまちゃんの宝探しin赤城山』 コマ図-2



# 第48回 D-Wind Rally 『ぐんまちゃんの宝探しin赤城山』 コマ図-3



第48回 D-Wind Rally 『ぐんまちゃんの宝探しin赤城山』 コマ図-4



第48回 D-Wind Rally 『ぐんまちゃんの宝探しin赤城山』 checkpoint

Start	OD	1CP
		
<p>1図 『道の駅赤城の恵』(あいのやまの湯) 左手の駐車場案内看板</p>	<p>4図先『みやぎふれあい広場』 駐車場前 左手の木製の柱 ここまで 7.139 km</p>	<p>10図 『小平の里』 左手の案内看板(再スタートはUターンして同じ場所から) 『赤城山宝玉之地図』のナゾ(暗号)を解き、宝玉がある公園の駐車場へ移動の事。</p>
2CP	3CP	4CP
		
<p>13図 『黒保根運動公園』駐車場前 右手の垣根の手前角(再スタートは、Uターンして同じ場所から)</p>	<p>20図 『大沼湖畔』 右手の木</p>	<p>27図 『尾瀬市場』駐車場 左手の電柱 右手に「池の上農産物直売所」あり(再スタートはUターンして同じ場所から)</p>
5CP	FCP	
		
<p>34図 『総合運動公園』駐車場入口 左手の電柱</p>	<p>39図先 『天地の湯』 右手の電柱</p>	

# 第48回 D-Wind Rally 『ぐんまちゃんの宝探しin赤城山』

問題-1

問題1 (距離言スタートからゴールまでの各CP間の距離を計測して下さい。)







◇エンジョイクラス: 10mの位は四捨五入して、100m単位で答えて下さい。

(0. 1kmの誤差で減点1点)

◇ダンガンクラス : 1mの位は四捨五入して、10m単位で答えて下さい。

(0. 01kmの誤差で減点1)

問題2 今回は、問題はエンジョイクラスもダンガンクラスも共通です。エンジョイクラスも全て解答して下さい。

<p>問題A=全区間 減点=1点/1つ</p>	<p>問題B=全区間 減点=1点/1つ</p>
<p>宝玉が隠された場所で見つけたキーワードをすべて答えよ。</p>	<p>次のモノが出てくる順番を答えよ。(コース上または、宝玉を探しに行く途中にあります)</p> <div style="display: flex; justify-content: space-around;"> <div style="text-align: center;"> <p><b>A</b></p>  </div> <div style="text-align: center;"> <p><b>B</b></p>  </div> <div style="text-align: center;"> <p><b>C</b></p>  </div> </div>
<p>問題C=全区間 減点=3点</p>	
<p>コース上に「白」⇒「赤」とあるモノが連続する所がある。それは何で、何図先にあるか?</p>	<div style="display: flex; justify-content: space-around;"> <div style="text-align: center;"> <p><b>D</b></p>  </div> <div style="text-align: center;"> <p><b>E</b></p>  </div> </div> <div style="text-align: center; margin-top: 20px;"> <p><b>F</b></p>  </div>