

第40回 D-Wind Rally

問題 - 3

『栄枯盛衰』

問題X - 2 ~ 7は、今回は順番に出てきます。

問題X - 1

減点 = 3点

スタートからゴールまでの間に、わたらせ渓谷鉄道と何度交差するか？

問題X - 2

減点 = 3点

この大杉は樹齢約千年を經過していると推測されているが、何をもちて推測しているか？



問題X - 3

減点 = 3点

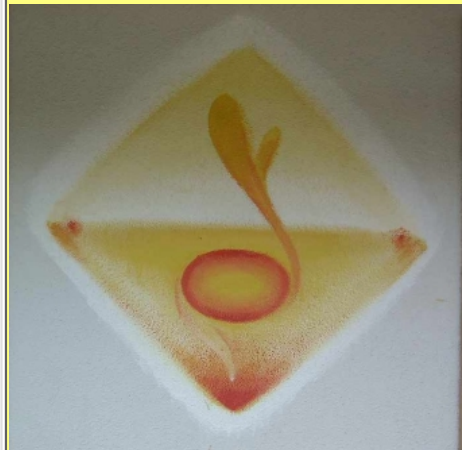
この石碑が建立された年月は？



問題X - 4

減点 = 3点


これは何という施設のどこにあるか？



問題X - 5

減点 = 3点


この石像は、何という名前の構造物の近くにあるか？



問題X - 6

減点 = 3点

この地にあった水力発電所の鉄管の直径に比して、沢入発電所のそれは何倍か？ 四捨五入して整数で答えよ。



問題X - 7

減点 = 3点

この廃橋と道をはさんで反対側にある岩肌を開いた多数の穴は、何の跡か？

